

الدرس التمهيدي

تدريب رقم (١)

التغيرات على الخريطة السياسية

١:- اى من الدول التالية ظهر في نهاية الالقية الثانية.....

أ	جورجيا	ج	رومانيا
ب	البحر	د	النرويج

٢:- ترتب على تفكك الاتحاد السوفيتي على زيادة عدد الدول المشرفة على

أ	البحر الاسود	ج	بحر المانش
ب	البحر الكاريبي	د	البحر الميت

٣:- ترتب على التغيرات السياسية التي حدثت في خريطة العالم السياسية اواخر القرن العشرين الى زيادة عدد الوحدات السياسية المشرفة على

أ	بحر قزوين	ج	البحر الاحمر
ب	البحر العربي	د	بحر الشمال

٤:- ترتب على تفكك الاتحاد السوفيتي الى

أ	تناقص مساحة قارة آسيا	ج	تناقص عدد الوحدات السياسية في آسيا
ب	زيادة مساحة قارة آسيا	د	زيادة عدد الوحدات السياسية في آسيا

٥:- التغيرات التي شهدتها خريطة العالم السياسية في نهاية الألفية الثانية ترتب عليها زيادة عدد الدول المجاورة للبعض الدول ويخرج عنها تلك الدول

أ	تركيا	ج	منغوليا
ب	ايران	د	الهند

٦:- الدولة التي تأثرت حدودها السياسية بالتغيرات السياسية التي شهدتها خريطة العالم السياسية في نهاية الألفية الثانية

أ	منغوليا	ج	كوريا الجنوبية
ب	اليابان	د	افغانستان

٧:- اكبر الوحدات السياسية من حيث القوة المورفولوجية التي ظهرت نتيجة التغيرات السياسية في خريطة العالم السياسية في نهاية الألفية الثانية تشرف على

أ	البحر الاسود	ج	بحر المانش
ب	البحر الكاريبي	د	خليج هدسن

٨: معظم التغيرات التي حدثت في نهاية الألفية الثانية في قارتي آسيا وأوروبا تقع

جنوب مدار السرطان	⊖	شرق خط جرينتش	أ
جنوب دائرة الاستواء	⊕	غرب خط جرينتش	ب

٩- معظم التغيرات التي حدثت في نهاية الألفية الثانية وقعت على الحدود السياسية للاتحاد السوفيتي على حدودها

الجنوبية الشرقية	⊖	الشمالية الشرقية	أ
الشمالية الغربية	⊕	الجنوبية الغربية	ب

١٠ ترتب على تفكك الاتحاد السوفيتي على زيادة عدد الدول المجاورة لدولة

اليابان	⊖	بولندا	أ
الهند	⊕	كوريا الشمالية	ب

١١: أي من الدول التالية ظهرت في نهاية الألفية الثانية

جنوب السودان	⊖	أوكرانيا	أ
فنلندا	⊕	السويد	ب

١٢: القاسم المشترك بين التغيرات السياسية على الخريطة السياسية في جنوب غرب آسيا وغرب أوروبا في

ثبات عدد الوحدات السياسية	⊖	زيادة عدد الوحدات السياسية	أ
تناقص مساحة الوحدات السياسية	⊕	تناقص عدد الوحدات السياسية	ب

١٣: اندماج اليمن الشمالي والجنوبي في دولة واحدة أدى إلى

تناقص عدد الوحدات السياسية لجارة للسلطنة عمان	⊖	زيادة عدد الوحدات السياسية لجارة للسعودية	أ
تناقص عدد الوحدات السياسية للدول المشرفة على البحر	⊕	تناقص عدد الوحدات السياسية لجارة للسعودية	ب

١٤: ترتب على انقسام السودان ما بين السودان الشمالي والسودان الجنوبي زيادة عدد الدول المجاورة لـ

تشاد	⊖	ارتيريا	أ
كينيا	⊕	اثيوبيا	ب

١٥: جميع الدول التالية كانت في الأساس ذات صبغة اشتراكية يخرج عنها

بيلاروسيا	⊖	كروانبا	أ
اسبانيا	⊕	جورجيا	ب

١٦: (جورجيا - اوزبكستان - بيلاروسيا - لانفتا) القاسم المشترك بين هذه الدول

سهولة الاتصال بالعالم الخارجى	⊖	ظهورهما كدول واحدة في آن واحد
الاشراف على مواقع استراتيجية	⊕	سهولة الاحتكاك الحضاري

١٧: أكثر قارات العالم شهدت العديد من التغيرات السياسية في اواخر الالفية الثانية قارة

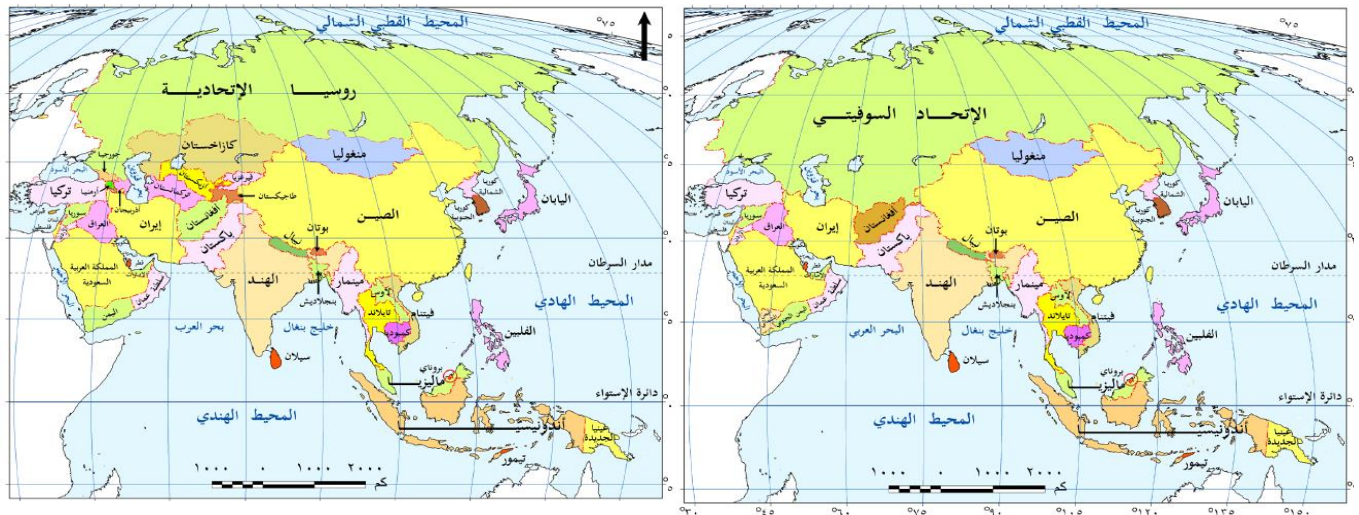
أوروبا	⊖	استراليا
امريكا الشمالية	⊕	امريكا الجنوبية

١٨: (أحد اسباب النزاع بين روسيا واوركرانيا يرجع الى رغبة اوكرانيا في الانضمام لحلف الناتو)

في ضوء العبارة استنتج في حالة خروج لاجئين من اوكرانيا فإن اقرب الدول لاستقبالهم هي

صربيا	⊖	التشيك
النمسا	⊕	بولندا

١٩: استنتج من خلال الخريطةين التي امامك اهم الدول التي طرأ تغير على حدودها السياسية نتيجة للتحكك الاتحاد السوفيتي



منغوليا والصين	⊖	العند وكوريا الجنوبية
باكستان وبنغال	⊕	بولندا ورومانيا

٢٠: شهد خريطة العالم السياسية العديد من التغيرات على العديد من المسطحات المائية يخرج عنها

بحر قزوين	⊖	خليج هدسن
بحر الشمال	⊕	البحر الاسود

٢١: دول تعرضت معظم حدودها للاحتفاء في نهاية الالفية الثانية

المانيا	⊖	منغوليا
الاتحاد السوفيتي	⊕	فرنسا

٢٢: من خلال تحليلك لخريطة أوروبا بعد الحرب العالمية الثانية (١٩٤٥) وخريطة أوروبا بعد الحرب العالمية الثانية يتضح ان اي من التغيرات التالية طرأت على الحدود الشمالية والشرقية لأى من الدول التالية



منغوليا والسويد	⊖	بولندا ورومانيا	Ⓐ
فرنسا وإيطاليا	⊕	استونيا لاتفيا	Ⓑ

٢٣: من خلال تحليلك للخريطة المقابلة نستنتج ان انقسام دولة تشيكوسلوفاكيا الى دولتين التشيك وسلوفاكيا ادى الى زيادة عدد الدول المجاورة



النمسا والمجر	Ⓐ
المانيا وأوكرانيا	Ⓑ
بولندا والنمسا	Ⓒ
المانيا والنمسا	Ⓓ



٢٤: من خلال تحليلك للخريطة المقابلة نستنتج ان الاثر الناتج عن ظهور دولة جنوب السودان بالنسبة للدولة السودان

صعوبة اتصال السودان بالعالم الخارجي	Ⓐ
زيادة عدد الدول المجاورة للدولة تشاد	Ⓑ
تناقص عدد الدول المجاورة لأثيوبيا	Ⓒ
اختفاء حدودها السياسية مع كينيا واوغندا والكونغو	Ⓓ

٢٥: ترتب على التغيرات السياسية في جنوب غرب آسيا في العقد الاخير من القرن العشرين الى



تناقص عدد الدول المشرفة على البحر العربي	Ⓐ
تناقص عدد الدول المجاورة لسلطنة عمان	Ⓑ
تناقص مساحة دول جنوب غرب آسيا	Ⓒ
زيادة عدد الوحدات السياسية المجاورة للسعودية	Ⓓ

١- بمقارنة عدد الوحدات السياسية في اوربا قبل وبعد الحرب العالمية الاولى نتأكد من صدق آراء

سيجفريد	⊖	كيلين	Ⓐ
راتزل	ⓓ	ارسطو	Ⓑ

٢ :- الاضطراب الداخلية في دول السودان الشقيق تتعارض مع افكار

راتزل	⊖	كيلين	Ⓐ
ابن خلدون	ⓓ	ارسطو	Ⓑ

٣ :- ظهر علم الجغرافيا السياسية الحديثة في لأحدى الدول المشرفة على

البحر الاسود	⊖	بحر البلطيق	Ⓐ
خليج هدسن	ⓓ	بحر قزوين	Ⓑ

٤ :- ظهر علم الجغرافيا السياسية قديماً لإحدى الدول المشرفة على

البحر المتوسط	⊖	بحر البلطيق	Ⓐ
البحر الكاريبي	ⓓ	بحر قزوين	Ⓑ

٥ :- استطاعت اليابان رغم قلة مواردها ان تصبح من اكبر الدول الصناعية المتقدمة في العالم تتوافق العبارة مع آراء ..

راتزل	⊖	ابن خلدون	Ⓐ
كيلين	ⓓ	ارسطو	Ⓑ

٦ :- تمتلك الصين علاقات دولية في الماضي والحاضر بسبب امتلاكها قوة ديموغرافية واقتصادية تتوافق العبارة

سيجفريد	⊖	ارسطو	Ⓐ
ابن خلدون	ⓓ	كيلين	Ⓑ

٧ :- من خلال افكار ارسطو عن الدولة المثالية نلاحظ انه يركز في كتاباته علي

المشكلات الدولية	ⓓ	فكرة المجال الحيوي	Ⓐ
المقومات البشرية	ⓓ	العلاقات الدولية	Ⓑ

٨: اتفق آراء ابن خلدون وراتزل وارسطو ف وكيلين ي دراسة الدولة من حيث

الدراسة الاستاتيكية للوحدات السياسية	أ	دراسة الوحدات السياسية ككائن حي	د
الدراسة الديناميكية للوحدات السياسية	ب	دراسة المقومات والطبيعية للوحدة السياسية	د

٩: تشابهت أفكار بعض علماء الجغرافيا السياسية في النظر تجاه الدولة وظهر ذلك في كتابات كل من

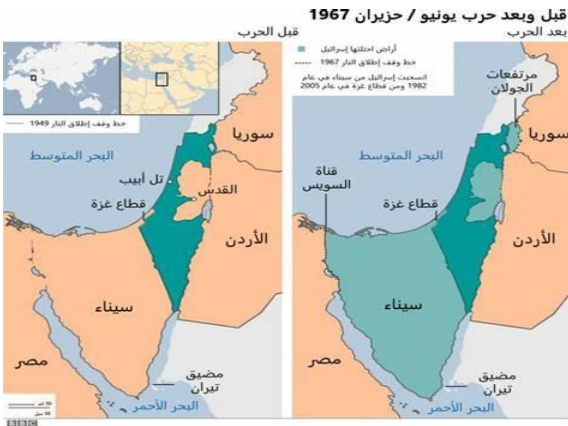
أرسطو وابن خلدون	أ	راتزل وأرسطو	ج
ابن خلدون وراتزل	ب	كيلين وابن خلدون	د

١٠: نجحت القوات المسلحة عام ١٩٧٣ في اقتحام مانع قناة السويس الصعب (العبارة السابقة اثبتت خطأ افكار

ابن خلدون	أ	راتزل	ج
أرسطو	ب	كيلين	د

١١: تلعب الصين تأثير ايجابي في العلاقات الدولية بفضل قوتها الاقتصادية وزنها السكاني من وجهة نظرك تتفق العبارة مع آراء

أ	راتزل	أرسطو	ج
ب	كيلين	ابن خلدون	د



١٢: خلال دراسة الخريطين نلاحظ التباين في الخريطين يتفق مع آراء

أ	راتزل	أرسطو	ج
ب	سيجفريد	ابن خلدون	د

١٣: ارتفعت حصيلة الفيضانات العارمة التي تضرب أفغانستان في الأمانة الاخيرة جراء الأمطار الغزيرة إلى ٣١ قتيلا تؤكد العبارة

على صدق آراء

أ	كيلين	راتزل	ج
ب	ارسطو	ابن خلدون	د

١٤ :- لم تسقط الأندلس بسهولة ، حيث مرت بمراحل من التآلق والعظمة ، الإنتاج والعطاء ، ثم بدأت تسقط تدريجيا
تتوافق العبارة مع آراء

سيجفريد	⊖	كيلين	Ⓐ
ابن خلدون	ⓓ	ارسطو	Ⓑ

١٥ :- (شهد العقد الثالث من الالفية الثالثة اجتياح روسيا لاوكرانيا) تجسد العبارة السابقة افكار.....

ابن خلدون	⊖	كيلين	Ⓐ
سيجفريد	ⓓ	ارسطو	Ⓑ

١٦ :- شگلت منطقة الشرق الأوسط عامة، والمنطقة العربية على الخصوص، نقطة استقطاب استراتيجية منذ سنوات طويلة للعديد من الدول، التي تتنافس في من اجل السيطرة على مصادر الطاقة، (تتماشى العبارة السابقة مع آراء

راتزل	⊖	ابن خلدون	Ⓐ
كيلين	ⓓ	ارسطو	Ⓑ

١٧ :- أول من تناول للدولة من منظور اجتماعي من خلال بناءها السياسي كان من افكار الموجودة في

كتاب الجغرافيا السياسية	⊖	كتاب السياسة	Ⓐ
كتاب الجغرافيا الانتخابات	ⓓ	كتاب مقدمة التاريخ	Ⓑ

١٨ :- كان الصراع بين الولايات المتحدة الامريكية وروسيا في ليبيا يحمل في طياته رغبة كلا منهما في الاستيلاء على بترول ليبيا هذا يجسد آراء

ارسطو	⊖	كيلين	Ⓐ
سيجفريد	ⓓ	ابن خلدون	Ⓑ

١٩ :- رغبة شركات البترول الاوربية والامريكية في الاستيلاء على بترول دول الخليج العربي يعبر عن

ارسطو	⊖	كيلين	Ⓐ
سيجفريد	ⓓ	ابن خلدون	Ⓑ

٢٠ :- (قام احد الباحثين بدراسة تأثير السلوك السياسي في تغيير الأبعاد الجغرافية للدولة تأثير تلك الدراسة على تغير ملامح التي طرأ على الحدود السياسية للدول) ساعد على ابراز أهمية هذه الدراسة

الاقتصاد	⊖	السياسة	Ⓐ
الجغرافيا السياسية	ⓓ	الجيوپولتيك	Ⓑ

٢١:- "الحدود ليست نهاية الدولة ولكنها محطة من محطات نمو الدولة فكلما كبرت احتياجات الدولة حق لها ان تلتمهم جيرانها " تنطبق العبارة السابقة على آراء

كيلين	Ⓐ	ابن خلدون	Ⓐ
سيجفريد	Ⓑ	ارسطو	Ⓑ

٢٢ اول من تناول تأثير العلاقة بين الجوانب الطبيعية والبشرية على الدولة كان من افكار الموجودة في

كتاب السياسة	Ⓐ	كتاب الجغرافيا السياسية	Ⓐ
كتاب مقدمة التاريخ	Ⓑ	كتاب الجغرافيا الانتخابات	Ⓑ

٢٣: تشابهت افكار ابن خلدون وراتزل حول الدولة من حيث

نتائج سقوطها	Ⓐ	عوامل قوتها	Ⓐ
اسباب قوتها	Ⓑ	مراحل تطورها	Ⓑ

٢٤:- ظهر علم الجغرافيا السياسية كعلم مستقل بفضل مجهودات احد عالم لأحدى الدول المشرفة على

بحر الشمال	Ⓐ	خليج المكسيك	Ⓐ
بحر قزوين	Ⓑ	البحر الاسود	Ⓑ

٢٥:- العالم الذي وجّه الانظار إلى مدى تمتع الدولة بقوتها بناء على ما تملكه من ثروات الطبيعية والبشرية هو

ابن خلدون	Ⓐ	كيلين	Ⓐ
ارسطو	Ⓑ	راتزل	Ⓑ

٢٦:- إن لجوء بعض دول الخليج العربي لعقد تحالفات عسكرية مع دول كبرى لحمايتها تتعارض مع فكرة الدولة النموذجية عند

ابن خلدون	Ⓐ	كيلين	Ⓐ
ارسطو	Ⓑ	راتزل	Ⓑ

٢٧:- التحولات التي حدثت في شرق البحر الادرياتي في نهاية القرن العشرين يؤكد صحة آراء

ارسطو	Ⓐ	ابن خلدون	Ⓐ
كيلين	Ⓑ	سيجفريد	Ⓑ

٢٨:- طبقت فكرة امتداد المجال الحيوي للدولة على يد

علماء السويد	Ⓐ	قادة الامريكان	Ⓐ
علماء العرب	Ⓑ	علماء الاغريق	Ⓑ

٢٩:- انهار سهول سيبيريا أقصى شمال روسيا الاتحادية عديمة القيمة بسبب موقعها الفلكي (تجسد العبارة السابقة اراء

راتزل	⊖	ابن خلدون	Ⓐ
كيلين	ⓓ	أرسطو	Ⓑ

٣٠:- وهب الله سبحانه وتعالى مصر بالعديد من الصحارى التى كانت بمثابة الدرع الواقي لمصر من المعتدين "

تتطبق العبارة السابق مع افكار

راتزل	⊖	ابن خلدون	Ⓐ
كيلين	ⓓ	أرسطو	Ⓑ

٣١:- اهم النقد الموجة الى كتاب السياسة للعالم ارسطو

اغفال السلطة كاحد اركان الدولة	⊖	اهمال الجوانب الديموغرافية	Ⓐ
الاهتمام بالموقع والمناخ	ⓓ	التركيز على الحدود المحصنة	Ⓑ

٣٢:- ارتبط الخلط بين بين الجغرافيا السياسية و الجيوبولتيك في

توازن القوى السياسية	⊖	اشتعال الحرب الباردة	Ⓐ
استقرار الخريطة السياسية	ⓓ	تجنب خيارات السلام العالى	Ⓑ

٣٣:- المشكلة السكانية فى مصر تتوقف على اربع ابعاد اهمها عدم التوازن بي الزيادة السكانية والموارد المتاحة ، "

تتوافق العبارة السابقة مع اراء

ردلف كيلين	⊖	ابن خلدون	Ⓐ
راتزل	ⓓ	أرسطو	Ⓑ

٣٤:- توجد علاقة بين الجغرافيا السياسية والجيوبولتيك، لكنهما تختلفان من حيث دراسة...

النظرة الديناميكية للدولة	⊖	المقومات الطبيعية للدولة	Ⓐ
القوة المورفولوجيه للدولة	ⓓ	المقومات البشرية للدولة	Ⓑ

٣٥ : وجود الاكراد شمال العراق كأقلية لغوية تسعى دائما نحو الانفصال وتكوين دولة مستقلة يضعف قوة العراق سياسياً "

مضمون العبارة السابقة يتعارض مع افكار

كيلين	⊖	أرسطو	Ⓐ
ابن خلدون	ⓓ	راتزل	Ⓑ

٣٦ :- يمثل الأثر الناتج عن تفكك الاتحاد السوفيتي زيادة عدد الدول في

جنوب غرب آسيا وشمال غرب أوروبا	ج	شمال آسيا وشرق أوروبا	أ
وسط آسيا وشرق أوروبا	د	شرق آسيا وجنوب أوروبا	ب

مفهوم واهداف الجغرافيا السياسية

١- من خلال دراستك لمفهوم الجغرافيا السياسية استنتج الهدف النهائي من دراسة المقومات الطبيعية والبشرية للدولة لدولة ألمانيا التعرف على

قوتها السياسية	ج	نشاطها الاقتصادي	أ
نشاطها البشري	د	تنظيمها الداخلي	ب

٢ من خلال دراستك لمفهوم الجغرافيا السياسية استنتج الهدف النهائي من دراسة تضاريس دولة روسيا الاتحادية و التركيب النوعي للسكان التعرف على

قوتها السياسية	ج	نشاطها الاقتصادي	أ
نشاطها البشري	د	تنظيمها الداخلي	ب

٣ :- يظهر دور الجغرافيا السياسية التطبيقي نشر السلام والامن الدولتين في

جنوب البحر الكاريبي	ج	جنوب حوض البحر المتوسط	أ
شرق البحر الاسود	د	غرب البحر البلقاني	ب

٤ :- العبارة التي تشير الى علم الجغرافيا السياسية

دراسة تأثير الجغرافيا (الخصائص الطبيعية البشرية) في السياسة	ج	علم يهتم بدراسة الدول كائناً عضوياً في حركة متطورة	أ
العلم الذي يبحث عن الاحتياجات التي تتطلبها هذه الدولة لتنمو	د	دراسة تأثير السلوك السياسي في تغيير الأبعاد الجغرافية للدولة	ب

٥ :- نجحت الجغرافيا السياسية في منع مشكلات الاقليات في أوروبا في النصف الاول من القرن العشرين يدخل ضمن

مجالات الجغرافيا السياسية حديثاً	ج	أهداف الجغرافيا السياسية	أ
متغيرات النظام العالمي	د	مجالات الجغرافيا السياسية قديماً	ب

٦: يمثل العنصر المشترك بين اهداف الجغرافيا السياسية ونظم المعلومات الجغرافية في

توفير البيانات والمعلومات	⊃	التعرف على المشكلات السياسية	أ
تحليل التجمعات الاقليمية	⊃	دراسة الوحدات السياسية	ب

٧: توفير الحكومة المصرية اجهزة التابلت لطلاب المرحلة الثانوية يدخل ضمن دراسة

المقومات الطبيعية	⊃	التنظيم الداخلي	أ
المشكلات الدولية	⊃	العلاقات الدولية	ب

٨: نجاح العالم في التوصل الى توقيع لقاحات للقضاء على فيروس كورونا يؤكد على اهمية

التنظيم الداخلي	⊃	الاستشعار عن بعد	أ
العلاقات الدولية	⊃	التعرف بمشكلات السياسة	ب

٩: قام رجال السياسة في أوروبا باتخاذ اجراءات حاسمة لمنع تسلسل الهجرة غير الشرعية الى بلادهم " في ضوء تلك العبارة وضح ساعد رجال السياسة اتخاذ تلك الاجراءات الحاسمة علم

الاقتصاد	⊃	السياسة	أ
الجيوبولتيك	⊃	الجغرافيا السياسية	ب

١٠: اخذ علم الجغرافيا السياسية طابع العالمية والشمولية نتيجة لـ

التطلع الى اتساع الرقعة الارضية للدول	⊃	التغيرات التي طرأت على الخريطة السياسية	أ
دراسة المقومات الطبيعية والبشرية للدول	⊃	تحقيق الوحدة والتجانس بين الشعب الواحد	ب

١١: نستطيع اشتقاق مفهوم الجغرافيا السياسية من آراء

راتزل	⊃	ابن خلدون	أ
كيلين	⊃	أرسطو	ب

١٢: ما ضاع حق وراءه مطالب استفادت الجغرافيا السياسية من تلك العبارة في حل احد المشكلات الحدودية السياسية التي تقع

جنوب جزيرة صقلية	⊃	عند المدخل الغربي للبحر المتوسط	أ
على الخليج الغربي للبحر الاحمر	⊃	عند البوابة الشمالية الشرقية لقارة افريقيا	ب

١٣: في ضوء تحليلك لمفهوم الجغرافيا السياسية استنتج ان تولى المحيطات في الاشراف على مشروعات حياة كريمة يعبر عن

التنظيم الداخلي	⊃	المشكلات السياسية	أ
التحليل السياسي للقوة	⊃	العلاقات الخارجية	ب

١٤:- تهتم دراسة الجغرافيا السياسية على دراسة

مظاهر السطح و المناخ	⊖	شكل الدولة والتركيب النوعي
الحدود السياسية للجيش	⊖	النظام السياسي و العاصمة

١٥:- ساهمت الجغرافيا السياسية فى حل العديد من المشكلات السياسية بعد الحرب العالمية الاولى والثانية

جنوب البحر البلطى	⊖	شرق البحر الاحمر
جنوب البحر الكاريبي	⊖	شمال خليج البنغال

١٦:- فى ضوء تحليلك لمفهوم الجغرافيا السياسية استنتج الاهتمام بدراسة بإدخال التكنولوجيا الحديثة يعبر عن

العلاقات الدولية	⊖	المقومات البشرية
المقومات الطبيعية	⊖	التحليل السياسي للقوة

١٧)(من خلال دراستك لمفهوم الجغرافيا السياسية استنتج تقسيم الدول الى وحدات إدارية يعبر عن

المقومات البشرية	⊖	التنظيم الداخلى
المقومات الطبيعية	⊖	التحليل السياسي للقوة

مجالات علم الجغرافيا السياسية

١:- كان غزو العراق من جانب الولايات المتحدة سببا فى تشريد الاف العراقيين وموت الكثير منهم يعد هذا اهم مجالات النظام العالمى وهو

اثر التدخلات العسكرية	⊖	الاحلاف العسكرية
العولمة	⊖	التحليل السياسي للقوة

٢:- كان الصراع بين الولايات المتحدة الامريكية وروسيا فى ليبيا يحمل فى طيانه رغبة كلا منهما فى الاستيلاء على بترول ليبيا يعنى هذا

اثر التدخلات العسكرية	⊖	الاحلاف العسكرية
النظام العالمى الجديد	⊖	التحليل السياسي للقوة

٣:- يرتبط تسرب بعض القيم والعادات الغربية المخالفة للعادات المجتمعات الشرقية مع ظهور

العولمة	⊖	التكتلات الاقتصادية
علم الجغرافيا السياسية	⊖	الحدود السياسية

٤:- يمكن دراسة الابعاد الجغرافية لاجتياح روسيا الاتحادية لاوكرانيا خلال العقد الثالث من الالفية الثالثة

التحليل السياسي للقوة	⊖	الشركات متعددة الجنسيات
النظام العالمى الجديد	⊖	الدولة ك مجال لدراسة الجغرافيا السياسية



٥:- يمكن تفسير المانشيت الصحفي الذي امامك من خلال.....

النظام العالمى وتغيراته	أ
اهداف الجغرافيا السياسية	ب
مجالات الجغرافيا السياسية	ج
تطور علم الجغرافيا السياسية	د

٦:- تناقصت السيادة المطلقة لبعض للوحدات السياسية على مواردها في السنوات الاخيرة مع ظهور ل.....

التكتلات الاقتصادية	ج	العولمة	أ
التخوم	د	الحدود السياسية	ب

٧:- من العوامل التى ساعدة على اتساع مجالات الجغرافيا السياسية التغيرات السياسية التى حدثت في.....

جنوب البحر الادرياتي	ج	شمال شرق البحر الاسود	أ
غرب البحر البلطى	د	جنوب البحر الكاريبي	ب

نظم المعلومات الجغرافية و علم الجغرافيا السياسية

١:- قررت الحكومة المصرية انشاء محطات للطاقة الشمسية لتخفيف من آثار ظاهرة الاحتباس الحرارى اعتمد على احد التقنيات الحديثة وهى

نظام تحديد المواقع العالمية	ج	نظم المعلومات الجغرافية	أ
وسائل الاتصالات السلكية واللاسلكية	د	الاستشعار عن بعد	ب

٢:- اتجهت الدولة إلى استصلاح ١٢٥ الف فدان في منطقة شرق العوينات جاء ذلك بالاستعانة بإحدى التقنيات الحديثة وهى.....

نظم المعلومات الجغرافية	ج	تكنولوجيا المعلومات	أ
وسائل الاتصالات الحديثة	د	الاستشعار عن بعد	ب

٣:- يمكن تتبع الاحداث والاضطرابات الداخلية في السودان تحظياً من خلال.....

نظم المعلومات الجغرافية	ج	تكنولوجيا المعلومات	أ
وسائل الاتصالات الحديثة	د	الاستشعار عن بعد	ب

٤- قام الحكومة المصرية بتحديد أنسب المواقع للتوسع العمرانى و المناطق الصالحة للزراعة والرعى والتعدين والسياحة في منطقة الساحل الشمالي من غرب الاسكندرية الى السلوم اعتمدت على احدى التقنيات الحديثة

نظم المعلومات الجغرافية	Ⓐ	نظام تحديد المواقع العالمية
الاستشعار عن بعد	Ⓑ	وسائل الاتصالات السلكية واللاسلكية

٥- شاهد العالم البث المباشر لتعامد الشمس على وجة رمسيس الثالث من خلال

نظم المعلومات الجغرافية	Ⓐ	نظام تحديد المواقع العالمية
الاستشعار عن بعد	Ⓑ	وسائل الاتصالات السلكية واللاسلكية

٦- اتجهت الدولة الى استصلاح ١٢٥ الف فدان فى منطقة شرق العوينات جاء ذلك بالاستعانة باحدى التقنيات الحديثة وهى

تكنولوجيا المعلومات	Ⓐ	نظم المعلومات الجغرافية
الاستشعار عن بعد	Ⓑ	وسائل الاتصالات الحديثة

٧- توفر نظم المعلومات كافة البيانات والمعلومات الرقمية عن الموارد الطبيعية والبشرية يستفيد منها

رجال الاعمال	Ⓐ	الإعلاميين
رجال السياسة	Ⓑ	العسكريين

٨- حددت الدولة المصرية المناطق المناسبة لإنشاء العاصمة الادارية الجديدة ا اعتمادا على احد التقنيات وهى

تكنولوجيا المعلومات	Ⓐ	نظم المعلومات الجغرافية
الاستشعار عن بعد	Ⓑ	وسائل الاتصالات الحديثة

٩- (التقت الاقمار صناعية تسرب نفطى من ناقلة بترول ضخمة على بعد ٨ ميل من خط الساحل)

تعبّر العبارة السابقة على استخدام احد التقنيات الحديثة وهى

تكنولوجيا المعلومات	Ⓐ	نظم المعلومات الجغرافية
الاستشعار عن بعد	Ⓑ	وسائل الاتصالات الحديثة

الاسئلة المقالية على الدرس التمهيدي

(١) :- حدد مدى مصداقية العبارة التالية

هناك علاقة واضح بين التغيرات التي حدثت في الخريطة السياسية في نهاية الالفية الثانية وآراء ابن خلدون

(٢) :- تدرس الجيوبولتيك الدولة من وجهة النظر ديناميكية ما مصداقية العبارة السابقة

(٣) :- لعبت الجغرافيا السياسية دوراً في احلال الأمن والسلام العالى (فسر جغرافيا)

(٤) :- كان اجتياح روسيا لأوكرانيا في العقد الثالث من الالفية بمثابة احياء لفكر الديناميكي عقب على مدى صحة العبارة السابقة

(٥) :- يعد الجيوبولتيك والنظام العالى الجديد وجهان لعملة واحدة فسر ذلك

(٦) :- يسهل على باحث الجغرافيا السياسية تفسير القوة السياسية للدولة بمعزل عن عواملها الجغرافية

ما تقييمك لمصداقية العبارة السابقة

الفرق بين الدولة والأمة

١:- العبارة التي تشير الى مفهوم الأمة العربية

مجموعة بشرية تميز افرادها بالتلاحم والترابط فى العادات والتقاليد والتاريخ المشترك	Ⓐ
اتخاذ قرار بالانضمام الى تكتلات اقتصادية	Ⓑ
عقد اتفاقية تجارية مع دول اوربية	Ⓒ
اتخاذ اجراء بمنح الهجرة الغير شرعية بتشديد الرقابة على السواحل	Ⓓ

٢:- منطقة معترف بها تتسم بتجانس وصعوبة تمييزها

الدولة	Ⓐ	المنظمات الدولية	Ⓒ
الأمة	Ⓑ	اتحاد الكونفدرالي	Ⓓ

٣:- يخرج عن سمات الامة القوة

المفولوجية	Ⓐ	التنظيمية	Ⓒ
الديموغرافية	Ⓑ	الاثنوغرافية	Ⓓ

٤:- حتى يمكن القول بمصطلح الامة على مجموعة بشرية لابد من توافر

سلطة تنفيذية	Ⓐ	حكومة محلية	Ⓒ
حكومة مركزية	Ⓑ	العامل الزمنى	Ⓓ

٥:- كيان منظم معترف به يعيش فيه مجموعة من الافراد طبقا للقواعد ونظم تحدد العلاقة فيما بينهم

الدولة	Ⓐ	المنظمة	Ⓒ
الأمة	Ⓑ	الاقلية	Ⓓ

٦:- مجموعة من الأفراد يمارسون نشاطهم على إقليم جغرافي محدد يتفق افرادها على ادارة شئون حياتهم وفقا لمجموعة من القوانين هى

الدولة	Ⓐ	المنظمة	Ⓒ
الأمة	Ⓑ	الاقلية	Ⓓ

٧:- اهم ما يميز الدولة عن الامة في

الموارد الاقتصادية	Ⓐ	العامل الزمني	Ⓐ
وحدة العادات والتقاليد	Ⓑ	السيادة القانونية	Ⓑ

٨:- تتميز الأمة عن الدولة بضرورة وجود..... حصص مصر "

سكان دائمين	Ⓐ	تجانس سكاني.	Ⓐ
حدود سياسية منيعة	Ⓑ	كيان سياسي موحد	Ⓑ

٩:- تتميز الأمة عن الأمة في

العامل التنظيمي	Ⓐ	البعد القانوني	Ⓐ
العامل المورفولوجي	Ⓑ	طول فترة الاستقرار	Ⓑ

الدولة الوحيدة . الفيدرالية . الكونفدرالية

١:- (اليابان وفرنسا) قوتان من القوى الصناعية في العالم يتشابهان في بعض الجوانب ولكن يختلفان في

القوة المورفولوجية لكل منهما	Ⓐ	سهولة الاحتكاك الحضاري لكل منهما	Ⓐ
معدل الانفاق على البحث العلمي	Ⓑ	تستمد السلطات المحلية قراراتها من السلطة المركزية الدولة	Ⓑ

٢:- الدولة الموحدة سياسياً مجزأة جغرافياً تقع

اقصى شمال شرق آسيا	Ⓐ	غرب امريكا الشمالية	Ⓐ
جنوب غرب آسيا	Ⓑ	شرق امريكا الجنوبية	Ⓑ

٣:- (اليابان - الصين - فرنسا) يتشابهان في بعض الجوانب ويختلفان في

معدل الانفاق على البحث العلمي	Ⓐ	القوة المورفولوجية لكل منهما	Ⓐ
سهولة الاحتكاك الحضاري	Ⓑ	الانتماء لنظام سياسي واداري واحد	Ⓑ

٤ يعد الموافقة على الانضمام لتكتل اقتصادي من اختصاص

السلطة المحلية في الدولة الفيدرالية	Ⓐ	السلطة المركزية في الدولة الوحيدة	Ⓐ
السلطة المحلية في الدولة الوحيدة	Ⓑ	السلطة المركزية في الاتحاد الكونفدرالي	Ⓑ

٥- (تسعى الدول لتحقيق مصالحها مع الاحتفاظ بشخصيتها المستقلة) فى ضوء العبارة

استنتج فى حالة رغبة دولة (أفريقيا الوسطى) تحقيق التواصل مع العالم الخارجى

يجب عيها اقامة اتحاد



كونفدرالى مع جنوب السودان	أ
فيدرالى مع الكاميرون	ب
كونفدرالى مع الكونغو الديمقراطى	ج
فيدرالى مع تشاد	د

٦- تعد جزيرة كورسيكا بمثابة

تابعة سياسياً للنظام الإدارى فى إيطاليا	أ
تستمد قراراتها من السلطة المركزية من فرنسا	ب
قلب دولة اقتصادى لدولة اسبانيا	ج
تتمتع بذاتية القرارات المحلية	د

٧- يعد الموافقة على الانضمام لتكتل اقتصادى من اختصاص

السلطة المركزية فى الدولة الاتحادية	ج	السلطة المحلية فى الدولة الفيدرالية	أ
السلطة المركزية فى الاتحاد الكونفدرالى	د	السلطة المحلية فى الدولة الاتحادية	ب

٨- التوسع فى مشروعات البنية الأساسية من اختصاص

السلطة المحلية فى الدولة الفيدرالية	ج	السلطة المركزية فى الدولة الفيدرالية	أ
السلطة المركزية فى الاتحاد الكونفدرالى	د	السلطة المحلية فى الدولة الاتحادية	ب

٩- التوسع فى بناء المدارس من اختصاص

السلطة المركزية فى الدولة الاتحادية	ج	السلطة المركزية فى الدولة الفيدرالية	أ
السلطة المركزية فى الاتحاد الكونفدرالى	د	السلطة المحلية فى الدولة الاتحادية	ب

١٠- (الدول الاتحادية - الدولة الكونفدرالية - الدولة الفيدرالية) القاسم المشترك بينهم فى

وجود سلطة مركزية مسؤولة عن القرارات السيادية	ج	تحقيق التوازن بين السلطة المحلية والسلطة المركزية	أ
وجود سلطة محلية تستمد قراراتها من السلطة المحلية	د	حق فى المطالبة بالانضمام الى عضوية المنظمات	ب

١١:- تتميز الولايات المتحدة عن الصين واليابان فى

الانضمام الى منظمة دولية	Ⓐ	معدل الانفاق على البحث العلمى	Ⓐ
التوازن بين السلطة المركزية والمحلية	Ⓑ	الشكل المجرأ لكل منهما	Ⓑ

١٢:- (تسعى الدول لتحقيق مصالحها مع الاحتفاظ بشخصيتها المستقلة) فى ضوء العبارة استنتج

فى حالة رغبة دولة (بأرجواي) تحقيق التواصل مع العالم الخارجى يجب عيها اقامة اتحاد



كونفدرالى مع البرازيل	Ⓐ
فيدرالى مع أوجواي	Ⓑ
كونفدرالى مع بوليفيا	Ⓒ
فيدرالى مع الأرجنتين	Ⓓ

١٣:- اى من الدول التالية الاقرب لسمات الامة

اليابان	Ⓐ	استراليا	Ⓐ
البرازيل	Ⓑ	الهند	Ⓑ

١٤:- تصنف اليابان دولة وحدوية ولكنهما لا تعتبر النموذج المثالى للدولة الوحدوية بسبب

قوتها التنظيمية	Ⓐ	قوتها الاقتصادية	Ⓐ
قوتها الديموغرافية	Ⓑ	قوتها المورفولوجية	Ⓑ

١٥:- تتشابه الامة والدولة الوحدوية فى عدة سمات يخرج عنها الجانب

الثقافى	Ⓐ	التنظيمى	Ⓐ
العرقى	Ⓑ	الدينى	Ⓑ

١٦:- تقع الدولة الوحدوية المثالية على احد الدول المشرفة على

بحر الشمال	Ⓐ	خليج المكسيك	Ⓐ
البحر الكاريبى	Ⓑ	البحر الاسود	Ⓑ

١٧:- وضع الدستور داخل انظمة الحكم الديمقراطي من اختصاص السلطة

التشريعية	⊖	المحلية	Ⓐ
التنفيذية	ⓓ	القضائية	Ⓑ

١٨:- افضل الانظمة السياسية والادارية لدولة الصين وفقاً لقوتها المورفولوجية

النظام الجمهوري	⊖	الاتحاد الكونفدرالي	Ⓐ
النظام اللامركزي	ⓓ	النظام المركزي	Ⓑ

١٩:- يفضل اتباع النظام الوحدوي فى الدولة التى.....

تعدد العادات والتقاليد	⊖	قدرتها بالاتصال بالعالم الخارجى	Ⓐ
تكون ذات شكل مجزأ	ⓓ	يغلب على سطحها الطابع السهلي	Ⓑ

٢٠:- يمنح النظام السياسي والإداري فى البرازيل حاكم ولاية ساو باولو البرازيلية فى

الانضمام الى كتلات اقتصادية	⊖	عقد الاتفاقيات التجارية	Ⓐ
توسيع منظومة التأمين الصحة الشامل	ⓓ	اجراء الانتخابات التشريعية	Ⓑ

٢١:- اى مما يأتى يعد من اختصاص حاكم ولاية ملبورن الاسترالية

وضع خطط التنمية الاقتصادية	⊖	عقد المعاهدات التجارية	Ⓐ
رصف الطرق وانشاء الكباري	ⓓ	استقبال السفراء الاجانب	Ⓑ

٢٢:- تفتقد دول اليابان الى

التجانس الثقافي واللغوي بين سكانها	⊖	توازن بين السلطة المحلية والمركزية	Ⓐ
الاتصال والاحتكاك الحضاري	ⓓ	الكثافة السكانية المرتفعة	Ⓑ

٢٣:- القاسم المشتركة بين الدولة الفيدرالية والدولة الوحدوية فى

مركزية جميع القرارات السيادية	⊖	مركزية جميع القرارات الاجتماعية	Ⓐ
تقلص دور السلطة المحلية فى الشؤون الحياتية	ⓓ	توازن بين السلطة المحلية والمركزية	Ⓑ

٢٤:- يستطيع حاكم ولاية حيدر اباد الهندية ان يقوم بـ.....

تعديل الموازنة العامة للدولة	⊖	اصدار التشريعات الانتخابية	Ⓐ
تطوير الوحدات الصحية	ⓓ	استقبال السفارات الاجنبية	Ⓑ

٢٥- أي من المناطق التالية تتمتع بنوع من الاستقلال الذاتي.....

نيويورك الامريكية	Ⓐ	هيروشيما اليابانية	Ⓐ
شنيانغ الصينية	Ⓑ	مارسليا الفرنسية	Ⓑ

٢٦- تختص الحكومة المركزي لأستراليا ب.....

ادخال التكنولوجيا بالمدارس	Ⓐ	تطوير البيئية التحتية	Ⓐ
عقد الاتفاقيات الدولية	Ⓑ	التوسع فى برامج الرعاية الاجتماعية	Ⓑ

٢٧- يكاد يتقارب مفهوم الامة بسبب الخصائص الديموغرافية فى اى من الدول التالية

الدولة الفيدرالية	Ⓐ	الدول الوحدوية	Ⓐ
الدولة اللامركزية	Ⓑ	الدولة الكونفدرالية	Ⓑ

٢٨- القاسم المشترك بين فرنسا والامة العربية فى وجود

التجانس السكانى	Ⓐ	العامل الزمنى	Ⓐ
البعد الجغرافي	Ⓑ	السلطة والقوة	Ⓑ

٢٩- يتشابهان اليابان عن الصين فى العديد من الجوانب ولكن يختلفان فى

زيادة عدد السكان بالنسبة مساحة الدولة	Ⓐ	القوة الموفولوجية لكل منهما	Ⓐ
التوازن بين السلطة المركزية والمحلية	Ⓑ	زيادة مهام السلطة المحلية	Ⓑ

٣٠- اى من الدول الآتية هي الاقرب مورفولوجيا لاتباع النظام اللامركزي

روسيا الاتحادية	Ⓐ	فرنسا	Ⓐ
الصين	Ⓑ	اليابان	Ⓑ

٣١- تحديد الاسر الأولى بالرعاية الاجتماعية من اختصاص

المحلية فى الدولة الفيدرالية	Ⓐ	المركزية فى الاتحاد الكونفدرالى	Ⓐ
المركزية فى الدولة الفيدرالية	Ⓑ	المحلية فى الدولة الوحدوية	Ⓑ

٣٢- (يقوم حاكم مقاطعة ما بتنفيذ برامج خطط التأمين الصحي الشامل طبقاً لخطط الخمسية التي وضعتها الدولة) فى ضوء العبارة السابقة نستنتج أن المتوقع ان تكون تلك المقاطعة تابعة للدولة

الهند	Ⓐ	الصين	Ⓐ
الولايات المتحدة الامريكية	Ⓑ	البرازيل	Ⓑ

٣٣:- يفضل اتباع النظام الوحدوي فى الدولة التي تتميز بـ

التنوع الثقافي	ج	الشكل المندمج	أ
الاتصال الحضاري	د	انبساط السطح	ب

٣٤:- من الانظمة السياسية والادارية تكون سلطة المركزية بها لها سلطات مطلقة

الدولة الفيدرالية	ج	الدولة الوحديية	أ
الاتحاد الكونفدرالى	د	الدولة اللامركزية	ب

٣٥:- يعد الاتحاد الكونفدرالى من اقل انواع الدول انتشارا واكثرها هشاشه بسبب

التمثيل الدبلوماسي للدول الاعضاء	ج	تعدد الدساتير داخل الاتحاد	أ
الهيكل التنظيمى الادارى للاتحاد	د	تعدد السلطات داخل الاتحاد	ب

٣٦:- اذا كانت ادارة الرعاية الصحية و تطوير الريف تابع لقلب الدولة السياسي ' فان هذه الدولة تتبع نظام...

كونفدرالى	ج	الفيدرالى	أ
الجمهوري	د	الوحدوى	ب

٣٧:- يعد محكمة العدل الدولية هيئة قضائية لفضل النزاعات بين الدول وهى لمنظمة الامم المتحدة " فى ضوء العبارة ن استنتج يمثل محكمة العدل الدولية

سلطة مركزية فى اتحاد كونفدرالى	ج	سلطة مركزية فى اتحاد فبدرالى	أ
سلطة محلية فى اتحاد كونفدرالى	د	سلطة محلية فى اتحاد فيدرالى	ب

٣٨:- يقصد بالدولة الوحديية انها

سلطة مركزية تشارك سلطاتها مع حكومات الاقاليم	ج	دولة ذات حكومة واحدة وهيئة تشريعية واحدة	أ
مجموعة من الاقاليم المستقلة ذاتياً تحت علم واحد	د	دولة ذات حكومة واحدة وسلطات تشريعية متعددة	ب

٣٩:- اذا غيرت الصين نظامها المركزي الى نظام الفيدرالى فسوف ينعكس ذلك على....

علاقاتها الخارجية	ج	سماتها الديموغرافية	أ
هياكلها السياسي والادارى	د	تقدمها التكنولوجى	ب

٤٠ :- الدولة التي تعود إدارة جميع شؤون الوحدات الإدارية بها الى العاصمة هي *.....

اللامركزية	Ⓐ	الكونفدرالية	Ⓐ
الفيدرالية	Ⓑ	المركزية	Ⓑ

٤١ :- تستمد المستويات الادارية المحلية قراراتها من الحكومة المركزية بدولة

سويسرا	Ⓐ	اليابان	Ⓐ
الولايات المتحدة	Ⓑ	استراليا	Ⓑ

٤٢ :- ادرس الخريطة التي امامك

تتسم الدولة المحدد في الخريطة المقابلة ب.....



لديها توازن بين السلطة المركزية والمحلية	Ⓐ
تخصص الحكومة المحلية بالوظائف السيادية	Ⓑ
ذات حكومة تسيطر على السلطان المحلية	Ⓒ
ذات حكومة محلية تستمد قراراتها من السلطة المركزيو	Ⓓ

٣٤ :- تختص السلطة المركزية فى البرازيل ب

ادخال التكنولوجيا فى المدارس	Ⓐ	التوسع فى برامج الرعاية الاجتماعية	Ⓐ
التوسع فى برامج محو الامية	Ⓑ	ادخال تعديلات على الدستور	Ⓑ

عواصم الدول

١ :- تجسدت اختيار العاصمة القاهرة على عدة عوامل يخرج عن تلك العوامل

الزمنى	Ⓐ	السيادة القومية	Ⓐ
التاريخي	Ⓑ	الحماية والدفاع	Ⓑ

٢ :- العامل الاقتصادي والتاريخي لبعض المدن قد يدفع الدول الى نقل عاصمتها مما يفترضها سمات الحماية والدفاع يظهر ذلك في

اقصى شمال شرق آسيا	Ⓐ	غرب امريكا الشمالية	Ⓐ
جنوب غرب آسيا	Ⓑ	شرق امريكا الجنوبية	Ⓑ

٣: البعد الجغرافي قد يدفع الدول الى نقل العاصمة من الساحل الى الداخل قد ظهر ذلك في احدي الدول المشرقة على

البحر الاسود	⊖	بحر قزوين	Ⓐ
البحر الكاربي	ⓓ	البحر المتوسط	Ⓑ

٤: البعد الجغرافي قد يدفع الدول الى نقل العاصمة من الساحل الى الداخل قد ظهر ذلك في.....

شرق امريكا الجنوبية	⊖	غرب افريقيا	Ⓐ
غرب امريكا الشمالية	ⓓ	جنوب غرب آسيا	Ⓑ

٥: تقع (مصر) في الحوض الأدنى لنهر النيل بينما تقع (نيجيريا) في الحوض الأدنى لنهر النيجر) في ضوء العبارة استنتج

تشابه كل من مصر ونيجيريا في

أن انهارها يمثلان حدوداً سياسية لهما	⊖	اتجاه النهر في كل منهما	Ⓐ
تميز عاصمة كل منهما بالحماية والدفاع	ⓓ	استغلال انهارها لتحقيق التواصل الحضاري	Ⓑ

٦: دولة بحرية مجزأة تفتقد عاصمتها لحماية والدفاع تقع

غرب امريكا الشمالية	⊖	اقصى شمال شرق آسيا	Ⓐ
شرق امريكا الجنوبية	ⓓ	جنوب غرب آسيا	Ⓑ

٧: دول تجمع عاصمتها ما بين قلوب ذات الاهمية (اقتصادية - سياسية - سكانية - ثقافية)

السعودية	⊖	مصر	Ⓐ
افغانستان	ⓓ	الولايات المتحدة	Ⓑ

٨: معظم عواصم الدول العربية ذات بعد عسكري يخرج عنها

الخرطوم	⊖	الرباط	Ⓐ
الرياض	ⓓ	القاهرة	Ⓑ

٩: (السعودية - مصر - السودان - اسبانيا) القاسم المشترك بين هذه الدول

تميز عاصمة كل منهما بالبعد العسكري	⊖	اسباب نشأة الحد السياسي	Ⓐ
معدل الانفاق على البحث العلمي	ⓓ	الاشراف على مواقع استراتيجية	Ⓑ

١٠:- تناقضت عوامل اختيار موقع عاصمة كل من

موريتانيا - نيجيريا	Ⓐ	فرنسا - مصر	Ⓐ
المغرب - اليابان	Ⓑ	السودان - تركيا	Ⓓ

١١- امامك خريطة للدول المغرب العربي ادرسها جيداً ثم أجب

الرابط المشترك بين دول المغرب العربي في



عدد دول الجوار لكل منهما	Ⓐ
عدم القدرة على الاتصال الحضاري	Ⓑ
قدرة دولها في تبني نظرية الدفاع من العمق	Ⓒ
افتقاد عاصمة كل منهما الى الحماية والدفاع	Ⓓ

١٢:- يتم اختيار العاصمة على العديد من العوامل ولكن اقل تلك العوامل في اختيار العاصمة

سهولة الوصول	Ⓐ	السيادة القومية	Ⓒ
الحماية والدفاع	Ⓑ	العامل التاريخي	Ⓓ

١٣:- عندما تعدد الاجناس البشرية الاعراق المختلفة في الدولة يفضل اختيار العاصمة على اساس

العامل التاريخي	Ⓐ	سهولة الوصول	Ⓒ
الحماية والدفاع	Ⓑ	السيادة القومية	Ⓓ

١٤:- تغلب البعد الاقتصادي على البعد العسكري في اختيار العاصمة

ابوجا	Ⓐ	الخرطوم	Ⓒ
القاهرة	Ⓑ	طوكيو	Ⓓ

١٥:- تتشابه مصر مع نيجيريا في امور عدة ولكنهما يختلفان من حيث

الاشترك في منظمة عالمية	Ⓐ	عدد دول الجوار	Ⓒ
الاشترك في منظمة اقليمية	Ⓑ	عوامل اختيار العاصمة	Ⓓ

١٦:- يحرى نهر النيجر في غرب افريقيا يجرى من الشمال الى الجنوب " يقع الحوض الادنى لنهر في احد الدول التي تتميز عاصمتها بـ

العاصمة التاريخية	Ⓐ	السيادة القومية	Ⓒ
حماية والدفاع	Ⓑ	العاصمة القديمة	Ⓓ

١٧:- من العواصم التي خالفت مبدأ الحماية والامن فى اختيارها

القاهرة وطوكيو	Ⓐ	لاجوس ومدريد	Ⓐ
باريس والخرطوم	Ⓑ	نواكشوط وطوكيو	Ⓓ

١٨:- يخلو الوطن العربي من عوامل اختيار العاصمة على اساس

العامل التاريخي	Ⓐ	الحماية والدفاع	Ⓐ
سهولة الوصول	Ⓑ	السيادة القومية	Ⓓ

١٩- العامل الاساسي من وراء اختيار الخرطوم عاصمة السودان هو البعد

التاريخي	Ⓐ	الحضاري	Ⓐ
المكانى	Ⓑ	القومى	Ⓓ

قلب الدولة

١:- دولة تقع ضمن الاقليم الصحراوي موضع اهتمام الاقليات الانثروغرافية في جنوب شرق آسيا تتمتع بوجود قلب ذات اهمية

اقتصادية	Ⓐ	دينية	Ⓐ
سياسية	Ⓑ	سكانية	Ⓓ

٢:- دولة آسيوية تتميز ذات شكل بيضاوي تجد صعوبة بالاتصال بالعالم الخارجي تتمتع بوجود قلب ذات اهمية

اقتصادية	Ⓐ	دينية	Ⓐ
سياسية	Ⓑ	سكانية	Ⓓ

٣- دولة مركزية تتميز بموقع استراتيجي تتمتع بوجود قلب ذات اهمية

اقتصادية	Ⓐ	دينية	Ⓐ
سياسية	Ⓑ	سكانية	Ⓓ

٤:- توجد منطقة القلب ذات الاهمية دينية فى الوطن العربي ذات مناخ

صحراوي	Ⓐ	ممطر	Ⓐ
معتدل	Ⓑ	بارد	Ⓓ

٥- توجد منطقة القلب ذات الاهمية دينية فى الوطن العربي ذات مناخ

شمال شرق قارة آسيا	⊖	جنوب شرق قارة آسيا	Ⓐ
شمال غرب قارة آسيا	Ⓓ	جنوب غرب قارة آسيا	Ⓑ

٦- قلب الدولة الذى مازال وسيظل مسار اهتمام الأقليات الأثنوغرافية فى جنوب شرق آسيا يفتقد الى ب-

تبنى نظرية الدفاع من العمق	⊖	التنوع المناخي	Ⓐ
تعدد الجبهات البحرية	Ⓓ	سهولة الاحتكاك الحضاري	Ⓑ

الاسئلة المثالية على الدولة في الجغرافيا السياسية

أجب على ما يأتي

١:- تباين وضع الامور السيادة في الدول الفيدرالية عن الدولة الكونفدرالية **فسر ذلك**

٢):- تتفق الدولة عن الامة جغرافيا ويختلفان ديموغرافية وسيادياً **ما تقييمك لمصادقية العبارة**

٣):- " تمثل العاصمة مركز القوة و السلطة في الدولة **عقب على مدى صحة العبارة**

٤):- " الاتحاد الكونفدرالية الى نموذج هش للاتحادات المركبة اللامركزية " **ما مصادقية العبارة السابقة**

٥):- " الديمقراطية من اهم سمات الدولة الفيدرالية **(فسر ذلك)**

٦):- تعد العاصمة حلقة اتصال بالعالم الخارجي " **عقب على مدى صحة العبارة السابقة**

تدريب رقم (١)

المقومات الطبيعية لدراسة الدولة

الموقع الفلكي - الموقع الجغرافي - الموقع المركزي - الموقع الاستراتيجي ،

١ :- ادرس الجدول ثم استنتج

الدولة الأكثر في التنوع المناخي وفاعلية الانشطة البشرية

الدولة	خصائص الدولة من حيث الشكل والامتداد الفلكي
س	تمتد من الشرق الى الغرب ٣٠٠ كم من الشمال الى الجنوب ٢٥٠ كم
ص	تمتد في ١٠ دوائر عرض ١١ خط طول
ع	نصف قطرها ١٥٠ كم
ل	تمتد من الشرق للغرب بطول ٣٠٠ من الشمال والجنوب ١٨٠٠ كم

س	أ
ص	ب
ع	ج
ل	د

٢ :- دولة تفتقر الى التنوع المناخي وفاعلية الانشطة البشرية رغم كبر مساحتها

السعودية	أ	الولايات المتحدة	ج
الصين	ب	الارجنتين	د

٣ :- دولة فرنسا تشرف على مناطق ساحلية بجبهتين ساحلين وهو ما يتشابه مع دولة

الكونغو	أ	جنوب أفريقيا	ج
بيرو	ب	كينيا	د



٤ :- لكي تتصل زامبيا الى العالم الخارجي يجب ان تحسن علاقاتها مع

اتحاد فيدرالي مع تنزانيا	أ
اتحاد كونفدرالي مع زيمبابوي	ب
اتحاد فيدرالي مع الكونغو	ج
اتحاد كونفدرالي مع أنجولا	د

٥ :- اي من الدول التالية تدخل في نزاعات مع معظم دول العالم بسبب موقعها

اوغندا	أ	سويسرا	ج
كولومبيا	ب	النمسا	د

٦:- دولة لها قدرة على الاتصال الحضاري مع غيرها من الدول

لوسميرغ	⊖	اليونان	Ⓐ
سلوفاكيا	ⓓ	أندورا	Ⓑ

٧: من خلال تحليلك للخريطة المقابلة نستنتج اكثر حدود موضع نزاع مع دول الجوار.....



الشمالية والجنوبية	Ⓐ
الشرقية والغربية	Ⓑ
الجنوبية والغربية	⊖
الغربية والشرقية	ⓓ

٨ تتشابه الواجهة البحرية لدولة جنوب افريقيا مع واجهة البحرية دولة.....

الجزائر	⊖	المغرب .	Ⓐ
الامارات العربية	ⓓ	موريتانيا	Ⓑ

٩:- اي من المناطق الآتية تزداد اهميتها بسبب الظهير الساحلي

سواحل شمال روسيا	⊖	سواحل غرب السعودية	Ⓐ
سواحل شرق مصر	ⓓ	غرب فرنسا	Ⓑ

١٠:- اهمية وجود جبال البحر الأحمر بشرق مصر فى..... " حصص مصر "

سهولة التواصل مع الدول المجاورة وقيام النشاط التعدينى.	Ⓐ
تحقيق التنمية وسهولة إقامة التجمعات العمرانية	Ⓑ
قيام النشاط الصناعي وتقليل أثر البحر الأحمر على المناخ	⊖
تنشيط السياحة وسهولة تحقيق التنمية العمرانية	ⓓ

١١:- أى من الدول الآتية تتشابه فى المقومات الطبيعية التى تجعلها مؤثرة فى علاقاتها الدولية " حصص مصر "

سويسرا وفرنسا	⊖	أوغندا وتونس	Ⓐ
عمان واليمن	ⓓ	مالى وإيطاليا	Ⓑ

١٢- السواحل الشمالية لدولة روسيا هي الأقل تأثيراً في قوتها السياسية بسبب..... " حصص مصر "

العامل المناخي	Ⓐ	طول الساحل	Ⓐ
الظهير الساحلي	Ⓑ	التركز السكاني.	Ⓓ

١٣- يتشابه موقع سوريا البحري مع موقع دولة..... " حصص مصر "

المغرب	Ⓐ	إسبانيا	Ⓐ
موريتانيا	Ⓑ	كولومبيا	Ⓓ

١٤- تتشابه دولة مصر والمغرب في العديد من الجوانب ولكن يختلفان في.....

سهولة الاتصال الحضاري	Ⓐ	سبب نشأة الحد السياسي	Ⓓ
التحكم على التجارة الدولية	Ⓑ	عدد دولة الجوار	Ⓓ

١٥- دولة فرنسا تشرف على مناطق ساحلية بجهتين ساحلين وهو ما يتشابه مع دولة

الكونغو	Ⓐ	جنوب أفريقيا	Ⓐ
بيرو	Ⓑ	كينيا	Ⓓ

١٦- أحد اسباب النزاع بين روسيا واوكرانيا يرجع الى رغبة اوكرانيا في الانضمام لحلف الناتو) في ضوء العبارة استنتج في حالة خروج لاجئين من اوكرانيا فان اقرب الدول لاستقبالهم هي.....

صربيا	Ⓐ	التشيك	Ⓐ
النمسا	Ⓑ	بولندا	Ⓓ

١٧- في ضوء دراستك للخريطة المقابلة تفتقد السعودية الكثير من اهمية الموقع البحري لساحلها الغربي



قصر السواحل	Ⓐ
قلة اهمية المسطح المائي	Ⓑ
الظهير الساحلي	Ⓐ
قلة الموانئ الطبيعية	Ⓓ

١٨- اوغندا - اثيوبيا - افغانستان الرابط المشترك بين كل منهما في.....

شكل الدولة	Ⓐ	عدد دول الجوار	Ⓐ
الانتماء القاري	Ⓑ	صعوبة في الاتصال بالعالم الخارجي	Ⓓ

١٩:- العامل الذي جعل القوى الاستعمارية تتمسك بالبقاء في اقصى شمال غرب قارة أفريقيا

القوة الديموغرافية	Ⓐ	الموقع الاستراتيجي	Ⓐ
المناخ المعتدل	Ⓓ	القوى المورفولوجيا	Ⓑ

٢٠:- اكثر حدود دولة بولندا تزداد بها النزاعات مع دول الجوار



الشمالية	Ⓐ
الشرقية	Ⓑ
الجنوبية	Ⓒ
الغربية	Ⓓ

٢١:- من المواقع الاستراتيجية العربية الخالصة هي

مضيق جبل طارق ومضيق هرمز	Ⓐ	قناة السويس ومضيق باب المندب	Ⓐ
قناة السويس ومضيق جبل طارق	Ⓓ	مضيق صقلية ومضيق هرمز	Ⓑ



٢٢:- من خلال تحليلك للخريطة المقابلة استنتج تتأثر العلاقات الخارجية لدولة بتسوانا وليسوتو وزيمبابوي بدولة

موزمبيق	Ⓐ
زامبيا	Ⓑ
انجولا	Ⓒ
جنوب افريقيا	Ⓓ

٢٣:- تباين اهمية الساحل الشمالي للنرويج عن الساحل الجنوبي لإسبانيا بسبب

الظهير الجبلي	Ⓐ	التباين المناخي	Ⓐ
مركزية الساحل	Ⓓ	طول الساحل	Ⓑ

٢٤:- في ضوء دراستك للخريطة المقابلة لكي تتصل دولة افريقيا الوسطى بالعالم الخارجي من الافضل لها التعاون مع دولة "



جنوب السودان	Ⓐ
نيجيريا	Ⓑ
الكاميرون	Ⓒ
تشاد	Ⓓ

المساحة - شكل الدولة

١:- من الدول الأكثر حظاً في الدفاع على أراضيها وقت الحروب بسبب مقوماتها الطبيعية

هولندا	Ⓐ	كندا	Ⓐ
المانيا	Ⓓ	بلجيكا	Ⓑ

٢:- دولة تفتقر الى تبني نظرية الدفاع بالعمق

البرازيل	Ⓐ	روسيا الاتحادية	Ⓐ
ايطاليا	Ⓓ	كندا	Ⓑ

٣:- الدولة الأكثر تضرراً حال تعرضها لفيضانات مدمرة

المساحة بالآلاف كم ^٢	الدولة	س	Ⓐ
٦٠٠	س	ص	Ⓑ
٢٦٩	ص	ع	Ⓒ
٨٩٠	ع	ل	Ⓓ
٥٤٣	ل		

٤:- الدولة الأكثر في تنوع التركيب الجيولوجي

المساحة بالآلاف كم ^٢	الدولة	س	Ⓐ
٢,٣٨١,٧٤١	س	ص	Ⓑ
١,٢٨٥,٢١٦	ص	ع	Ⓒ
٢,٧٢٤,٩٠٠	ع	ل	Ⓓ
١,٢٦٧,٠٠٠	ل		

٥:- الدولة الأكثر لها القدرة على تبني نظرية الدفاع من العمق

الدولة	عدد دوائر العرض	عدد خطوط الطول	س	Ⓐ
س	١٧	٩	ص	Ⓑ
ص	٤	١٥	ع	Ⓒ
ع	١٢	١١	ل	Ⓓ
ل	٥	٩		

٦:- ادرس الجدول ثم استنتج

الدولة الأكثر لها القدرة على تبني نظرية الدفاع من العمق

الدولة	خصائص الدولة من حيث الشكل والامتداد الفلكي	س	Ⓐ
س	تمتد من الشرق الى الغرب ٣٠٠ كم من الشمال الى الجنوب ٣١٥ كم	ص	Ⓑ
ص	تمتد في ٦ دوائر عرض ٩ خط طول	ع	Ⓒ
ع	نصف قطرها ٣٠٠ كم	ل	Ⓓ
ل	تمتد من الشرق للغرب بطول ٣٠٠ من الشمال والجنوب ١٨٠٠ كم		

٧: ادرس الجدول ثم استنتج الدولة الاقل في النزاع مع دور الجوار

الدولة	خصائص الدولة من حيث الشكل والامتداد الفلكي
س	تمتد من الشرق الى الغرب ٢٠٠كم من الشمال الى الجنوب ٦٥٨كم
ص	تمتد في ١٣ دوائر عرض ١٢ خط طول
ع	نصف قطرها ٢كم٣٠٠
ل	تمتد من الشرق للغرب بطول ٣٠٠ من الشمال والجنوب ١٨٠٠كم

س	أ
ص	ب
ع	ج
ل	د

٨: دولة تفتقر الى القدرة على ابعاد مصانعها وسكانها وقت الحروب بسبب قوتها الموقولوجية

استراليا	أ	فنزويلا	ج
السعودية	ب	الولايات المتحدة	د

٩: الدولة الاكثر ضرراً في حالة تعرضها للكوارث طبيعية

جزر المالديف	أ	البرازيل	ج
الصين	ب	استراليا	د

١٠: رغم مميزات الجبال اقتصادياً وعسكرياً للدول إلا أن لها احياناً اثر اجتماعياً سلبياً على بعض المناطق في أوروبا في اجزاءها

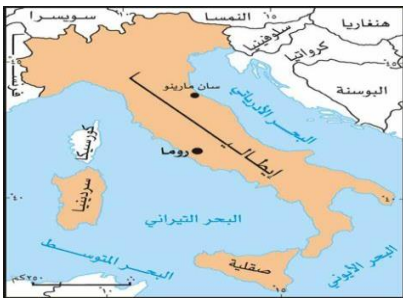
جنوب غرب أوروبا	أ	شمال أوروبا	ج
شرق أوروبا	ب	وسط أوروبا	د

١١: امامك خريطة لدولة البحرين ان ادرسها ثم استنتج تشابه (دولة البحرين) من حيث الشكل دولة



بلجيكا	أ
الولايات المتحدة الامريكية	ب
ايطاليا	ج
تركيا	د

١٢: امامك خريطة لدولة سان مارينو ادرسها ثم استنتج تشابه (سان مارينو) من حيث الشكل دولة



بلجيكا	أ
تشيلي	ب
ليسوتو	ج
اليابان	د

١٣ :- امامك خريطة لدولة ماليزيا ادرسها ثم استنتج تتشابه (ماليزيا) من حيث الشكل دولة



بلجيكا	أ
ايطاليا	ب
ليسوتو	ج
اليابان	د

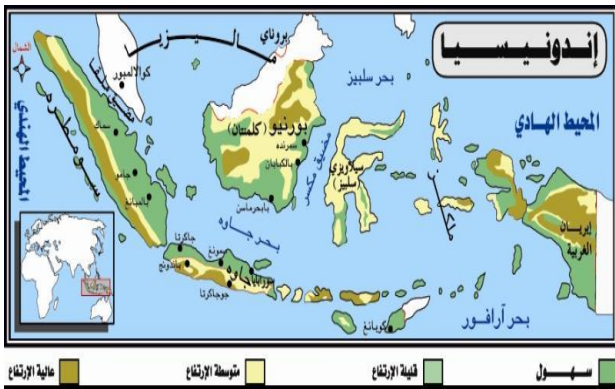
١٤ :- امامك خريطة لسلطنة عمان ادرسها ثم استنتج تتشابه (سلطنة عمان) من حيث الشكل دولة



بلجيكا	أ
الولايات المتحدة الامريكية	ب
ايطاليا	ج
تركيا	د

١٥ :- قد تعاني دولة إندونيسيا من بطء حركة التنمية في معظم اطرافها

بسبب



الشكل	أ
المساحة	ب
الغطاء النباتي	ج
المناخ	د

١٦ :- قد تعاني دولة تشيلي من بطء حركة التنمية في اطرافها الشمالية بسبب



التضاريس	أ
المساحة	ب
الغطاء النباتي	ج
المناخ	د

١٧ :- "اهمية المساحة الدولية لا تقاس بالكيلو مترات المربعة" الدولة التي تؤكد على صحة العبارة السابقة

اليمن	أ	السعودية	ج
الجزائر	ب	السودان	د

١٨:- أهمية المساحة لا تقاس بالكيلو مترات المربعة الدولة التي تؤكد على صحة العبارة السابقة

المغرب	Ⓐ	السعودية	Ⓐ
الجزائر	Ⓓ	ليبيا	Ⓑ

١٩:- تتسم الدولة المحدد التي امامك ب.....



تبني نظرية الدفاع من العمق	Ⓐ
صعوبة الاتصال باجزاء الدولة	Ⓑ
امكانية الاحتكاك الحضاري	Ⓒ
تنوع الاقاليم المناخية	Ⓓ

٢٠ يوضح الشكل الآتي مساحة بعض دول العالم ادرس الشكل الدولة التي من المحتمل أن تكون أقل ضررا في حالة حدوث كوارث طبيعية.....



س	Ⓐ
ص	Ⓑ
ع	Ⓒ
ل	Ⓓ

٢١:- عدد الدوائر العرض التي تمر في دولة ما يبلغ ١٨ دائرة عرض وخطوط الطول تبلغ ٣ خط طول فمن المتوقع ان تكون تلك الدولة ذات شكل.....

مستطيل طولي	Ⓐ	مندمج ذو البروز	Ⓒ
مندمج منتظم	Ⓑ	مستطيل عرضي	Ⓓ

٢٢:- تزداد أهمية النقل الجوي والبحري لربط بين اجزاء الدولة في الدولة ذات الشكل.....

المندمج المنتظم	Ⓐ	الشريطية الطولية	Ⓒ
المجزأ	Ⓑ	الشريطية العرضية	Ⓓ

٢٢ يوضح الجدول الآتي مساحة عدد سكان بعض دول العالم من خلال تحليلك لجدول نستنتج ان الدول تجد صعوبة في الدفاع عن نفسها بسبب مقوماتها الطبيعية

الدولة	المساحة	السكان
س	٢,٤٥٥,٠٣٤	١,٢٩٩,٤٩٩,٠٠٠
ص	١,٤٧٢,٦٣٩	١٩١,٧٨٥,٠٠٠
ع	٤٨٨,١٠٠	١٤٤,٠٣١,٠٠٠
ل	٣٠٩,٥٠٠	٧٨,٧٧٨,٠٠٠

س	أ
ص	ب
ع	ج
ل	د

٢٤:- تلعب مظاهر السطح دوراً متناقضاً في تعزيز الوحدة القومية في احد دول جنوب غرب اوربا في دولة ذات شكل

مدمج منتظم	أ	مجزأة برية	ج
شريطى عرضي	ب	شريطية طولية	د

٢٥:- بالرغم من تميز السويد بالشكل المستطيل (امتداد طولى) إلا أنها تفتقر للتنوع المناخي بسبب " حصص مصر"

عدم تنوع التضاريس	أ	الموقع الجغرافى	ج
صغر المساحة	ب	الموقع الفلكى.	د

٢٦:- نستنتج من الخريطة القابلة عند اندماج كل من البرازيل وبوليفيا والارجنتين فى اتحاد فيدرالى فان دولة بارجواى تصبح فى الشكل مثل الدولة ... " حصص مصر "



منغوليا	أ
سويسلاندا	ب
فرنسا	ج
ليسوتو	د

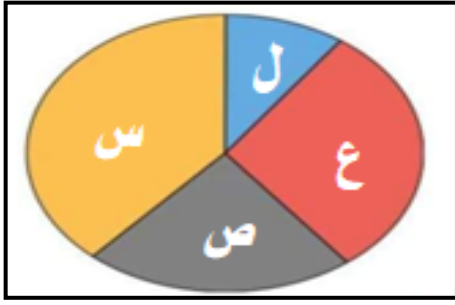
٢٧:- يصعب تحقيق الهدف الداخلي في الجيوبولتيك في الدول

مجزأة	أ	ساحلية	ج
سهلية	ب	داخلية	د

٢٨:- أى الدول التالية الاكثر في التنوع في المعادن

الجزائر	أ	السنغال	ج
جنوب السودان	ب	بوركينافاسو	د

٢٩- يوضح الشكل الآتي مساحة بعض دول العالم ادرس الشكل جيدا ثم اجب الدولة التي من المحتمل الاكثر في تنوع التركيب الجيولوجي بها



س	ا
ص	ب
ع	ج
ل	د

٣٠- يميل شكل دولة روسيا الاتحادية الى الشكل.....

الشريطي العرضي	ج	الشكل المجزأ	ا
البري المجزأ	د	المندمج المنتظم	ب

٣١- تصور ان البحر الاحمر دولة فان شكلا يشبه دولة.....

روسيا	ج	تركيا	ا
منغوليا	د	ايطاليا	ب

٣٢- أي من أشكال الدول الآتية يعد الأقل تعرضاً لحدوث صراعات مع الدول المجاورة..... " حصص مصر "

البحري المجزأ	ج	المندمج ذو بروز.	ا
البري المجزأ.	د	المنتظم	ب

٣٣- دولة عاصمتها تبعد من حدودها الشرقية ١٢٠ كم عن حدودها الغربية ١١٥ كم تبعد عن خط الساحل ١١٧ كم وعن حدودها الجنوبي ١١٩ كم فانها بذلك تكون اقرب الى الشكل.....

شريطي عرضي	ج	شريطي طولي	ا
البري المجزأ	د	مندمج المنتظم	ب

٣٤ في ضوء دراستك للخريطة المقابلة اذا اصبح هناك حدود سياسية مشتركة بين دولتي بتسوانا وانجولا فهذا معناه.... " حصص مصر "



تحول بتسوانا لدولة كبيرة المساحة	ا
اختفاء بروز دولة ناميبيا	ب
قلة عدد الدول المجاورة لليسوتو.	ج
اختفاء دولة زامبيا	د

٣٥- دول يقطعها دائرة الاستواء لها في القدرة في الدفاع عن نفسها بفضل مقوماتها الطبيعية.....

الصومال	ا	البرازيل	د
اوغندا	ب	كينيا	د

٣٦- تتعرض العديد من دول العالم لخطر الاعاصير ولكن اكثرها ضرراً

البرازيل	⊖	استراليا	Ⓐ
الولايات المتحدة	ⓓ	سيلان	Ⓑ

٣٧- اهمية مساحة الدولة لا تقاس بالكيلومترات ولكن يجب الاخذ في الاعتبار بعض العوامل الطبيعية التي تحدد هذه الاهمية مثل

تنوع الثروات والخامات المعدنية	⊖	عدد السكان وتوزيعهم	Ⓐ
النظام السياسي والاقتصادى المتبع	ⓓ	حجم التقدم التكنولوجى	Ⓑ

٣٨- امامك خريطة لدولة جامبيا وهى تتشابه مع دولة ليسوتو فى



شكل الدول فى كل منهما	Ⓐ
صعوبة ضبط الدولة وادارتها	Ⓑ
امكانية التواصل الحضارى	Ⓒ
عدد دول الجوار المجاورة لكل منهما	ⓓ

٣٩- امامك خريطة لدولتي سوازيلاند وليسوتو ادرسهما جيد ثم اجب

نستنتج ان فى حالة ان اصبحت دولتي سوازيلاند وليسوتو دولة واحدة ان تصبح تلك الدولة



استمرار تبعتها للدولة جنوب افريقيا	Ⓐ
ذات شكل برى مجزا	Ⓑ
تجد صعوبة فى حصر مواردها	Ⓒ
تجد سهولة فى الاتصال بالعالم الخارجى	ⓓ

٤٠- يقطع مدار السرطان فى قارة افريقيا عدد من الدول اكثر فى امكانية تبنى نظرية الدفاع من العمق

الجزائر	⊖	مصر	Ⓐ
موريتانيا	ⓓ	ليبيا	Ⓑ

٤١- اذا وقع زلازل مركزة شرق البحر المتوسط فان اكثر الدول تأثرا بهذا لزلازل

تركيا	⊖	قبرص	Ⓐ
مصر	ⓓ	اليونان	Ⓑ

٤٢- أي الدول الآتية التي تمتلك فرصة أكبر في تنوع التركيب الجيولوجي؟

اليابان	⊖	استراليا	ⓐ
بارجواي	ⓓ	جنوب افريقيا	ⓑ

٤٣- تصور أن قارة آسيا أصبحت دولة فإنه يكون أقرب إلى الشكل



البري البحري الجزأ	ⓐ
البحري الجزأ	ⓑ
المندمج ذو البروز	⊖
البري الجزأ	ⓓ

٤٤- دولة الفاتيكان ايطاليا تشبه من حيث الشكل دولة

اسبانيا	⊖	ليسوتو	ⓐ
ايطاليا	ⓓ	الولايات المتحدة	ⓑ



٤٥- تصور أن قارة افريقيا أصبحت دولة فإنه يكون أقرب إلى الشكل

البري البحري الجزأ	ⓐ
المستطيل العرضي	ⓑ
المندمج ذو البروز	⊖
البري الجزأ	ⓓ

٤٦- أمامك خريطة ادرسها جيدا ثم اختر: تتشابه دولتي ليسوتو وسوازيلاند في أن كلاهما دول



جيبية	ⓐ
حبيسة	ⓑ
مجزأة	⊖
بحرية	ⓓ

٤٧- يقطع خط جرينتش عدد من الدول اكثر في امكانية تبني نظرية الدفاع من العمق

النيجر	⊖	الجزائر	ⓐ
بوركينافاسو	ⓓ	فرنسا	ⓑ

٤٨:- نتوقع فى حالة تحول ولاية الاسكا لدولة مستقلة فإن دولة الولايات المتحدة الأمريكية..... " حصص مصر "

تفقد أهمية موقعها المركزى	⊖	يقل عدد الدول المجاورة لها.	أ
تفقد أحد مواقعها الاستراتيجية	⊕	تتحول لدولة مندمجة الشكل	ب

٤٩:- عندما تكاد تتقارب عدد دوائر العرض مع عدد خطوط الطول بالدولة فاننا نستنتج ان هذه الدولة تتميز ب ..

اتباع دول الجوار في سياستها الخارجية	⊖	كثرة النزاعات على الحدود	أ
سهولة الاتصال بالعالم الخارجى	⊕	حسن الادارة الداخلية	ب

التضاريس - المناخ - النبات الطبيعي

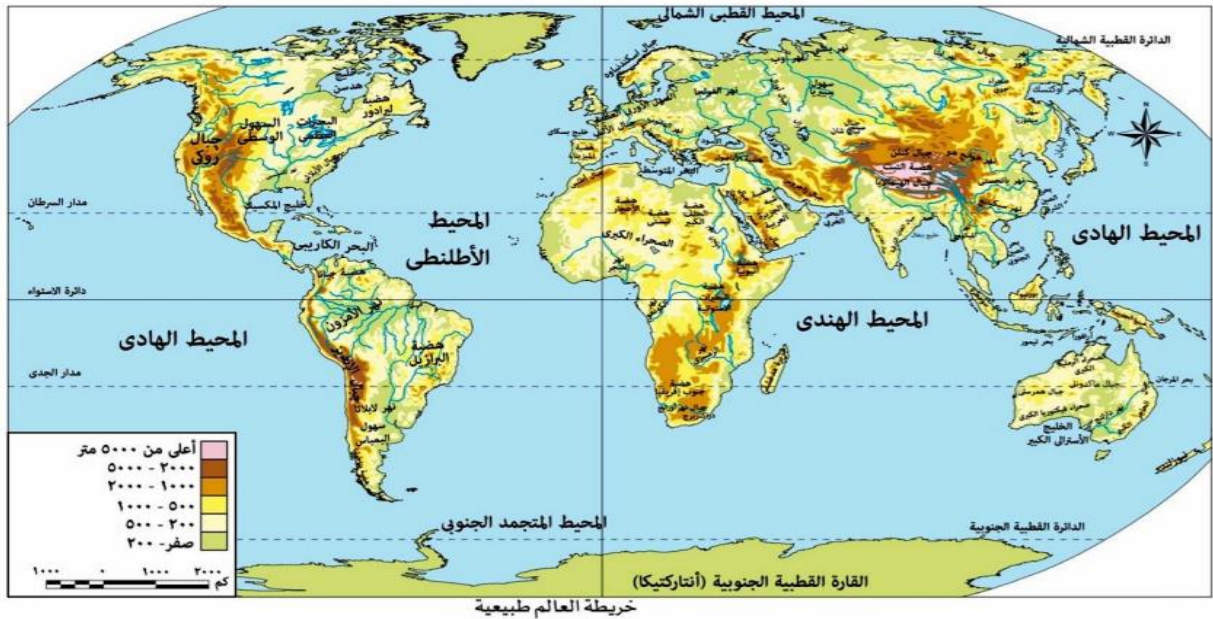
١:- اي من الدول الاتية تتميز بسهولة الاتصال والامتزاج الثقافي

اليابان	⊖	المانيا	أ
اندونيسيا	⊕	سويسرا	ب

٢:- من الدول التي تجد صعوبة فى اتصال بأجزائها بسبب قوتها المورفولوجية

المانيا	⊖	تشيلي	أ
مصر	⊕	هولندا	ب

٣:- (السهول على تحقيق الامتزاج الثقافي بين السكان) اي من السهول التالية يتحقق بها الامتزاج الثقافي بصورة واضحة



سهول كلنشو الصحراوية	⊖	السهل الاوربي العظيم	أ
سهول سيبريا	⊕	سهول نهر الأمازون	ب

٣٤ :- (النمسا - اوغندا - لكسمبورج - سويسرا) مجموعة دول يختلفان فيما بينهما في بعض الخصائص ويتشابهان في

الحاجة استغلال الانهار لتحقيق التواصل الحضارى	⊃	شكل الدول في كل منهما	أ
الانتماء القاري لكل منهما	⊃	معدل الانفاق على البحث العلمي	ب

٥ :- (سويسرا- اليابان - الصين- تشيلي) مجموعة دول تشترك فيما بينهما في

معدل الانفاق من البحث العلمي	⊃	الخصائص المورفولوجية	أ
سهولة الاتصال بأجزاء الدولة	⊃	ذات ابعاد استراتيجية	ب

٦ :- يرتبط ظهور الاقليات والروح الانفصالية عن الدولة

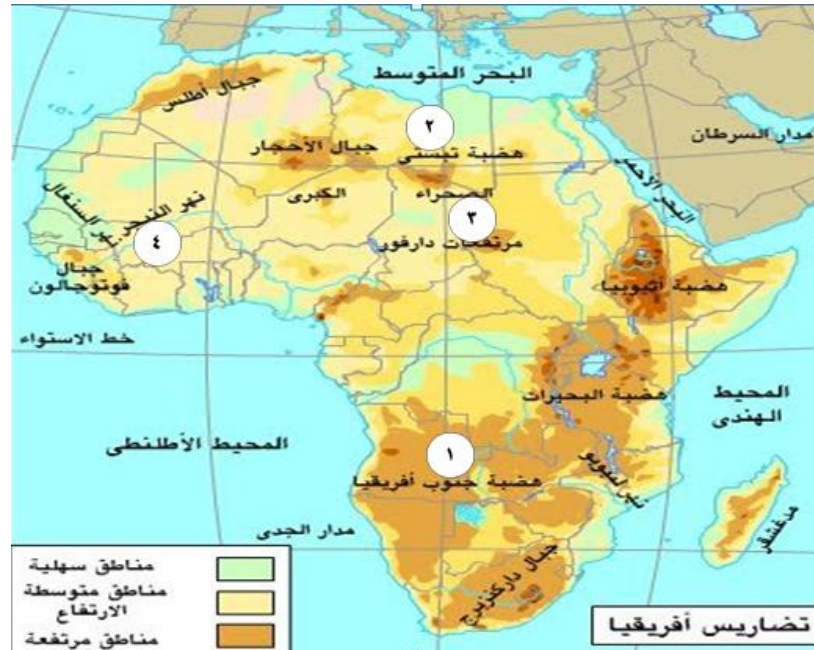
الغابات والشكل المندمج	⊃	اللغة والسهول	أ
المناخ والجبال	⊃	الجبال والشكل المجزأ	ب

٧ :- لعبت الجبال دوراً متناقض في اوروبا في اجزاءها

الجنوبية الشرقية	⊃	الجنوبية الغربية	أ
الشمالية الغربية	⊃	الشمالية الشرقية	ب

٨ :- من خلال تحليلك لخريطة قارة افريقيا

:- اي من المناطق المحدد في الخريطة تحقق الامتزاج الثقافي بين السكان



(٣)	⊃	(١)	أ
(٤)	⊃	(٢)	ب



٩ :- ادرس الخريطة جيداً ثم استنتج
اي المناطق المحددة فى الخريطة تحقق بها الامتزاج الثقافي بين السكان بصورة واضحة

(١)	أ
(٢)	ب
(٣)	ج
(٤)	د

١٠ :- من المقومات الطبيعية التي لا تتوافق فى تحقيق افكار كيلين الداخلية

المناخ	ج	والشكل المندمج	أ
السهول	د	الجبال	ب

١١ :- تلعب المرتفعات دوراً هاماً فى تنمية النشاط السياحي فى منطقة

منطقة القرن الافريقي	ج	شرق البحر المتوسط	أ
بلاد الرافدين	د	غرب الخليج العربي	ب



١٢ - ادرس الخريطة جيداً ثم استنتج
تساعد السهول الى تحقيق الامتزاج الثقافي بين السكان السهول التي تخرج عن ذلك

(١)	أ
(٢)	ب
(٣)	ج
(٤)	د



:- ادرس الخريطة جيداً ثم استنتج
تساعد السهول الى تحقيق الامتزاج الثقافي بين السكان السهول التي تخرج عن ذلك

(١)	أ
(٢)	ب
(٣)	ج
(٤)	د

١٤ :- تساعد السهول الى تحقيق الامتزاج الثقافي بين السكان السهول

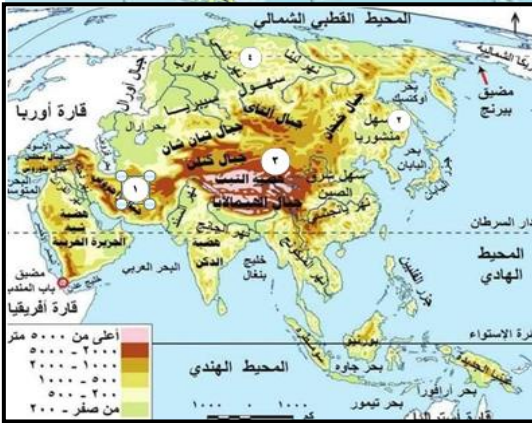
التي تخرج عن ذلك



(١)	أ
(٢)	ب
(٣)	ج
(٤)	د

١٥ :- ادرس الخريطة جيداً ثم استنتج

اي المناطق المحددة في الخريطة تحقق بها الامتزاج الثقافي بين السكان بصورة واضحة



(١)	أ
(٢)	ب
(٣)	ج
(٤)	د

١٦ :- اي من الدول التالية يتنوع بها المناخ والانتاج الزراعي

الدولة	خصائص الدولة طبقاً للموقع الفلكي
(س)	تتمد ١٥ دائرة عرض و ٦ خطوط طول
(ص)	تتمد من دائرتي عرض ٣٧ : ٤٢ شمالاً
(ع)	تتمد من خط طول ٢٥ : ٤٢ شرقاً
(ل)	تتمد بين دائرتي عرض ٢٥ : ٣٠ جنوباً

س	أ
ص	ب
ع	ج
ل	د

١٧ :- أي العوامل الجغرافية التالية ساعدت على تعزيز الوحدة الوطنية في الولايات المتحدة الأمريكية

القوة التنظيمية	أ	الطابع الجبلي	ج
تنوع المناخ	ب	الشكل البري المجزأ	د

١٨ :- قد تفتقد دولة لبنان لمفهوم الدولة المتجانسة جغرافياً بسبب

مظاهر السطح	أ	تدفق الهجرة الغير شرعية	ج
تعدد اللغات	ب	كثرة عدد المهاجرين	د

١٩ :- من الدول التالية تمنحها مقوماتها الطبيعية مميزات عسكرية

المانيا	⊕	بلجيكا	ⓐ
هولندا	ⓓ	تشيلي	ⓑ

٢٠ :- العامل الرئيسي الذى ساهم في انفصال إمارة إندورا عن السيادة الاسبانية

الصراعات الدينية	⊕	المظهر التضاريسي	ⓐ
الخلفية التاريخية	ⓓ	النزاعات على الممرات الملاحية	ⓑ

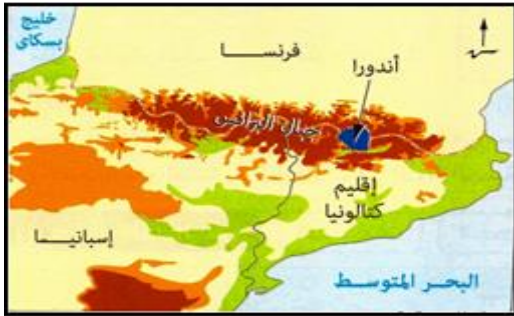
٢١ :- أى من الدول التالية تفتقد الى تنوع المناخى رغم شكلها الشريطى الطولى

الارجنتين	⊕	السويد	ⓐ
تشيلي	ⓓ	إيطاليا	ⓑ

٢٢ :- كان من المتوقع إذا تميز إقليم كتالونيا بانبساط السطح فإن ذلك سيؤدى ل..... ” حصص مصر ”

زيادة قدرة إسبانيا فى المراقبة والدفاع	⊕	صعوبة التطور العمرانى بإسبانيا	ⓐ
تعزيز روح الانفصال عن إسبانيا	ⓓ	زيادة روح التماسك والترابط	ⓑ

٢٣ :- نستنتج من الخريطة المقابلة ان امارة اندورا تواجه بعض المشكلات منها ” حصص مصر ”



ضرورة التنسيق مع حكومات الدول المجاورة	ⓐ
اختفاء المواقع المناسبة لعملية المراقبة	ⓑ
صعوبة حماية حدودها السياسية	⊕
صعوبة وجود ثروات معدنية	ⓓ

٢٤ :- تزداد فاعلية الأنشطة الاقتصادية فى

شرق الولايات المتحدة	⊕	شمال السويد	ⓐ
شمال البرازيل	ⓓ	وسط ليبيا	ⓑ

٢٥ :- من المقومات الطبيعية التى ساهمت فى نمو اقتصاد فى احد دول العالم الحديث فى اقصى جنوب شرق الكرة الارضية

المناخ	⊕	شكل الدولة	ⓐ
النبات الطبيعى	ⓓ	التضاريس	ⓑ

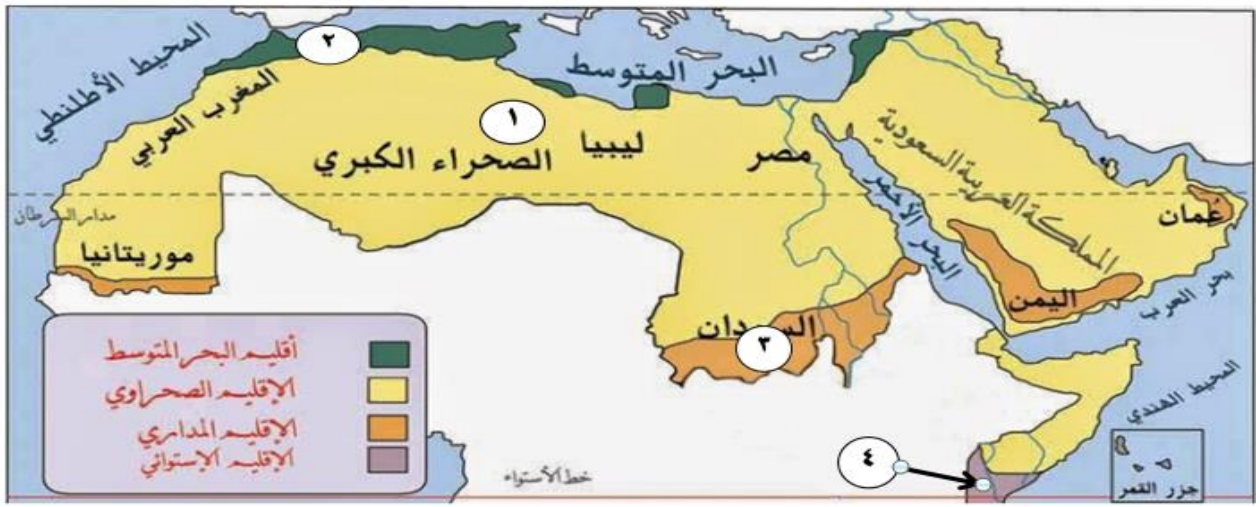
٢٦- يتمثل الرابط المشترك بين التنوع المناخي للدولة وتمتعها بالطابع السهلي في

زيادة القدرات العسكرية	⊙	تحقيق التكامل بين الاقاليم	⊙
تنوع النبات الطبيعي	⊙	تنوع الانشطة البشرية	⊙

٢٧- أكثر العوامل التي قد تؤثر على الامتزاج الثقافي هو

المظهر التضاريسي وشكل الدولة	⊙	القوة التنظيمية والنظام السياسي	⊙
مساحة الدولة وتنوع المناخ	⊙	تنوع المناخ والمظهر التضاريسي	⊙

٢٨- امامك خريطة الاقاليم المناخية في الوطن العربي ادرسها جيداً ثم أجب عن المطلوب



حدد أي المناطق المشار إليها في الأرقام الموجودة على الخريطة المقابلة الأكثر حظاً في فاعلية الأنشطة البشرية

١	⊙	٢	⊙
٣	⊙	٤	⊙

٢٩- أي من الدولة التالية تساهم مقوماتها الطبيعية تساعد في زيادة فاعلية الأنشطة البشرية بصورة واضحة

تركيا	⊙	شمال البرازيل	⊙
شمال السويد	⊙	اوغندا	⊙

٣٠- بتحليل الخريطة المقابلة، تعد أكثر العوامل تأثيراً على الأنشطة الاقتصادية بولاية الاسكا الأمريكية " حصص مصر".



المناخ	⊙
التضاريس	⊙
النبات الطبيعي	⊙
الموقع الجغرافي	⊙

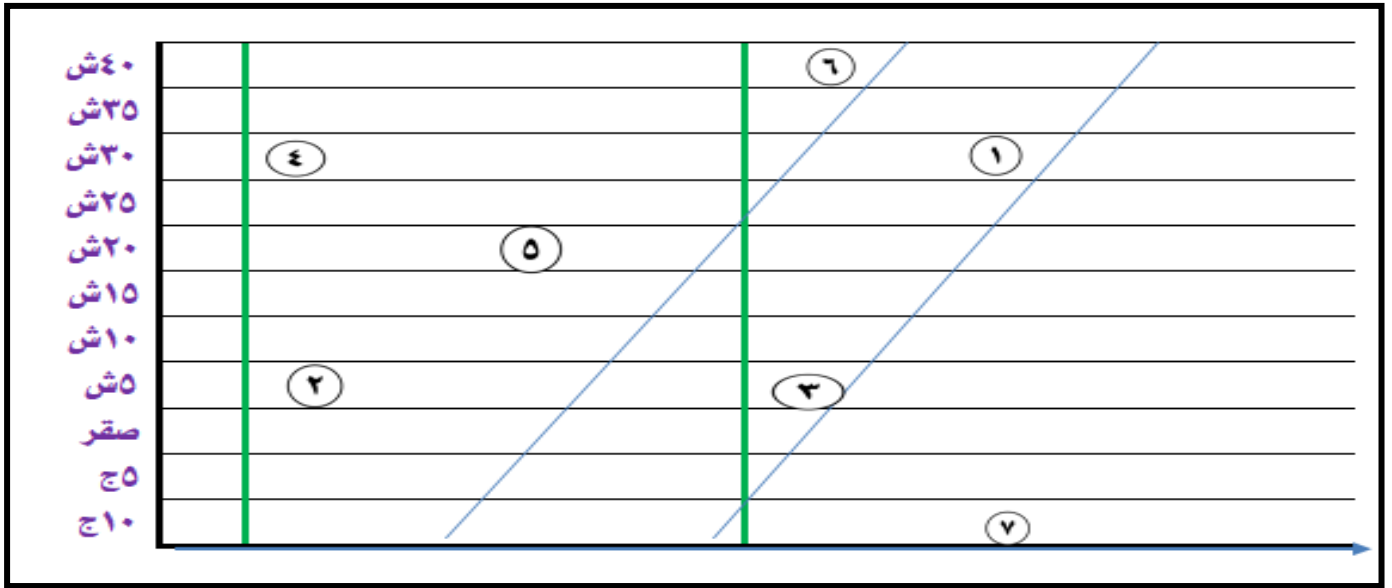
٣١.- احد العوامل الطبيعية التي اثرت ايجابيا على فرنسا وسلباً على اسبانيا فى بعض الجوانب.....

الموارد الطبيعية	⊃	المظهر التضاريسي	Ⓐ
شكل الدولة	Ⓓ	المناخ المعتدل	Ⓑ

٣٢.- يظهر تعزيز الوحدة الوطنية بين سكان الدولة من خلال.....

شكل الدولة ودول الجوار	⊃	السهول - التنوع المناخي	Ⓐ
الموقع الجغرافي والمساحة الكبيرة	Ⓓ	الجبال والمساحة الصغيرة	Ⓑ

٣٣.- (امامك احداثيات مجموعة من الدول اى من تلك احداثيات تتميز دولها بفاعلية الانشطة البشرية



٧-٣	⊃	٦-٤	Ⓐ
٣-٦	Ⓓ	٧-١	Ⓑ

٣٤.- قد تعاني دولة اسبانيا من بقاء فى حركة التنمية فى اطرافها الشمالية بسبب.....



الشكل	Ⓐ
المساحة	Ⓑ
التضاريس	Ⓓ
الموقع البحري	Ⓓ

الاسئلة المثالية على المقومات الطبيعية لقيام الدولة

أجب على ما ياتي

١: رغم اهمية الجبال استراتيجية والاقتصادية ولكنها لها دور سلبياً في جنوب غرب أوروبا ؟
ما مصداقية العبارة السابقة

٢): يوجه موقع الدولة الجغرافي "سواء بحريا أو قارياً" السياسية الخارجية " اشرح العبارة شرحاً جغرافياً

٣): " معظم دول أفريقيا محدودة الاهمية من حيث موقعها الجغرافي " عقب على مدى صحة العبارة

٤): استقادة الولايات المتحدة من التنوع المناخي اقتصاديا وسياسياً
فسر ذلك

٥): " هناك علاقة واضحة بين / مساحة الدولة والسيطرة عليها وقت الحرب

٦): هناك علاقة واضحة بين تضاريس الدولة زيادة قدرتها الاقتصادية
ما تقييمك لمصداقية العبارة السابقة

الدرس الثالث

المقومات البشرية فى دراسة الدولة

حجم السكان - التركيب العمري والنوعى - الهجرة

١:- من الدول التي مكنتها مقوماتها البشرية من بناء قوتها السياسية والعسكرية تقع فى منطقة ذات قلب

سكاني	⊕	سياسي	Ⓐ
ديني	ⓓ	اقتصادي	Ⓑ

٢:- يرتبط استغلال الموارد الاقتصادية فى الدول بالقوة الدولة

المورفولوجية والتنظيمية	⊕	الديموغرافي والمورفولوجي	Ⓐ
العسكرية والديموغرافية	ⓓ	التنظيمية والعسكرية	Ⓑ

٣:- أى من الدول التالية من المتوقع ارتفاع معدل الجريمة بسبب قوتها المورفولوجية

تونس	⊕	الولايات المتحدة	Ⓐ
قبرص	ⓓ	السعودية	Ⓑ

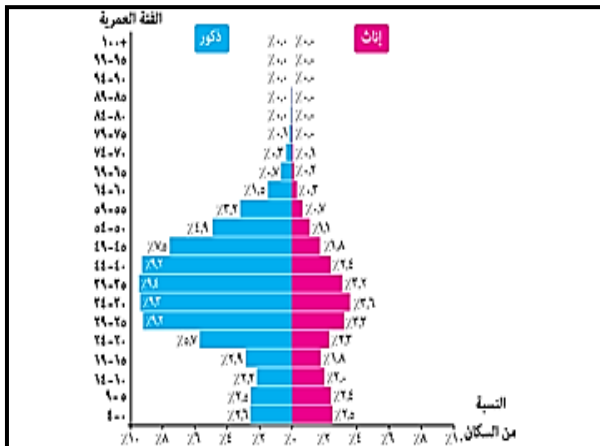
٤:- أى من المناطق التالية الأكثر الى عقد التحالفات السياسية والعسكرية

وسط قارة اوربا	⊕	جنوب غرب آسيا	Ⓐ
وسط قارة افريقيا	ⓓ	شرق امريكا الشمالية	Ⓑ

٥:- قد تفقد منطقة جنوب غرب آسيا السيطرة على مواردها الاقتصادية بسبب

قوتها المورفولوجية	⊕	موقعها الجغرافي	Ⓐ
قوتها التنظيمية	ⓓ	قوتها الديموغرافية	Ⓑ

٦- نستنتج من الهرم السكاني الذى امامك على



ارتفاع نسبة العمالة الاجنبية	Ⓐ
التوازن فى التركيب النوعى	Ⓑ
المعاناة من عدم التجانس السكاني	⊕
انخفاض نسبة الفئة الاكثر استهلاكاً	ⓓ

٧:- من خلال الجدول استنتج

الدولة التي لها القدرة على بناء قوتها السياسية والعسكرية

الدولة	عدد السكان بالمليون
س	٣٠
ع	١٧
ل	٩٧
م	١٥

س	أ
ع	ب
ل	ج
م	د

٨:- من خلال الجدول استنتج اي الدول التالية تقوم باللجوء الى اقامة تحالفات سياسية والعسكرية

الدولة	حجم السكان في الدولة بالمليون
س	٩٠
ع	٥٦
ل	٣٣
م	١٢٣

س	أ
ع	ب
ل	ج
م	د

٩:- اكتسبت دولة إندونيسيا عناصر القوة البشرية ولكن اثر ذلك

سلبياً على

الامن الغذائي	ج	توفر العمالة المحلية	أ
قوتها العسكرية	د	القوة العلمية والتكنولوجية	ب

١٠:- يرجع ظهور حركات انفصالية داخل الدولة الى

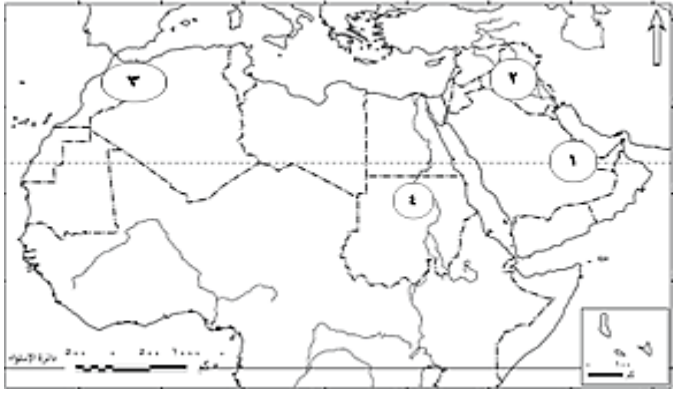
التركيب النوعي وشكل الطولي	ج	الحجم السكاني والطابع الجبلي	أ
تعدد اللغات والطابع السهلي	د	المستوى التكنولوجي ومساحة الدولة	ب

١١:- من خصائص السكان التي تؤدي لزيادة قوة الدولة ووزنها السياسي

الهجرة الداخلية	ج	التركيب النوعي	أ
التركيب العمري	د	المستوى التكنولوجي	ب

١٢:- لجوء دول الخليج العربي الى عقد التحالفات السياسية العسكرية مع الدول الكبرى نتيجة لـ

تنوع الموارد وصغر المساحة	ج	قلة الموارد والمساحة الكبيرة	أ
صغرمساحة وحجم السكان	د	نقص العمالة المساحة الكبيرة	ب



١٣: أي المناطق المحددة على الخريطة تلجا الى عقد التحالفات السياسية والعسكرية مع دول كبرى

(١)	أ
(٢)	ب
(٣)	ج
(٤)	د

١٤: تتنوع ثقافات وعادات دول الخليج العربي كأثر ناتج عن

الهجرة المغادرة	ج	حجم القوة الديموغرافية	أ
صغر مساحة الدول	د	اختلاف التركيب الاقتصادي	ب

١٥ يمكن للدول الخليج العربي ان تستقطب عماله ماهرة دون الاخلال بالتجانس الاثنوجرافي من دولة

تونس	ج	اليابان	أ
الصين	د	القبليين	ب

١٦: تتعرض الهوية الثقافية للأمة العربية للخطر نتيجة لـ

الهجرات النازحة والاحلاف العسكرية	ج	الهجرات الوافدة والتكتلات الاقتصادية	أ
الهجرات النازحة والمنظمات الدولية	د	الهجرات الوافدة والعولمة الاجتماعية	ب

١٧: من العوامل التي تسهم في تحقيق عدم تجانس السكان داخل دولة ما

شكل الدول والطابع السهلي	ج	الهجرة الوافدة والطابع الجبلي	أ
المناخ والهجرة الغير الشرعية	د	الهجرة النازحة والطابع السهلي	ب

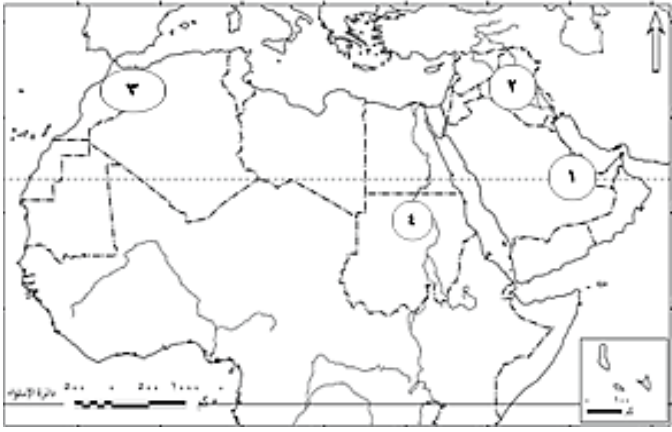
١٨: من المناطق التي يعتمد اقتصادها على العمالة الاجنبية الوافدة من الخارج

وسط امريكا الجنوبية	ج	شرق اوربا	أ
شمال غرب افريقيا	د	جنوب غرب آسيا	ب

١٩: تعددت الثقافات والعادات بدول الخليج العربي في الفترة الاخير كنتيجة لـ

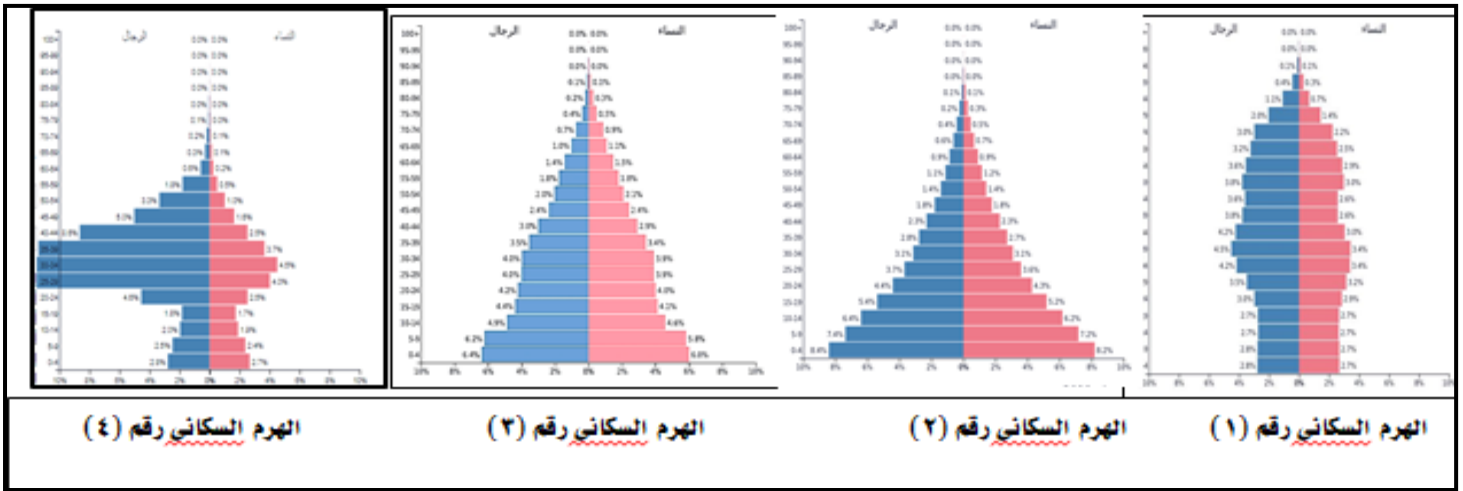
المساحة الصغيرة للدول	ج	اختلاف مناهج التعليم	أ
تدريس اللغات العالمية	د	الهجرة الوافدة	ب

٢٠:- أي المناطق المحددة على الخريطة قد تعاني من ازدواجية
قد تنوع العادات



(١)	أ
(٢)	ب
(٣)	ج
(٤)	د

٢١:- من خلال تحليلك للأهرام السكانية التالية اى منهما قد يعاني من هجرة العقول والكفاءات العلمية



(٣)	ج	(١)	أ
(٤)	د	(٢)	ب

٢١:- تتمتع إيطاليا واسبانيا بمواقع استراتيجية متميزة الا انها تعاني من اختلال في التوازن الديموغرافي بسبب

الهجرة غير الشرعية والرسمية	ج	الهجرة القسرية والمغادرة	أ
الهجرة القسرية والوافدة	د	الهجرة الرسمية والقسرية	ب

٢٢:- من المناطق التي تعاني من نقص في العمالة المحلية بسبب قوتها الديموفولوجية

جنوب غرب آسيا	ج	وسط أوروبا	أ
شمال افريقيا	د	شرق قارة آسيا	ب

٢٣:- تعاني منطقة جنوب غرب آسيا من عدم التجانس السكاني نتيجة لـ.....

الهجرة النازحة	⊖	الهجرة الوافدة	ⓐ
الهجرة الداخلية	ⓓ	هجرة العقول	ⓑ

٢٤:- يشترك كل من الدول المرسله للمهاجرين والدول المستقبلية في تحقيق استفادة.....

ثقافية	⊖	اجتماعية	ⓐ
اقتصادية	ⓓ	سياسية	ⓑ

٢٥:- قال الرئيس السيسي خلال حفل تكريم المرأة المصرية والأم المثالية ٢٠٢٢ (المرأة المصرية صانعة المجد وأساس لبناء الوطن ونهضته ومازالت له داعما وظهيرا) تشير المقولة السابقة إلى

اهمية التركيب النوعي	⊖	التجانس السكاني بين فئات المجتمع	ⓐ
القوة التنظيمية للدولة.	ⓓ	دور الشباب في بناء المجتمعات	ⓑ

٢٦:- اي الدول التالية المحددة في الجدول من المتوقع أن تصبح دول عظمى إذا توفرت لديها مقومات اخرى

حجم السكان في الدولة بالمليون	
الدولة	حجم السكان بالمليون
س	١٣
ع	٥٣
ل	٣٣
م	٩٠

ⓐ	س
ⓑ	ع
ⓓ	ل
ⓓ	م

٢٧:- نتج عن قلة اعداد سكان في بعض دول جنوب غرب آسيا الغنية بالموارد.....

عدم التجانس بين سكانها	⊖	حدوث نزاعات سياسية داخلية	ⓐ
زيادة قوتها الاقتصادية	ⓓ	وجود اقلييات انفصالية بها	ⓑ

٢٨:- قد نتخشي دولة الهند من حدوث الاضطرابات السياسية الداخلية بسبب.....

عدم الانضمامها الاحلاف عسكرية	⊖	ضخامة مواردها الاقتصادية	ⓐ
ضعف قوتها العسكرية	ⓓ	تركيبها الديموغرافي	ⓑ

٢٩:- اي المناطق التالية تتميز بتعدد الجنسيات بها بسبب استقبالها تيارات هجرة مختلفة.....

شرق امريكا الشمالية	⊖	جنوب غرب آسيا	ⓐ
شمال افريقيا	ⓓ	شمال اوربا	ⓑ

٣٠- تخشى كل من الهند والصين من الحركات الانفصالية بسبب

تعدد القوميات	⊖	الحجم السكاني الكبير	Ⓐ
التطور العسكري	Ⓓ	تعدد اللغات	Ⓑ

٣١- تدفع الصعوبات الديموغرافية بعض الدول لإقامة تحالفات عسكرية من أجل

تسهيل عملية التنمية	⊖	توفير الأمن الغذائي	Ⓐ
توفير الحماية والامن	Ⓓ	تسهيل الاتصال الخارجى	Ⓑ

٣٢- تتنوع تأثيرات الهجرة الخارجية على الدول المتقدمة ويظهر ذلك في

زيادة تجانس الدولة مما ينعكس بالايجاب على التطور التكنولوجى	Ⓐ
زيادة صادراتها من الموارد الخام والسلع الانتاجية	Ⓑ
قلة التجانس السكانى والاستفادة من العقول المهاجرة	⊖
تقوية العلاقات بين الدول النامية والمتقدمة	Ⓓ

٣٣- تتحقق الاستفادة القصوى من الحجم السكاني من خلال

تشجيع الهجرة الخارجية وتقوية العلاقات الدولية	⊖	اعادة توزيع السكان وتشجيع الهجرة للحضر	Ⓐ
توفير فرص العمل وغرس الروح الوطنية من النشى	Ⓓ	عدم الدخول في تكتلات اقتصادية	Ⓑ

٣٤- يعد التركيب النوعي نقطة ضعف على قوة الدولة في

جنوب غرب آسيا	⊖	شمال اوربا	Ⓐ
شرق امريكا الشمالية	Ⓓ	وسط استراليا	Ⓑ

٣٥- (روسيا - الصين - الولايات المتحدة) القاسم المشترك بينهما

مركزية جميع القرارات	⊖	معدل الانفاق على البحث العلمى	Ⓐ
عدد دول المجاورة	Ⓓ	اشكال الدولة	Ⓑ

٣٦- يرجع السبب في تباين الثقافات والعادات في جنوب غرب آسيا في الوقت الحالى إلى

قوتها الديموغرافية	⊖	تقدمها التكنولوجى	Ⓐ
نقص العمالة المحلية	Ⓓ	تدريس اللغات العالمية	Ⓑ

٣٧:- أكثر مناطق أوروبا التي تعاني من ازدواجية الفكر وتنوع العادات هي

أقصى شمال أوروبا	⊕	جنوب أوروبا	Ⓐ
أقصى شرق أوروبا	Ⓓ	وسط أوروبا	Ⓑ

٣٨:- نتج عن قلة اعداد سكان فى بعض دول جنوب غرب آسيا الغنية بالموارد

عدم التجانس بين سكانها	⊕	حدوث نزاعات سياسية داخلية	Ⓐ
زيادة قوتها الاقتصادية	Ⓓ	وجود اقلييات انفصالية بها	Ⓑ

٣٩:- للهجرة الشرعية تأثير ايجابي على الدول المرسله للمهاجرين فى المجالين

الاقتصادي والاجتماعي	⊕	الاجتماعي والاقتصادي	Ⓐ
العلمي والاقتصادي	Ⓓ	العسكري والعلمي	Ⓑ

٤٠:- من خلال الجدول الذى امامك استنتج أي من الدول التالية تعاني من تناقص عائدها من العملات النقدية الاجنبية

الدولة	نسبة العائدين
س	٢٢٪
ع	٣٣٪
ل	٧٪
م	١٥٪

Ⓐ	س
Ⓑ	ع
⊕	ل
Ⓓ	م

٤١:- من خلال الجدول الذى امامك استنتج أي من الدول التالية الاكثر في توفير احتياطي النقدي من العملات النقدية الاجنبية

الدولة	نسبة المهاجرين بالنسبة السكان
س	٢٪
ع	١٪
ل	٧٪
م	٦٪

Ⓐ	س
Ⓑ	ع
⊕	ل
Ⓓ	م

٤٢:- تتعرض الهوية الثقافية للأمم العربية للخطر نتيجة لـ

الهجرات النازحة والاحلاف العسكرية	⊕	الهجرات الوافدة والتكتلات الاقتصادية	Ⓐ
الهجرات النازحة والمنظمات الدولية	Ⓓ	الهجرات الوافدة والعولمة الاجتماعية	Ⓑ

٤٣: :- إذا عاد كل المهاجرين من دول الخليج الي موطنهم الاصلي سوف تشهد دول الخليج.....

ازمه اقتصادية وصراعات اجتماعيه	Ⓐ	تجانس سكاني وازمه اقتصادية	Ⓐ
تجانس سكاني وازمه بطاله	Ⓑ	ازمه بطاله وصراعات اجتماعيه	Ⓓ

٤٤: :- يمكن للدول الخليج العربي ان تستقطب عماله ماهرة دون الاخلال بالتجانس الاثنوجرافي من دولة

السودان	Ⓐ	ارتيريا	Ⓐ
تشاد	Ⓑ	افريقيا الوسطى	Ⓓ

٤٥: :- اي من الدول الاتيه التي استطاعت التأقلم مع مشكلتي الصعوبات التواصل بالعالم الخارجي والواقع الإثنوغرافي.....

اسبانيا	Ⓐ	سويسرا	Ⓐ
اندونيسيا	Ⓑ	العراق	Ⓓ

٤٦: :- (تهتم الجغرافيا السياسية بدراسة مقومات الجغرافيا الطبيعية والبشرية للدول) في ضوء العبارة:

وضح تمتلك السعودية علاقات اقليميه ودولية كبيرة بفضل.....

مواردها الطبيعية	Ⓐ	قوتها التنظيمية	Ⓐ
موقعها الجغرافي	Ⓑ	الوزن السكاني	Ⓓ

٤٧: :- اهم نفاط الضعف التي تعاني منها الدول النامية في علاقاتها مع الدول المتقدمة في

مصادر الطاقة في الدول النامية	Ⓐ	حجم سكان الدول النامية	Ⓐ
الانتاج الغذائي بالدول النامية	Ⓑ	القوة التنظيمية في الدول المتقدمة	Ⓓ

٤٨: :- شهدت مصر هجرة العقول مفكرة الى الدول المتقدمة وقد يؤثر ذلك في سلبيا في

توفير العملات الصعبة	Ⓐ	علاقاتها الخارجية	Ⓐ
المشكلة السكانية	Ⓑ	تطويرها الاقتصادي	Ⓓ

٤٩: :- استطاعت اليابان الى تحقيق نهضة اقتصادية معتمدة على

مواردها الطبيعية	Ⓐ	موقعها الجغرافي	Ⓐ
ثروتها البشرية	Ⓑ	تنوع مناخها	Ⓓ

٥٠: :- تعدد اللغات الرسمية في الدولة يشير بالضرورة الى

وجود رغبة في الانفصال	Ⓐ	زيادة الوزن السياسي	Ⓐ
ضعف الدول عسكريا	Ⓑ	وجود تنوع ثقافي	Ⓓ

٥١:- يختنى الاثر السلبى لتعدد اللغات فى دول سويسرا بسبب

قلة عدد السكان	Ⓐ	اتباع سياسة تغليب المصالح	Ⓐ
اعتماد اكثر من لغة فى مصالح الحكومية	Ⓑ	قوة الدولة الاقتصادية	Ⓓ

٥٢:- بالرغم من تميز دول الوطن العربى ببساطة التركيب اللغوى إلا أن الجهات الشرقية منه فى السنوات الاخيرة افتقدت بعض هذه المميزات نتيجة

ارتفاع معدلات الزيادة غير الطبيعية	Ⓐ	الانفتاح على الحضارة الاوربية	Ⓐ
استخدام نظم التعليم الحديث	Ⓑ	اعتماد اكثر من لغة رسمية	Ⓓ

٥٣:- الدول التى تعاني من هجرة العقول توصف بأنها تعاني من

التبعية الاقتصادية للخارج	Ⓐ	اضطرابات سياسية فى الداخل	Ⓐ
تنوع الثقافات والعادات	Ⓑ	ارتفاع نسبة الفئة الاكثر استهلاكاً	Ⓓ

٥٤:- يتوقف وضع خطط التنمية الاقتصادية للدول على

التركيب العمري	Ⓐ	التركيب النوعى	Ⓐ
اللغة والدين	Ⓑ	الهجرة الداخلية	Ⓓ

٥٦:- اى من الخصائص الديموغرافية الآتية الاكثر تأثيراً على رسم خريطة العالم السياسية

الخصائص الانثوغرافية	Ⓐ	التركيب العمري	Ⓐ
الحجم السكانى	Ⓑ	مستوى التكنولوجيا	Ⓓ

٥٧:- تتأثر التنمية الاقتصادية فى الدول النامية سلبياً ب.....

اللغة و الدين	Ⓐ	التركيب النوعى	Ⓐ
هجرة العقول	Ⓑ	الهجرة الداخلية	Ⓓ

٥٨:- تقدم اليابان أكبر الدلائل الواضحة على وجود علاقة بين الصناعة و.....

المستوى التعليمي	Ⓐ	النقل والتجارة	Ⓐ
اتساع السوق	Ⓑ	الموارد المعدنية	Ⓓ

٥٩:- من خصائص السكان التى تؤثر بشكل سلبى على الدول النامية هي

التركيب النوعى والدين	Ⓐ	التركيب النوعى والتعليم	Ⓐ
التركيب العمري واللغة	Ⓑ	اللغة والهجرة الداخلية	Ⓓ

٦٠- يمكن للدول النامية مواجهة ظاهرة هجرة العقول بالاهتمام ب.....

تطوير المناهج التعليمية	Ⓐ	برامج الرعاية الاجتماعية	Ⓐ
تدعيم البحث العلمي	Ⓑ	الاستعانة بالخبرات الاجنبية	Ⓑ

٦١- من الدول التالية تجد صعوبة في السيطرة على امورها الداخلية بسبب خصائصها الديموغرافية

السعودية	Ⓐ	الكويت	Ⓐ
الصين	Ⓑ	سلطنة عمان	Ⓑ

الركب الاقتصادية - القوة العسكرية - القوة التنظيمية

١- أى مؤشرات القوة العسكرية تفقدها دول الخليج العربي اذا رغبت في تكوين قوة عسكرية فيما بينها

مقدار الانفاق العسكري	Ⓐ	مقدار المعدات العسكرية	Ⓐ
حجم القوة العسكرية	Ⓑ	كفاءة المقاتل و إخلاصه	Ⓑ

٢- أثبتت حرب اكتوبر ١٩٧٣ كفاءة المقاتل العربي واستيعاب الاسلحة الحديثة عبر العبارة السابقة على.

مؤشر عسكري يمكن قياسه .	Ⓐ	قدرة مصر في التصنيع الحربي	Ⓐ
وجود مخزون كافي من الاسلحة .	Ⓑ	العناصر غير المادية للقوة العسكرية.	Ⓑ

٣- من العناصر الغير مادية في القوة العسكرية

المعدات العسكرية	Ⓐ	الانفاق العسكري	Ⓐ
العقيدة القتالية	Ⓑ	المسكرات الحربية	Ⓑ

٤- من التقنيات الحديثة التالية التي يمكن الاعتماد عليها للقياس مؤشرات القوة العسكرية للدول

التصوير الجوي والفضائي	Ⓐ	الاستشعار من بُعد	Ⓐ
نظم المعلومات الجغرافية	Ⓑ	وسائل الاتصال اللاسلكية	Ⓑ

٥- تستمد الدولة قوتها الاقتصادية من..... " حصص مصر "

زيادة حجم صادراتها عن وارداتها	Ⓐ	الاتجاه نحو التخصص في الإنتاج الزراعي	Ⓐ
الانضمام الى احلاف عسكرية	Ⓑ	رفض الاتجاه نحو العولمة الاقتصادية	Ⓑ

٦- يدل نجاح مصر في تنظيم كأس الامم الافريقية لكرة القدم ٢٠١٧ بالقاهرة رغم التحديات الاقتصادية التي تعاني منها يمثل أحد اهتمامات الجغرافيا السياسية وهو

التنظيم الداخلى	Ⓐ	المقومات الطبيعية	Ⓐ
العلاقات الدولية	Ⓑ	التحليل السياسي للقوة	Ⓑ

٧:- نستنتج من العبارة المقابلة امتلاك دولة البرازيل لبعض عناصر قوة الدولة ومنها القوة.....

استخدمت الحكومة البرازيلية لعبور أزماتها الاقتصادية فى نهاية القرن العشرين مبدأ المكاشفة والتكشف وتحمل الشعب البرازيلى بنجاح أعباء تلك السياسية وعبرت أزمته الاقتصادية.

الاقتصادية والديموجرافية	أ
التنظيمية والديموجرافية	ب
الاقتصادية والمورفولوجية	ج
التنظيمية والمورفولوجية	د

٨:- يعد الجيش المصرى من اقوى الجيوش العربية ويحتل مرتبة متقدمة على مستوى العالم "

فى ضوء هذه العبارة اختر:

العامل المشترك بين القدرات العسكرية والامن الغذائي هو.....

تحقيق الأمن القومى	أ	زيادة التماسك الداخلى	ج
تفعيل خطط التنمية المختلفة	ب	تخفيف أثر الصدمات الخارجية	د

٩:- نجاح روسيا فى احياء الفكر الديناميكي فى العقد الثالث من الالفية الثالثة نتيجة لامتلاكها القوة

الاقتصادية	أ	المورفولوجية	ج
العسكرية	ب	التنظيمية	د

١٠:- يؤدى التركيز على تطوير القاعدة الصناعية والبنية الأساسية فى الدولة الى

تضائل أهمية إنتاجها الزراعى	أ	تنوع وارداتها الاقتصادية	ج
زيادة مواردها الأولية	ب	تحسين قدراتها العسكرية	د

١١:- (اللغة - السهول - تنوع المناخ - وفرة وسائل المواصلات) الرابط المشترك بينهم

تحقيق الهدف الداخلى للجيوبولتيك	أ	سهولة الدفاع الدولة عن نفسها	ج
الاحتياج الى التحالفات العسكرية	ب	تخفيف أثر الصدمات الداخلى	د

١٢:- تعبر محتوى الخريطة التى امامك على قوة الدولة



الاقتصادية	أ
التنظيمية	ب
العسكرية	ج
الديموجرافية	د

١٣- أهم جوانب المجال الاقتصادي بالنسبة للدولة من الناحية الاستراتيجية (العسكرية)

الإنتاج الزراعي والمعادن	⊕	الإنتاج المعدني والصناعي
الإنتاج الزراعي والصناعي	⊖	النقل والتقدم التكنولوجي

١٤:- تشابه وسائل النقل و السهول في

سهوله الاتصال بالعالم الخارجى	⊕	جعل الدوله مكشوفه
تنوع الإنتاج الزراعي	⊖	قلة مانعة الدولة

١٥ :- العامل المشترك بين القوه العسكرية و الإنتاج الزراعي هو

تحقيق الأمن القومي	⊕	تخفيف أثر الصدمات الخارجية
زياده التمسك الداخلى	⊖	تفعيل خطط التنمية المختلفه

١٦ : يمكن الحكم على " جودة منظومة الجهاز الإداري للدولة " من خلال قوتها

العسكرية	⊕	التنظيمية
المورفولوجية	⊖	الديموغرافية

١٧ :- يرتبط تعرض الدولة للضغوط الخارجية بـ

سباق التسلح بين الدول	⊕	التركيب النوعى لسكان
نقص مواردها الغذائية	⊖	الزيادة الغير الطبيعية

١٨ :- حرص الدولة على تنفيذ برامج حياة كريمة في الريف المصري بالدولة يمثل احد اهتمامات الجغرافيا السياسية وهو

التنظيم الداخلى	⊕	المقومات الطبيعية
العلاقات الدولية	⊖	التحليل السياسى للقوة

١٩ :- استنتج من خلال الجدول المقابل

الاکثر معاناة فى استقلال قراراتها السياسية فى بعض.....

الدولة	نسبة الانفاق على المواد الغذائية من ميزانية الدولة
س	٢٠٪
ع	١١٪
ل	٣٢٪
م	١٦٪

س	⊕
ع	⊖
ل	⊕
م	⊖

٢٠: حققت الدول العربية اهدافها السياسية خلال النصف الثاني من القرن العشرين من خلال

الطاقة النووية	Ⓐ	الوقود الحيوي	Ⓐ
الكتل الحيوية	Ⓓ	الوقود الحفري	Ⓑ

٢١: طرق النقل والمواصلات لها تأثيرها الاجتماعي يتمثل في

تنوع الثقافات	Ⓐ	تحقيق الوحدة والتجانس	Ⓐ
تطور العلاقات الدولية	Ⓓ	تحقيق الاكتفاء الذاتي	Ⓑ

٢٢: وسيلة فرض الدولة نفوذها الإداري يتحقق من خلال

تنوع الثقافات	Ⓐ	تحقيق الوحدة والتجانس	Ⓐ
تطور العلاقات الدولية	Ⓓ	تحقيق الاكتفاء الذاتي	Ⓑ

٢٣: يرتبط طرق النقل والمواصلات المتطورة مع افكار

ابن خلدون	Ⓐ	أرسطو	Ⓐ
راتزل	Ⓓ	كيلين	Ⓑ

٢٤: كل المعادن التالية تستخدم في الصناعات الحربية ولكن يخرج عن تلك المعادن

الكروم	Ⓐ	الحديد	Ⓐ
المنجنيز	Ⓓ	الالومينوم	Ⓑ

٢٥: السلاح الذي استخدمته الدول العربية لتحقيق الاهداف السياسية والاقتصادية يتمثل في

الكتل الحيوية	Ⓐ	الوقود الحفري	Ⓐ
الطاقة الكهرومائية	Ⓓ	الوقود الحيوي	Ⓑ

٢٦: قدرة الدولة على محاربة الفساد والمحسوبية داخل المجتمع يدخل ضمن قوة الدولة

التنظيمية	Ⓐ	العسكرية	Ⓐ
الديموغرافية	Ⓓ	المورفولوجية	Ⓑ

٢٧: هددت اجتياح روسيا لا كروانيا الامن القومي لكثير من الدول النامية نتيجة لـ

اختلال ميزانها التجاري	Ⓐ	نقص مواردها من الحبوب الغذائية	Ⓐ
تراجع العائد الاحتياطي من العملات الاجنبية	Ⓓ	عودة عدد من المهاجرين الى مواطنهم	Ⓑ

٢٨:- من خلال الجدول استنتج

الدولة التي تفتقد الى عناصر قوة الدولة الاقتصادية

الدولة	قيمة الواردات	قيمة الصادرات
س	٨٩٦١	٦٨٥٧
ع	٧١١٨	١٢٨٧٩
ل	٢٩٦٦٠	٣٢٩٨٧
م	٧٨٩٠	٩٠٨٧

س	أ
ع	ب
ل	ج
م	د

٢٩:- يساعد نظم المعلومات الجغرافية فى تحديد قوة الدولة العسكرية عن طريق توفير البيانات والمعلومات عن.....

مقدار المعدات العسكرية	أ	كفاءة المقاتل ومدى إخلاصه	ج
نوعية المقاتل ودرجة تعلمه.	ب	كفاءة جهاز المخابرات الحربية	د

٣٠:- الدول الاوربية التى استطاعت ان تحقق اكتفاء ذاتى من الغذاء تقع.....

جنوب بحر المانش	أ	جنوب البحر البلطى	ج
جنوب البحر الادرياتي	ب	شرق البحر الاسود	د

٣١:- يرجع استقلال القرار السياسى للدولة المظللة على الخريطة المقابلة الى قدراتها.....



العسكرية	أ
البحرية	ب
الزراعية	ج
المورفولوجية	د

٣٢:- يقل اسهامات المرأة فى جنوب و جنوب شرق آسيا فى العملية الانتاجية لاعتبارات.....

الاقتصادية	أ	السياسية	ج
الاجتماعية	ب	العسكرية	د

الاسئلة المقالية على المقومات البشرية لقيام الدولة

(١) يؤثر المستوى التعليمي والتقدم العلمي للسكان تأثير كبيراً في قوة الدولة (حلل العبارة جغرافياً)

(٢) ما أوجه التشابه بين (توفر الموارد الغذائية - القوة العسكرية)

(٣) مؤشرات القوة العسكرية لا تقاس فقط بالجوانب المادية فقط (ما مدى مصداقية العبارة)

(٤) يعد الهرم السكاني لدولة ما مؤشراً لمدى وقوة وضعف الدولة (ما مدى مصداقية العبارة)

(٥) ما مقترحاتك - : الحد من هجرة العقول من الدول النامية

(٦) تتمتع كل من ألمانيا وهولندا بالتجانس السكاني (فسر ذلك)

تدريبات

النظام السياسي والانتخابي للدولة

النظام السياسي في الدولة

١:- النظام السياسي في صورته المؤسسية يظهر في

رفص طرق القري	⊕	رفص مستوى العاملين الادارات الصحية	Ⓐ
الاهتمام بمراكز الشباب	Ⓓ	عقد الاتفاقيات التجارية	Ⓑ

٢:- اى مما ياتي يعبر مفهوم النظام السياسي في صورته المؤسسة

الانتخابات البرلمانية لمجلس الشيوخ	⊕	تطوير شبكات الصرف الصحي	Ⓐ
تطوير الوحدات الصحية	Ⓓ	مبادرة حياة كريمة	Ⓑ

٣:- من الأهداف الرئيسية للنظام السياسي بصورته الاجتماعية

عقد الاتفاقيات التجارية	⊕	اجراء استفتاء على الدستور	Ⓐ
اصدار التشريعات والقوانين	Ⓓ	توفير الرعاية الصحية للمواطنين	Ⓑ

٤:- النظام السياسي في صورته المؤسسية يظهر في

ادخال التكنولوجيا في المدارس	⊕	متابعة رفص الطرق	Ⓐ
تقديم اعانات للأسر الاكثر فقراً	Ⓓ	التصديق على رفص اجور العاملين بالدولة	Ⓑ

٥:- يتم تحديد نظام الحكم السائد وفقاً ل.....

القضاء	⊕	الدستور	Ⓐ
الحكومة	Ⓓ	البرلمان	Ⓑ

٦:- يهدف النظام السياسي في صورته المؤسسة إلى

عقد الاتفاقيات التجارية بي الدول	⊕	تطوير مراكز الطفولة والامهات	Ⓐ
تحديد الاسر الاولى بالرعاية الاجتماعية	Ⓓ	رفص الطرق وانشاء الكبارى	Ⓑ

٧:- يهدف النظام السياسي في الدولة إلى تحقيق العديد اهداف اجتماعية منها

الفصل بين السلطات	⊕	تحديد مسؤوليات الحاكم	Ⓐ
التداول السلمى للسلطة	Ⓓ	تحقيق الامن القومى	Ⓑ

٨- وضع الدستور داخل انظمة الحكم الديمقراطي من اختصاص السلطة

التشريعية	⊕	المحلية	أ
التنفيذية	⊖	القضائية	ب

٩- اي مما يلي يعبر عن مفهوم النظام السياسي فى صورته الاجتماعية

عقد المعاهدات التجارية	⊕	اجراء الانتخابات البرلمانية	أ
تطوير مراكز الشباب	⊖	اقرار الموازنة العامة	ب

١٠- يتمثل المعيار الاساسي للحكم على كفاءة نظام الحكم فى اي دولة فى

العلاقة بين السلطات	⊕	سلطة البرلمان فى الدولة	أ
العلاقة بين الحاكم والمحكوم	⊖	صلاحيات رئيس الدولة	ب

١١ يتم تحديد نظام الحكم السائد وفقاً لـ

القضاء	⊕	الدستور	أ
الحكومة	⊖	البرلمان	ب

١٢- الاشراف القضائي على العملية الانتخابية بالدولة يمثل احد اهتمامات الجغرافيا السياسية وهو

العلاقات الدولية	⊕	التنظيم الداخلى	أ
المقومات الطبيعية	⊖	التحليل السياسي للقوة	ب

النظام الانتخابي فى الدولة

١- الجدول التالي يوضح اعداد الاصوات التى حصل عليها كل مرشح

يظهر الجدول ان اللجنة الانتخابية انتهت من المرحلة

المرحلة الثانية	أ
المرحلة الثالثة	ب
المرحلة الرابعة	⊕
المرحلة الخامسة	د

بيان بأعداد اصوات التى حصل عليها المرشحين فى العملية الانتخابية	
المرشح	أجمالي الاصوات
س	٣٤٢٦٧
ص	٦٥٨٨
ع	٩١٠٩٨
ل	٨٧٦٥٥

٢: ترتبط الصورة التي امامك بالتطبيق العملي لأي مرحل من مراحل العملية الانتخابية



الاولى	Ⓐ
الثانية	Ⓑ
الثالثة	Ⓒ
الرابعة	Ⓓ

٣: (النظام الرئاسي - النظام البرلماني - النظام شبه رئاسي) القاسم المشترك بينهما

طريق اختيار اعضاء السلطة التنفيذية	Ⓒ	سلطة التشريع	Ⓐ
سلطات رئيس الدولة	Ⓓ	الفصل بين السلطات	Ⓑ

٤: (الديمقراطية هو حكم الشعب بواسطة الشعب ولأجل الشعب) أي من مراحل العملية الانتخابية تتوافق مع مضمون العبارة السابقة

فرز الاصوات	Ⓒ	اجراء الانتخابات	Ⓐ
تقسيم الدوائر الانتخابية	Ⓓ	الترشح في الانتخابات	Ⓑ

٥: يتشابه نظام الحكم في كل من الولايات المتحدة الامريكية والمملكة المتحدة من حيث

سلطات الرئيس	Ⓒ	سلطات رئيس الوزراء	Ⓐ
مصدر التشريع	Ⓓ	الفصل بين السلطات	Ⓑ

٦: تتأثر العملية الانتخابية ببعض الجوانب الجغرافية التي تظهر بوضوح في بعض المراحل العملية الانتخابية

الترشح للانتخابات	Ⓒ	تقسيم الدوائر الانتخابية	Ⓐ
فرز الاصوات	Ⓓ	تحديد الفائزين	Ⓑ

٧: ترتبط الصورة التي امامك بالتطبيق العملي لأي مرحل من مراحل العملية الانتخابية



اعلان الفائزين	Ⓐ
تقسيم الدوائر	Ⓑ
الترشح للانتخابات	Ⓒ
التصويت في الانتخابات	Ⓓ

٨:- في ضوء انظمة الحكم الديمقراطية اذا تكررت شكاوى المواطنين في مراكز محلية مختلفة في دولة ما من قصور في الحصول على خدمات معينة في بعض المستشفيات الحكومية فإنه يقدم الى وزير الصحة طلب إحاطة واستجواب من خلال

رئيس الدولة	Ⓐ	البرلمان	Ⓐ
الحكومة	Ⓑ	رئيس الوزراء	Ⓑ

٩:- الصورة المقابلة تعبر عن احدى مراحل العملية الانتخابية اى من المراحل الآتية سبقت المرحلة التى تعبر عنها الصورة



لتقسيم الدوائر الانتخابية	Ⓐ
فرز الاصوات	Ⓑ
إجراء الانتخابات	Ⓒ
الترشح للانتخابات	Ⓓ

١٠:- نظام الحكم الذى ينتشر فى احد الدول الجزرية فى اقصى غرب قارة اوربا

جمهوري	Ⓐ	رئاسي	Ⓐ
شبه رئاسي	Ⓑ	برلماني	Ⓑ

١١:- في ضوء دارستك للانظمة الحكم وفقاً للعلاقة بين السلطات الثلاثة يفصل المحيط الاطلسي بين نظامين سياسيين

يختلفان في سلطة تشريع القوانين	Ⓐ	يتفقان في صلاحية رئيس الوزراء	Ⓐ
يتطابق في سلطات راس السلطة الحاكمة	Ⓑ	يختلفان في صلاحيات سلطات البرلمان	Ⓑ

١٢:- العملية الانتخابية لها جوانب جغرافية كثيرة تتناولها الجغرافيا السياسية معظمها ترتبط بقوة الدولة

الاقتصادية والسياسية	Ⓐ	الديموغرافية والمورفولوجية	Ⓐ
المورفولوجية والسياسية	Ⓑ	الديموغرافية والعسكرية	Ⓑ

١٣:- الديمقراطية والانتخابات " وجهان لعملة واحدة اى من المراحل التالية الاكثر تعبيراً عن مفهوم تلك العبارة

التصويت في الانتخابات	Ⓐ	تقسيم الدوائر الانتخابية	Ⓐ
الترشح في الانتخابات	Ⓑ	اعلان النتيجة	Ⓑ

١٤:- يرتبط تقسيم الدولة الى دوائر الانتخابية لاجراء العملية الانتخابية باحدى وسائل التقنيات الحديثة وهى

تحديد المواقع العالمية	Ⓐ	الاستشعار عن بعد	Ⓐ
وسائل الاتصالات الحديثة	Ⓑ	نظم المعلومات الجغرافية	Ⓑ

١٥:- اي مما يأتي بعد اعلان الفائزين بعد العملية الانتخابية

توزيع الدوائر الانتخابية	أ
استخدامات الأرض داخل الدوائر الانتخابية	ب
الترشح للانتخابات	ج
تحليل أثر البيئة الطبيعية على السلوك الانتخابي للفرد	د

١٦:- تتأثر العملية الانتخابية ببعض الجوانب الجغرافية التي تظهر بوضوح في بعض المراحل العملية الانتخابية.....

الترشح للانتخابات	ج	تقسيم الدوائر الانتخابية	أ
فرز الاصوات	د	تحديد الفائزين	ب

١٧:- يتشابه النظام البرلماني والنظام شبه رئاسي في ..

سلطات رئيس الدولة	ج	الفصل بين السلطات	أ
طريق اختيار اعضاء البرلمان	د	صلاحية رئيس الوزراء	ب

١٨:- تتشابه دراسة جغرافية الانتخابات للدوائر الانتخابية مع دراسة الجغرافيا السياسية ل

الوحدات السياسية	ج	الحدود السياسية	أ
الصراعات الاقليمية	د	العلاقات الدولية	ب

١٩:- إذا تركزت السلطة التشريعية في يد البرلمان والسلطة التنفيذية في يد الحكومة فإن هذا يدل علي

الانفراد بصنع واتخاذ القرار السياسي	ج	التعارض مع مبدأ الفصل بين السلطات	أ
مخالفة نظم الحكم الديمقراطية	د	تحقيق مبدأ الفصل بين السلطات	ب

٢٠:- يمثل المعيار الاساسي للحكم على كفاءة نظام الحكم في اي دولة في

العلاقة بين السلطات	ج	سلطة البرلمان في الدولة	أ
العلاقة بين الحاكم و المحكوم	د	صلاحيات رئيس الدولة	ب

٢١:- عندما تختصر واجبات البرلمان على اصدار القوانين فقط دون تدخل في مهام السلطة التنفيذية فأنا نتحدث على

الملكي	ج	البرلماني	أ
شبه رئاسي	د	الرئاسي	ب

٢٢:- تجمع الولايات المتحدة الامريكية بين

مركزية القرارات السيادية والفصل بين السلطات	Ⓐ
مركزية جميع القرارات وزيادة صلاحيات البرلمان	Ⓑ
زيادة صلاحيات البرلمان والتوازن بين السلطات	Ⓒ
تقلص صلاحيات رئيس الدولة وزيادة صلاحيات رئيس الوزراء	Ⓓ

٢٣:- العملية الانتخابية لها جوانب جغرافية كثيرة تتناولها الجغرافيا السياسية يخرج عنها ..

الانشطة الاقتصادية	Ⓒ	التركيب العمري	Ⓐ
التقسيم الإداري	Ⓓ	الاتفاقيات التجارية	Ⓑ

٢٤:- الموافقة على الموازنة العامة في الدولة مسؤلية السلطة

التشريعية	Ⓒ	المحلية	Ⓐ
التنفيذية	Ⓓ	القضائية	Ⓑ

٢٥:- يتميز النظام السياسي الذي يقع في منطقة القلب الاقتصادي في نصف الكرة الشمالي الغربي ب

زيادة صلاحيات رئيس الوزراء	Ⓒ	الرئيس يسود ويحكم	Ⓐ
زيادة صلاحيات السلطة التشريعية	Ⓓ	برلمان منتخب يشكل الحكومة	Ⓑ

٢٦:- في ضوء دراستك لأنظمة الحكم وفقاً للعلاقة بين السلطات الثلاثة يتميز نظام الحكم في احد دول شمال غرب المحيط الاطلسي ب

برلمانى يشكل الحكومة	Ⓒ	رئيس يسود ويحكم	Ⓐ
مسئولية مشتركة بين الرئيس والحكومة	Ⓓ	رئيس يسود ولا يحكم	Ⓑ

٢٧:- تدخل السلطة التنفيذية في شئون السلطة التشريعية فان ذلك يتعارض مع

التداول السلمى للسلطة	Ⓒ	الاستقلال بين السلطات	Ⓐ
التداول الجبري للسلطة	Ⓓ	التداخل بين السلطات	Ⓑ

الاسئلة المقالية على النظام السياسي والانتخابي لقيام الدولة

١) لا تنتهي مهام جغرافية الانتخابات بإجراءات التصويت في العملية الانتخابية (ما تقييمك لمصادقية العبارة)

٢) :- العلاقة بين / الانتخابات بالجغرافيا السياسية

٣) :- يقوم النظام الانتخابي على عدة قواعد وأسس (وضح ذلك)

٤) :- حدد اهم المبادئ التي يعتمد عليها انظمت الحكم الديمقراطي

٥) :- ما العلاقة بين / النظام الانتخابي والقوة التنظيمية للدولة

٦) :- النظام الشبة رئاسي نظام وسط بين النظاميين الرئاسي والبرلماني عقب على صحة العبارة