

٩١ أكثر العوامل الآتية والتي لها تأثير سلبي على الأنشطة الاقتصادية بولاية ألاسكا الأمريكية .....  
 (أ) التضاريس. (ب) المناخ. (ج) النبات الطبيعي. (د) الموقع الجغرافي.

٩٢ تتميز دولة السويد بالشكل المستطيل (امتداد طولي) ومع ذلك تفتقر للتنوع المناخي بسبب .....  
 (أ) الموقع الجغرافي. (ب) صغر المساحة. (ج) عدم تنوع التضاريس. (د) الموقع الفلكي.

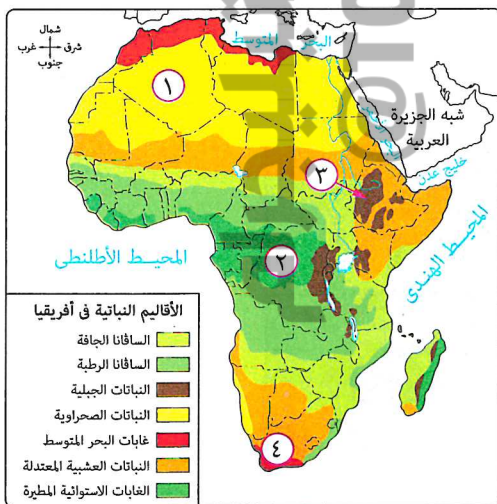


٩٣ توضح الصورة المقابلة، قدرة الإنسان على زيادة قوة الدولة بالتغلب على مشكلات الزراعة الخاصة ب.....  
 (أ) المناخ.  
 (ب) نقص المياه.  
 (ج) التصحر.  
 (د) خصوبة التربة.

٩٤ أكثر ما تستفيد منه دولة السويد في حال قيام هجوم على أراضيها هو .....  
 (أ) قسوة مناخها وكبر مساحتها.  
 (ب) موقعها البحري ونباتها الطبيعي.  
 (ج) شكلها وعدد الدول المجاورة لها.  
 (د) شكلها والنبات الطبيعي المنتشر بها.

٩٥ في ضوء دراستك لأهمية المناخ بالنسبة لقوة الدول، تتوقع أي من المناطق الآتية تكون دولها هي الأكثر تشجيعًا على جذب الاستثمارات لها ؟ .....  
 (أ) وسط أفريقيا. (ب) شمال آسيا. (ج) جنوب أوروبا. (د) شمال أمريكا الجنوبية.

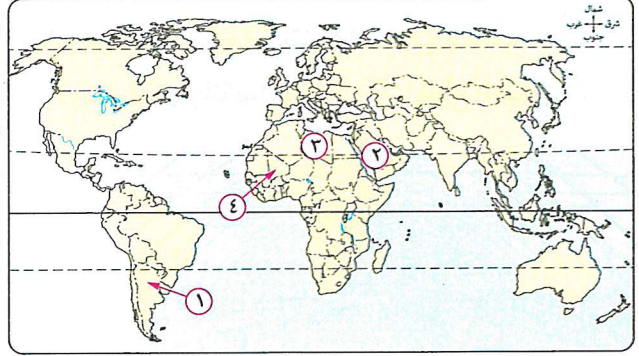
٩٦ يتصف وسط وجنوب الجزائر بعدد من الخصائص الجغرافية منها .....  
 (أ) اعتدال المناخ وزيادة فاعلية الأنشطة البشرية. (ب) شدة الحرارة وقلّة عدد السكان.  
 (ج) تنوع الإنتاج الزراعي لتنوع المناخ. (د) شدة البرودة وندرة السكان.



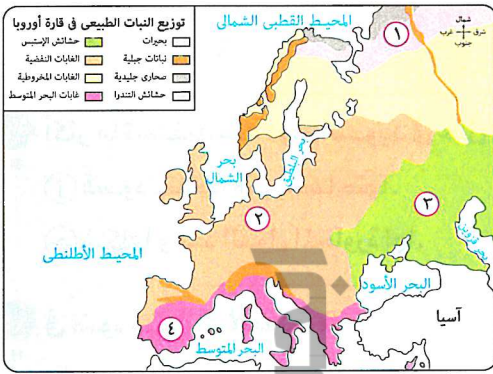
٩٧ ادرس الخريطة المقابلة ثم استنتج: المناطق التي تتوقع أن تضم المادة الخام اللازمة لصناعة إطارات السيارات .....  
 (أ) المنطقة ١  
 (ب) المنطقة ٢  
 (ج) المنطقة ٣  
 (د) المنطقة ٤

(تجريبى ٢٣)

٩٨ أي من الدول الموقعة على الخريطة التالية تُعد الأبرز في امتلاكها قوة طبيعية ساعدتها على إنتاج ما توضحه الصورة ؟ الصورة ؟ .....



- ١ الدولة (أ)      ٢ الدولة (ب)      ٣ الدولة (ج)      ٤ الدولة (د)



٩٩ من خلال الخريطة المقابلة أي المناطق التالية تشبه الأرجنتين في النشاط

الرعى ؟ .....

- ١ المنطقة (أ)      ٢ المنطقة (ب)      ٣ المنطقة (ج)      ٤ المنطقة (د)

(دور ثان ٢١)

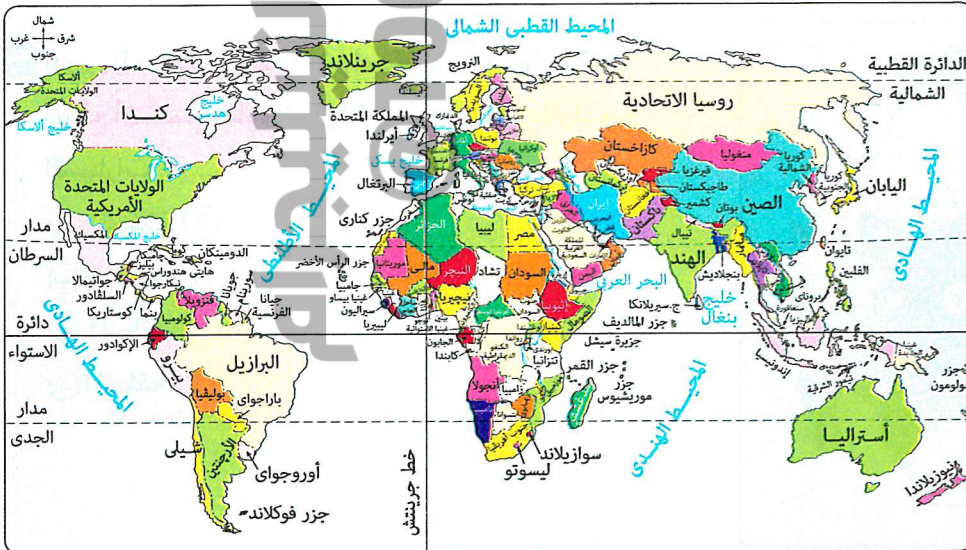
١٠٠ أي من العوامل الطبيعية الآتية الأكثر تأثيراً بالسلب على دولة آيسلندا ؟ .....

- ١ موقعها بالنسبة لليابس والماء.      ٢ موقعها الفلكي.      ٣ مساحتها.      ٤ شكلها.

١٠١ ادرس الخريطة التي أمامك، ولاحظ أن دولة سوريا تطل على البحر المتوسط بجهة ساحلية واحدة وهو

ما يتشابه مع دولة .....

(تجريبى ٢٣)



- ١ كينيا.      ٢ المغرب.      ٣ جنوب أفريقيا.      ٤ مصر.

١٠٢ تتعدد مزايا الموقع البحري للدولة، وأهم ما تستفاد منه ثقافيًا هو .....

- ١ سهولة اتصال الدولة بالعالم الخارجي.  
 ٢ زيادة الاحتكاك الحضاري للدولة.  
 ٣ تمتع الدولة بالثروات البحرية.  
 ٤ اقتصار صلاتها الثقافية على جيرانها.

١٠٣ تتشابه دولتا نيوزيلاندا ومالطة في .....

- ١ الواجهات البحرية. ٢ المساحة.  
 ٣ الموقع الفلكي. ٤ الموقع المركزي.

١٠٤ أي من الدول الآتية تزداد أهمية موقعها البحري لزيادة طول ساحلها ؟ .....

- ١ بريطانيا. ٢ العراق. ٣ تونس. ٤ سوريا.

١٠٥ يزداد بوضوح عدد الدول التي تفتقد أهمية الموقع البحري بقارة .....

- ١ أمريكا الشمالية. ٢ أوروبا. ٣ آسيا. ٤ أفريقيا.

١٠٦ بدراسة الخريطة المقابلة، نجد أن نهر الراين يكتسب

أهمية بسبب .....

- ١ امتداده من الشمال نحو الجنوب.  
 ٢ استخدامه في الملاحة الدولية.  
 ٣ تنوع أقاليمه المناخية.  
 ٤ كونه أطول أنهار أوروبا.



١٠٧ نستنتج من تحليل الخريطة المقابلة، أن دولة بنجلاديش يصعب

تصنيفها ضمن الدول المحتواه بسبب .....

- ١ موقعها البحري.  
 ٢ كثرة عدد الدول المجاورة.  
 ٣ كبر مساحتها.  
 ٤ شكلها الشريطي.



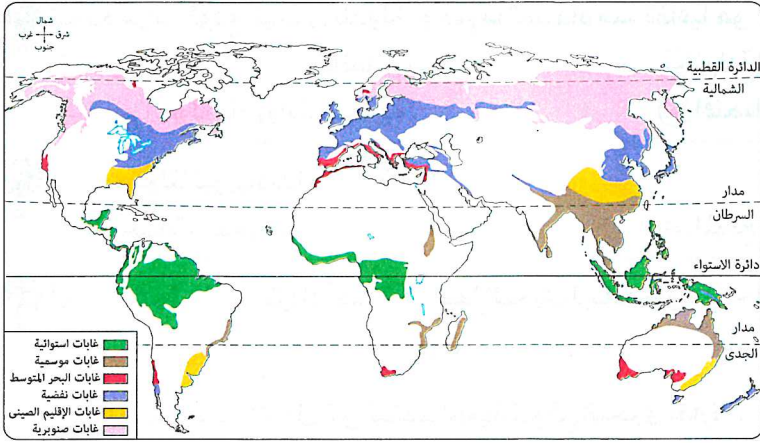
١٠٨ يستنتج من خريطة العالم السياسية أن الدولة الأقرب لأن تكون حلقة اتصال حضاري بين بعض دول العالم

القديم النامي والعالم الجديد هي .....

- ١ الصين. ٢ اليابان. ٣ إيران. ٤ إندونيسيا.

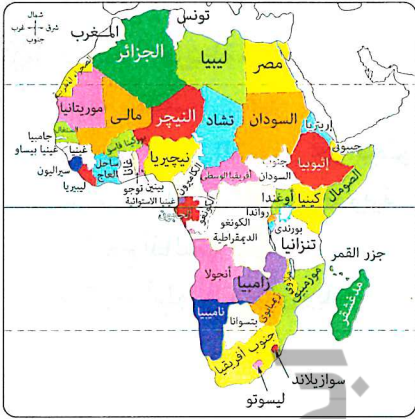
١٠٩ تختلف أهمية نهر النيل لمصر عن أهمية نهر الدانوب للنمسا بسبب موقع مصر .....

- ١ المركزي. ٢ البحري. ٣ الفلكي. ٤ الهامشي.



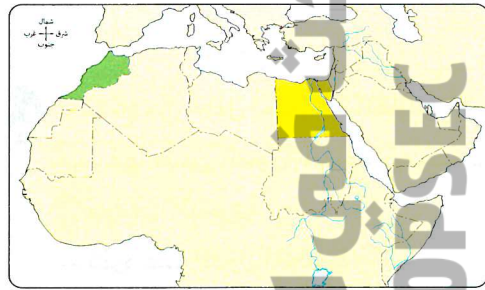
١١٠ في ضوء تحليلك للخريطة المقابلة، أي من الدول الآتية تُعد الأفضل في الاعتماد على الغابات لزيادة قدرتها الدفاعية ؟ .....

- أ) المكسيك .
- ب) الجزائر .
- ج) البرازيل .
- د) باكستان .



١١١ بالاستعانة بالخريطة المقابلة، تتشابه دولتا مصر وجنوب أفريقيا في .....

- أ) عدد الواجهات البحرية .
- ب) عدد الدول المجاورة .
- ج) الموقع الفلكي .
- د) شكل الدولة .



١١٢ تتشابه الدولتان المظلتان بالخريطة المقابلة في .....

- أ) شكل الدولة .
- ب) امتلاكهما لمواقع استراتيجية .
- ج) عدد الدول المجاورة .
- د) مساحة الدولة .



١١٣ ادرس الخريطة ثم استنتج :

الدولة الأشد عمقاً والتي لا تستطيع الاتصال بالعالم الخارجي إلا بالمرور في أراضي عدة دول .....

- أ) أفغانستان .
- ب) منغوليا .
- ج) نيبال .
- د) أوزبكستان .

(دور أول ٢٤)

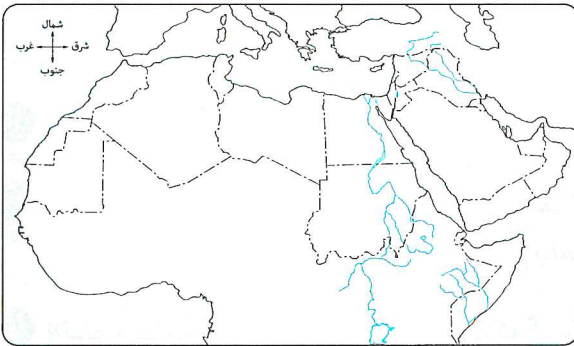
خريطة آسيا السياسية الآن

١ ما العلاقة بين : مساحة الدولة وقدرتها على مواجهة الكوارث الطبيعية؟

٢ دبل : تمنح الطبيعة التضاريسية لدولة سويسرا مميزات عسكرية .

٣ يؤثر المظهر التضاريسي على التماسك الداخلى لبعض الدول إيجابًا وسلبًا ، وضح ذلك .

٤ ما تقييمك لمصادقية العبارة : تختلف أهمية الموقع البحرى لروسيا من ساحل لآخر؟



٥ أمامك خريطة للوطن العربى، من خلالها استنتج :

أكبر دولة عربية في عدد الدول المجاورة لها.

٦ ماذا يحدث إذا : لم يمر نهر الراين بدولة سويسرا؟

٧ أمامك خريطة لقارة أمريكا الجنوبية، حدد عليها :

(١) دولة لها واجهتين بحريتين .

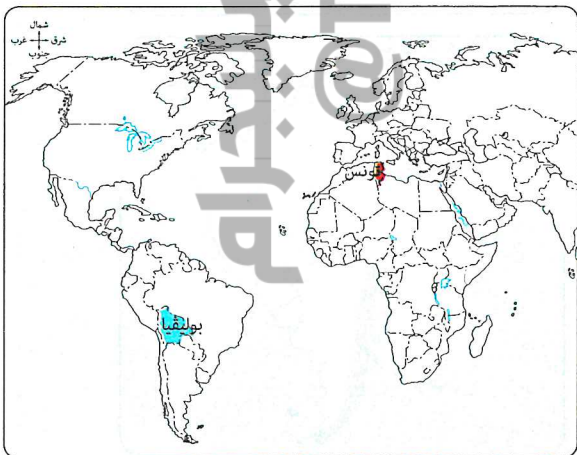
(٢) دولة تجد صعوبة في الاتصال بين أجزائها .



٨ بالاستعانة بالخريطة المقابلة، أى من :

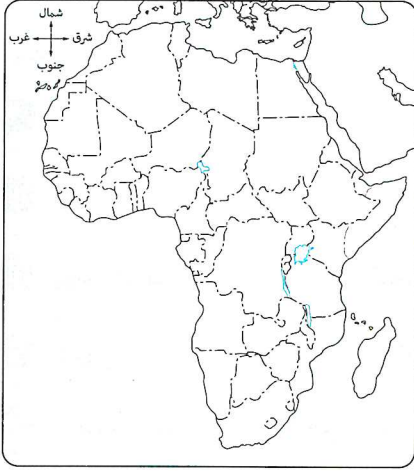
دولتي بوليفيا وتونس يمثل موقعها الجغرافى

مصدر لقوة الدولة ؟ مع ذكر السبب .



## حدد على الخريطة المقابلة :

- (١) الدولة التي تعد نقطة التقاء المحيطين.  
 (٢) الدولة التي تعد نقطة التقاء بين قارتين.

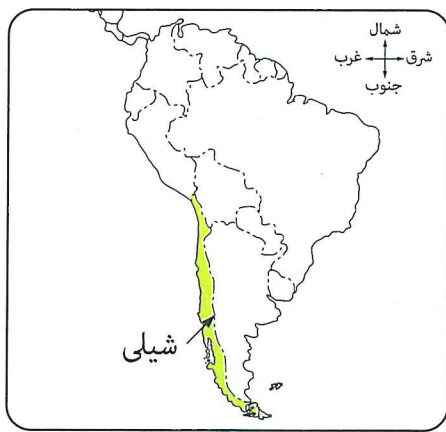
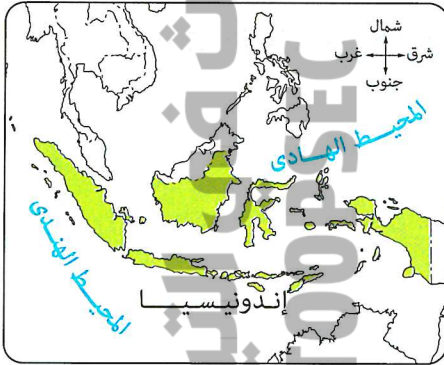


١٠ حلل العبارة جغرافياً: للمساحة الكبيرة للدولة جانب إيجابي وآخر سلبي في حالة تعرضها لخطر خارجي.

١١ «إذا تعرضت دولة (ب) ومساحتها ١٥٠,٠٠٠ كم<sup>٢</sup> لغزو من جارتها دولة (أ) التي تبلغ مساحتها ٢ مليون كم<sup>٢</sup> فإن الدولة (ب) تستطيع تبني نظرية الدفاع بالعمق». هل توافق على تلك العبارة؟ (مفسراً إجابتك).

١٢ «تبلغ مساحة قارة أنتاركتيكا ١٢,٣ مليون كم<sup>٢</sup>، بينما مساحة قارة أوروبا ١٠,٥ مليون كم<sup>٢</sup> مما يعطى أهمية أكبر لقارة أنتاركتيكا». حدد تقييمك لمصادقية العبارة السابقة من خلال دراستك.

١٣ أمامك خرائط لعدد من الدول، في ضوء دراستك لشكل الدولة، حدد: أفضل تلك الدول من حيث الشكل، مع ذكر السبب.



حدد أوجه الشبه بين : دولة ليسوتو، ودولة سوازيلاند.

«كل دولة حبيسة دولة جيبيية»، «كل دولة جيبيية دولة حبيسة». أي من العبارتين صحيحة ؟ ولماذا ؟

«تقع دولة هولندا شمال غرب أوروبا، ويتبعها ثلاث جزر في البحر الكاريبي بأمريكا اللاتينية».

في ضوء دراستك، حدد : شكل الدولة السابقة، مفسراً إجابتك.

استنتج : العامل المؤثر في اختلاف قدرة الحكومة على بسط نفوذها في الدول الآتية :

(١) هولندا. (٢) المكسيك.

«تقع جزر نيوزيلاندا عند تقاطع خط طول  $174^{\circ}$  شرقاً مع دائرة عرض  $42^{\circ}$  جنوباً، بينما جزيرة جرينلاندا تقع

عند تقاطع خط طول  $40^{\circ}$  غرباً مع دائرة عرض  $72^{\circ}$  شمالاً».

في ضوء دراستك للموقع الفلكي، أيهما أفضل لقوة الدولة ؟

«تبلغ مساحة الولايات المتحدة الأمريكية 9,8 مليون كم<sup>2</sup> وتمتد بين دائرتي عرض  $25^{\circ}$  شمالاً حتى  $49^{\circ}$  شمالاً

بالإضافة لولاية ألاسكا التي تقع شمال غرب قارة أمريكا الشمالية».

في ضوء دراستك، حدد الأثر الإيجابي لـ: هذا الموقع على قوة الدولة.

أمامك جدول يمثل الموقع الفلكي لعدد من الدول، ادرسه ثم أجب عما يلي :

النرويج	البرازيل	إندونيسيا	تونس
$58^{\circ}$ شمالاً - $71^{\circ}$ شمالاً	$5^{\circ}$ شمالاً - $33^{\circ}$ جنوباً	$6^{\circ}$ شمالاً - $10^{\circ}$ جنوباً	$30,14^{\circ}$ شمالاً - $37,13^{\circ}$ شمالاً

في ضوء دراستك لـ: المناخ وتأثيره على قوة الدولة، حدد :

الدولة التي تستطيع تحقيق الاكتفاء الذاتي من الإنتاج الزراعي. (موضحاً أسبابك).

أى مما يلي تتوقع أنه أكثر إيجابية بالنسبة لقوة الدولة ... ؟ مع ذكر السبب.

(أ) وجود الغابات على أطراف الدولة والسهول في الداخل.

(ب) وجود السهول على أطراف الدولة والغابات في الداخل.

حل أسئلة إلكترونيًا ومعرفة كيفية الوصول للإجابة الصحيحة




عن طريق  
تطبيق

أو



استخدم  
QR Code

### المقومات البشرية لقوة الدولة



● فهم ● تطبيق ● تحليل ● تقويم ● ابتكار

اختر الإجابة الصحيحة من بين (أ)، (ب)، (ج)، (د) فيما يلي :

العلم يبنى بيوتًا لا عماد لها  
والجهل يهدم بيت العز والكرم.

١ الدولة التي استطاعت تحقيق مضمون المقولة الموضحة بالعبارة  
المقابلة لتظهر على خريطة العالم السياسية كقوى كبرى هي .....

- (أ) اليابان. (ب) باكستان. (ج) أفغانستان. (د) اليمن.

٢ يمارس على الدول العربية بعض الضغوط الخارجية ولكن بعضها يملك سلاح ردع يتمثل في .....

- (أ) فائض ميزانها التجاري من الطاقة الحفرية. (ب) استقبالها لتيارات الهجرة الوافدة.  
(ج) إنفاقها الكبير على البحث العلمي. (د) التجانس السكاني لأغلبية سكانها.

### ٨ اختصاصات لمجلس الشيوخ

٣ يتضح من تحليل مضمون الصورة المقابلة أنها إضافة

لوزن الدولة المصرية في الأمور المتعلقة ب.....

- (أ) السلطة القضائية.  
(ب) القوة الديموغرافية.  
(ج) القوة التنظيمية.  
(د) السلطة التنفيذية.

• يؤخذ رأيه في معاهدات الصلح والتحالف  
وجميع التي تتعلق بحقوق السيادة.

• دراسة واقتراح ما يُرسي  
عالم الديمقراطية.

• دعم السلام الاجتماعي والحقوق  
والحرثيات والواجبات العامة.

• تصديق النظام الديمقراطي  
وتوسيع مجالته.

• يؤخذ رأيه في مشروعات القوانين التي تُحال  
إليه من رئيس الجمهورية أو مجلس النواب.

• يؤخذ رأيه في الاقتراحات الخاصة  
بتعديل أي مادة في الدستور.

• يؤخذ رأيه فيما يجيله إليه رئيس الجمهورية  
من موضوعات تنصل بسياسة الدولة المصرية.

• يؤخذ رأيه في مشروع للخطة العامة  
للتنمية الاجتماعية و الاقتصادية.



٤ تستطيع الدول العربية من خلال التكنولوجيا الحيوية إنتاج بذور عالية الجودة مما يساهم في مواجهة التحديات

المتعلقة ب.....

- (أ) التبعية السياسية. (ب) المناخ المعتدل. (ج) هجرة العقول. (د) التركيب النوعي.

٥ ادرس الجدول المقابل، ثم استنتج:

الدولة التي شاركت فيها المرأة بأكبر نسبة في  
العملية الانتخابية تتوقع أن تكون .....

- (أ) باراجواي. (ب) تشاد.  
(ج) بنجلاديش. (د) ألمانيا.

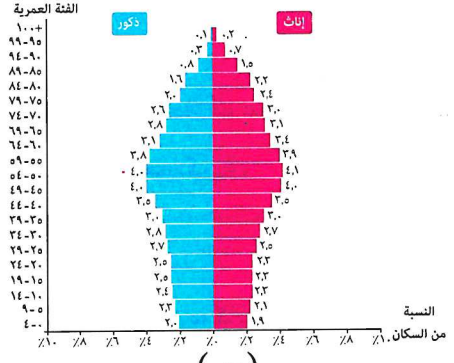
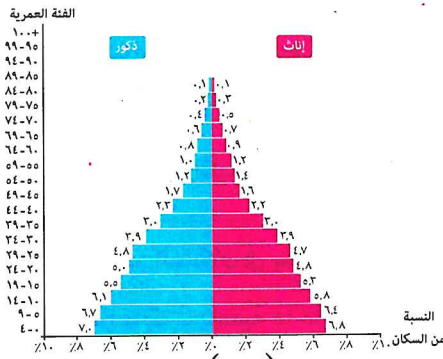
الدولة	نسبة مشاركة المرأة في العملية الانتخابية
١	٢٠٪
٢	١٥٪
٣	٥٪
٤	٧٥٪



يدل نجاح البرازيل فى التغلب على مشكلة الديون التى واجهتها باعتمادها على مبدأ المكاشفة على امتلاكها للقوة.....

- ٦ (أ) الاقتصادية. (ب) التنظيمية. (ج) المورفولوجية. (د) الديموجرافية.

٧ فى ضوء تحليلك للهرمين السكانيين التاليين، نستنتج اختلاف الدولة (س) عن الدولة (ص) فى.....



٨ (أ) ارتباط ارتفاع معدل الإعالة بصغار السن.

(ب) تقارب نسبة الذكور والإناث.

(ج) انخفاض فئة قوة العمل.

(د) ارتباط ارتفاع معدل الإعالة بكبار السن.

٩ تميزت دول الوطن العربى ببساطة التركيب اللغوى ومع ذلك افتقدت الجهات الشرقية منه فى السنوات

الأخيرة بعض هذه المميزات نتيجة.....

(أ) ارتفاع معدلات الزيادة غير الطبيعية.

(ب) الانفتاح على الحضارات الأوروبية.

(ج) استخدام نظم التعليم الحديثة.

(د) اعتماد أكثر من لغة رسمية.

الدولة	القارة	عدد السكان بالنسبة
الثاينان	أوروبا	٨٥٠
توفالو	الأوقيانوسية	١٢٠٠٠
ناورو	الأوقيانوسية	١٢٧٧٨
بالاو	الأوقيانوسية	١٨٠٥٧

١٠ يتضح من تحليل بيانات الجدول المقابل أن

جميع تلك الدول.....

(أ) تفتقد للتجانس السكاني.

(ب) تستطيع الدفاع عن نفسها دون مساعدات.

(ج) تمتلك جميع المقومات الديموجرافية.

(د) تحتاج إلى الدخول فى تحالفات عسكرية.

١١ من الأفضل أن تلجأ الدول ذات الحجم السكاني الكبير لتوفير الحماية والأمن إلى.....

(أ) الدخول فى الأحلاف العسكرية.

(ب) الانضمام إلى التكتلات الاقتصادية.

(ج) الاعتماد على الخبرات العسكرية الأجنبية.

(د) الاعتماد على قدراتها الديموجرافية الذاتية.

١٢ أى مما يلى يعد من سلبيات الدولة التى يصل حجمها السكاني إلى ٥٠٠ مليون نسمة أو أكثر؟.....

(أ) الحاجة إلى الانضمام لحلف عسكرى.

(ب) الاعتماد على العمالة الخارجية.

(ج) احتمالية ظهور الأقليات.

(د) نقص الكوادر والكفاءات.

١٢ يقع العبء الأكبر في إنجاح خطط التنمية بالدول على .....

- أ) الحجم السكاني. ب) التركيب النوعي. ج) القوة العسكرية. د) اللغة الواحدة.

١٣ يصبح الحجم السكاني الكبير مشكلة حقيقية للدولة إذا صاحبه .....

- أ) تعدد الديانات. ب) تعدد اللغات الرسمية. ج) نقص في الموارد. د) تنوع ثقافي.

١٤ قد تخشى الهند من الاضطرابات السياسية الداخلية بسبب .....

- أ) ضخامة مواردها الاقتصادية. ب) عدم انضمامها لأحلاف عسكرية. ج) الحجم السكاني الكبير. د) ضعف قوتها العسكرية.

١٥ نتج عن قلة عدد السكان في بعض الدول العربية الآسيوية الغنية بالموارد .....

- أ) حدوث نزاعات سياسية داخلية. ب) عدم التجانس بين سكانها. ج) وجود أقليات انفصالية بها. د) زيادة قوتها الاقتصادية.

١٦ للاستفادة القصوى من الحجم السكاني الكبير يجب .....

- أ) تشجيع الهجرة الخارجية والهجرة الداخلية. ب) توفير فرص عمل وغرس الروح الوطنية في النشء. ج) إعادة توزيع السكان وتشجيع الهجرة للحضر. د) عدم الدخول في تكتلات اقتصادية كبرى.

١٧ بتحليلك للإحصائيات السكانية الموضحة في الجدول التالي، أي من الدول الآتية هي الأكثر حظًا لأن تصبح دول

عظمى إذا توفرت لديها باقي مقومات قوة الدولة ؟ .....

البرازيل	ماليزيا	بيلاروسيا	لبنان	فنلندا
٢١٣ مليون نسمة	٣٢ مليون نسمة	١٠ مليون نسمة	٧ مليون نسمة	٥,٥ مليون نسمة

- أ) فنلندا وبيلاروسيا. ب) لبنان وفنلندا. ج) بيلاروسيا والبرازيل. د) ماليزيا والبرازيل.

١٨ نستنتج من خلال دراسة وتحليل الشكل المقابل أن أقل الدول ذات التأثير

السياسي على المستوى الدولي هي الدولة .....

- أ) (س)  
ب) (ص)  
ج) (ع)  
د) (ل)

الدولة  
س  
ص  
ع  
ل



الحجم السكاني لبعض الدول

١٩ الحجم السكاني لبعض الدول يدفعها لعقد تحالفات سياسية وعسكرية مع الدول الكبرى، ويظهر ذلك في .....

- ١ شرق أمريكا الجنوبية. (ب) شرق آسيا. (ج) غرب أمريكا الشمالية. (د) جنوب غرب آسيا.

٢٠ يشير تحديد اختصاصات السلطات المحلية بدولة ما إلى وجود القوة .....

- ١ العسكرية. (ب) الاقتصادية. (ج) التنظيمية. (د) المورفولوجية.

٢١ يعد أنسب الحلول لمشكلة الغذاء التي تواجهها الدول ذات الحجم السكاني الكبير هو .....

- ١ التبعية للدول ذات الفائض في الإنتاج الغذائي. (ب) الانضمام إلى التحالفات العسكرية القوية. (ج) استثمار مقوماتها الطبيعية والديموجرافية. (د) اعتمادها على الأيدي العاملة الأجنبية.

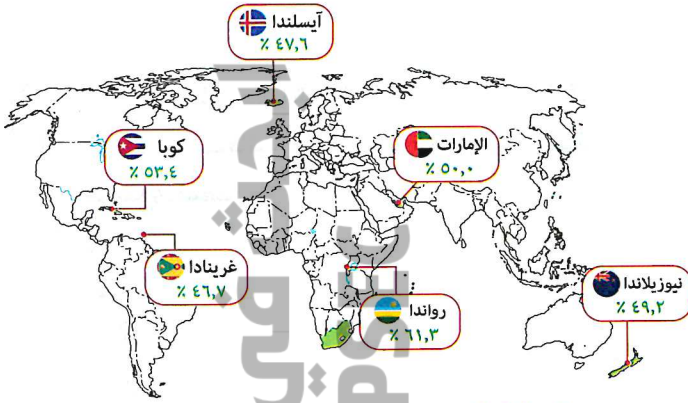
٢٢ تدفع بعض الصعوبات الديموجرافية العديد من الدول لإقامة تحالفات عسكرية من أجل .....

- ١ تحقيق الأمن الغذائي. (ب) تسهيل عمليات التنمية. (ج) سهولة الاتصال بالعالم الخارجى. (د) توفير الحماية والأمن.

٢٣ من خلال تحليل الخريطة المقابلة حدد أى من

الدول التالية كسرت القاعدة التي تنص على قلة مشاركة المرأة بالدول النامية في الحياة السياسية .....

- ١ نيوزيلندا ورواندا. (ب) رواندا وكوبا. (ج) غرينادا وأيسلندا. (د) أيسلندا والإمارات.

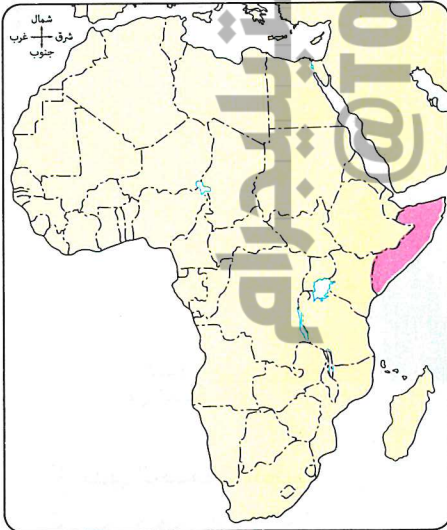


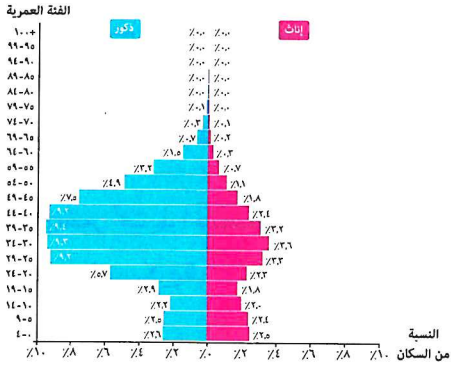
نسبة تمثيل النساء في برلمانات بعض الدول

٢٤ تعاني الدولة المظللة باللون في الخريطة المقابلة

من سلبيات تؤثر على قوتها الاقتصادية والتي تتعلق بعضها ب .....

- ١ الموقع الجغرافي. (ب) تعدد اللغات. (ج) القوة المورفولوجية. (د) التركيب النوعي.





٢٥ يتمثل النقد الموجه للدولة التي يمثلها الهرم السكاني المقابل في .....

- أ) اختلال توازن التركيب النوعي.
- ب) ارتفاع نسبة الإعاقة بالدولة.
- ج) ضعف حجم القوة البشرية العسكرية.
- د) ارتفاع معدل الزيادة الطبيعية.

٢٦ تصنف العلاقة بين مشاركة المرأة في العملية الإنتاجية بالدولة وارتفاع معدل الأمية إلى كونها علاقة .....

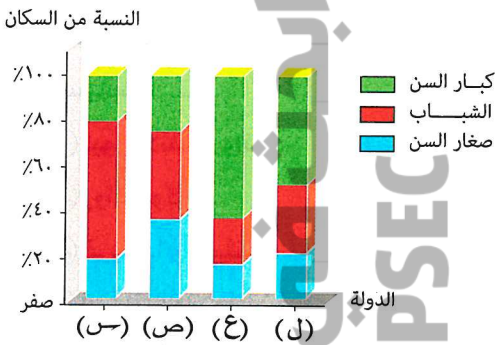
- أ) طردية.
- ب) عكسية.
- ج) شمولية.
- د) تكاملية.

٢٧ إذا شكلت نسبة كل من صغار السن وكبار السن نحو ٦٠٪ من جملة سكان الدولة، فإن ذلك سيكون مؤشراً على .....

- أ) قوة الدولة الاقتصادية.
- ب) قوة الدولة الديموجرافية.
- ج) وجود عجز في أحد عناصر الإنتاج.
- د) انخفاض معدل الإعاقة.

٢٨ تُعد العلاقة بين قوة الدولة وقمة هرمها السكاني علاقة .....

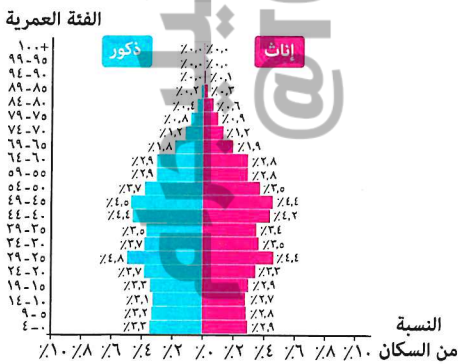
- أ) تكاملية.
- ب) عكسية.
- ج) طردية.
- د) شمولية.



٢٩ من خلال تحليلك للشكل المقابل ودراستك لأهم الخصائص السكانية المؤثرة في قوة الدول، نستنتج أن أقل مستوى لمعدل الإعاقة يوجد في الدولة .....

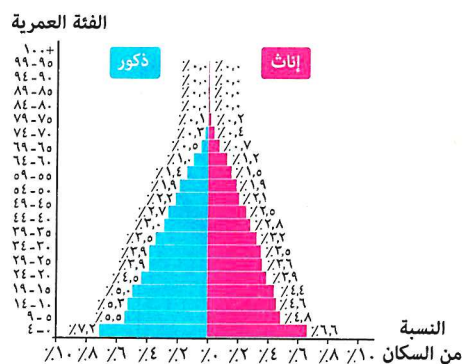
- أ) (س).
- ب) (ص).
- ج) (ع).
- د) (ل).

٣٠ يدل تطور الهرم السكاني التالي لدولة ما على أن قوتها تأثرت ب .....



(٢٠١٥م)

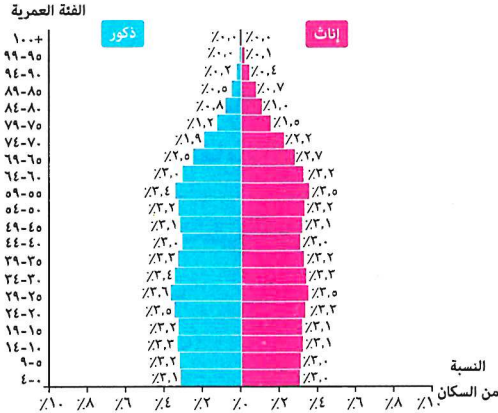
- أ) انخفاض فئة قوة العمل.
- ب) ضبط معدلات النمو السكاني.



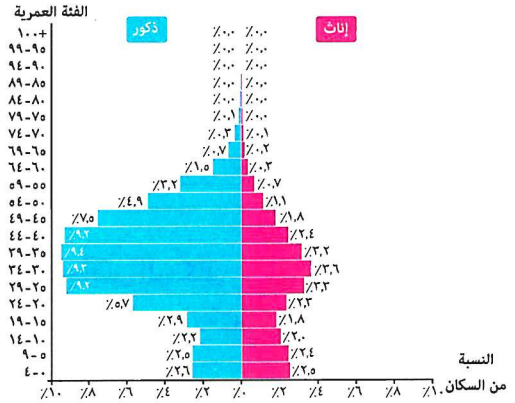
(١٩٥٠م)

- أ) تدني الخدمات الطبية.
- ب) وجود هجرات نازحة.

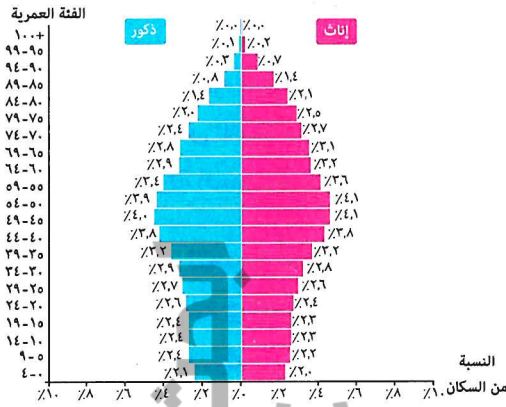
٣١ أي من الأهرامات السكانية التالية يعد الأفضل اقتصاديًا بالنسبة لقوة الدولة ؟ .....



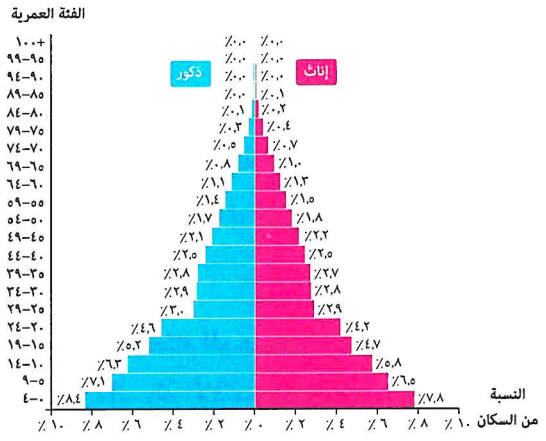
(ب)



(أ)



(د)



(ج)

(دور ثانٍ ٢٢)

٣٢ أكثر مناطق الوطن العربي التي قد تعاني من ازدواجية الفكر وتنوع العادات هي .....

- (أ) الخليج العربي .  
 (ب) وادي النيل .  
 (ج) المغرب العربي .  
 (د) الهلال الخصيب .

٣٣ يتمثل العامل المشترك بين الدول المرسله والدول المستقبلة للهجرات في تحقيق الاستفادة .....

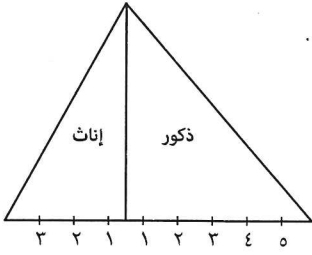
- (أ) الثقافية .  
 (ب) الاجتماعية .  
 (ج) الاقتصادية .  
 (د) العسكرية .

٣٤ يظهر التأثير السلبي للهجرة على الدول المستقبلة لها في المجال .....

- (أ) الاقتصادي .  
 (ب) الاجتماعي .  
 (ج) العسكري .  
 (د) العلمي .

٣٥ تعددت الجنسيات في الكويت والإمارات لسبب أساسي هو .....

- (أ) توافر الحماية والأمن بهما .  
 (ب) خروج الهجرات الشرعية منهما .  
 (ج) استقبالهما تيارات الهجرة المختلفة .  
 (د) مستواهما التعليمي والتكنولوجي .



(دور أول ٢١)

- ٣٦ الهرم الذي أمامك لإحدى الدول المستقبلية للمهاجرين والتي توصف بأنها .....
- أ) تحقق توازن في التركيب النوعي.  
ب) تحقق تنمية اقتصادية بأيدي وطنية.  
ج) تعاني من اختلاف ثقافي.  
د) يزيد بها الأيدي العاملة الوطنية.

٣٧ تفتقر كل من دول الخليج العربي ودول غرب أوروبا إلى .....

أ) ظهور المبدعين.  
ب) التجانس السكاني.  
ج) تنوع التضاريس.  
د) تنوع النشاط الاقتصادي.

٣٨ تعد الهجرة الخارجية بالنسبة للدول النامية سلاح ذو حدين يتمثل في .....

أ) حل مشكلة البطالة وبطء التطور التكنولوجي.  
ب) تحقيق التجانس السكاني وتفريغها من الكفاءات.  
ج) توقف عملية التنمية وتقدم المستوى التكنولوجي.  
د) زيادة القوة الديموجرافية وتأخر البحث العلمي.

٣٩ يشير تعدد اللغات الرسمية في الدولة بالضرورة إلى .....

أ) وجود رغبة بعض السكان في الانفصال.  
ب) ضعف قوة الدولة عسكرياً.  
ج) زيادة وزن الدولة السياسي.  
د) وجود تنوع ثقافي بين السكان.

٤٠ يختفى الأثر السلبي لتعدد اللغات في دولة سويسرا بسبب .....

أ) اعتماد أكثر من لغة في المصالح الحكومية.  
ب) اتباع النظام الوحدوي.  
ج) قلة عدد سكان الدولة.  
د) قوة الدولة الاقتصادية.

٤١ استطاعت بعض الدول المتقدمة تحقيق التجانس بين سكانها عن طريق .....

أ) رفض تعدد اللغات.  
ب) استيعاب التنوع الديني.  
ج) زيادة قوتها العسكرية.  
د) زيادة الحجم السكاني.

تشير إحصائية اليونسكو عام ٢٠١٠م إلى أن مصر قدمت ٦٠٪ من العلماء العرب والمهندسين للولايات المتحدة الأمريكية.

٤٢ يتضح من تحليل مضمون العبارة المقابلة .....

أ) تأثير الهجرة إيجابياً على الدولة المرسله.  
ب) فقدان الدولة المستقبلية لعناصر الإنتاج.  
ج) معاناة الدولة المرسله من ظاهرة هجرة العقول.  
د) ارتفاع معدل الكثافة السكانية في الدولة المستقبلية.

٤٣ من خلال الجدول المقابل : استنتج أي الدول

الآتية تعاني من هجرة العقول والمهارات .....

أ) الدولة (س)  
ب) الدولة (ص)  
ج) الدولة (ع)  
د) الدولة (ل)

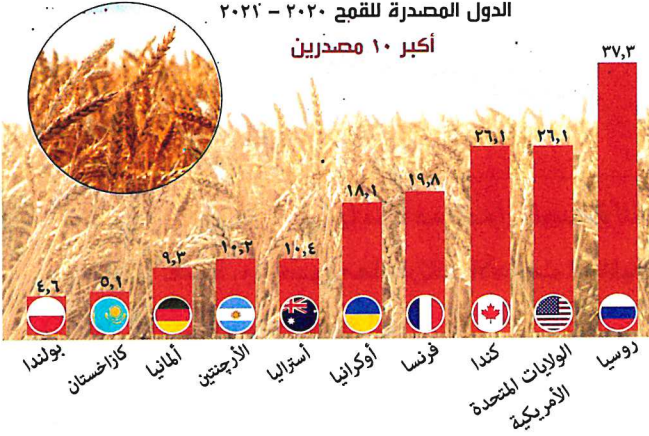
(دور أول ٢١)

الدولة	حجم الإنفاق على البحث العلمي من إجمالي دخل الدولة القومي
(س)	١٥٪
(ص)	٣٪
(ع)	٢٥٪
(ل)	١٠٪

٦٢

٤٤ أي من الدول الآتية يمكن اعتبارها الأقوى اقتصاديًا؟ الدولة .....

- Ⓐ المستخرجة لمصادر الطاقة الحفريّة.  
Ⓑ المستوردة للمعدات العسكريّة.  
Ⓒ المصدرة لفن الإنتاج.  
Ⓓ المالكة للمواد الخام.

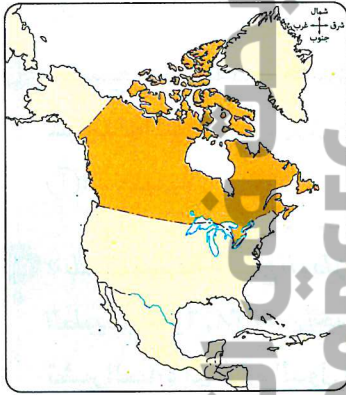


٤٥ يتضح من تحليل بيانات الشكل المقابل .....

- Ⓐ تركيز زراعة القمح في النصف الجنوبي للكرة الأرضية.  
Ⓑ تضاؤل مساهمة دول العالم القديم في إنتاج القمح.  
Ⓒ سهولة اتصال جميع الدول المصدرة للقمح بالعالم الخارجي.  
Ⓓ امتلاك بعض الدول النامية القدرة على التأثير الدولي.

٤٦ تتمثل أهم نقاط الضعف التي تعاني منها الدول النامية في علاقاتها مع الدول المتقدمة في .....

- Ⓐ الإنتاج الغذائي بالدول النامية.  
Ⓑ حجم سكان الدول المتقدمة.  
Ⓒ مصادر الطاقة في الدول النامية.  
Ⓓ القوة التنظيمية في الدول المتقدمة.



٤٧ تتعدد عوامل استقلال القرار السياسي للدولة المظللة على

الخريطة المقابلة ومنها قدراتها .....

- Ⓐ البحرية.  
Ⓑ الديموجرافية.  
Ⓒ الزراعية.  
Ⓓ المورفولوجية.

٤٨ تتمتع بعض الدول بالقدرة على تحقيق بعض أهدافها السياسية من خلال إنتاجها الغذائي مثل .....

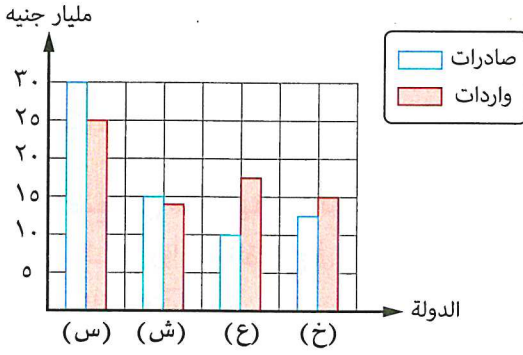
- Ⓐ فرنسا.  
Ⓑ أفغانستان.  
Ⓒ ليسوتو.  
Ⓓ بوليفيا.

٤٩ تظهر قوة الدولة الاقتصادية بصورة واضحة على المستوى العالمي في حالة .....

- Ⓐ الاتجاه نحو التخصص في الإنتاج الزراعي.  
Ⓑ تحقيق رفاهية في مستوى المعيشة.  
Ⓒ زيادة حجم صادراتها عن وارداتها.  
Ⓓ التركيز على الصناعات الاستخراجية.

٥٠ يزيد امتلاك دولة ما لصناعات استراتيجية هامة من .....

- Ⓐ قوتها التنظيمية.  
Ⓑ صادراتها من المواد الأولية.  
Ⓒ تبعيتها للدول المتقدمة.  
Ⓓ قوة إرادتها السياسية.



يوضح الشكل البياني المقابل حجم التجارة الخارجية لبعض الدول، ونستنتج منه أن الدولة الأقوى في الوزن الاقتصادي هي ذات الرمز .....

- Ⓐ (س)  
Ⓑ (ش)  
Ⓒ (ع)  
Ⓓ (خ)

٥٢ «تُعد كل من روسيا وأوكرانيا من أهم الدول المصدرة للقمح لعدة دول عربية».

- من خلال العبارة، وفي ضوء معاصرتك للأحداث العالمية الجارية، يجب على الدول العربية أن .....
- Ⓐ تجد أكثر من مصدر للقمح لها.  
Ⓑ تؤمن احتياجاتها الغذائية ذاتياً.  
Ⓒ تشارك في تحالفات عسكرية قوية.  
Ⓓ تعتمد على الخبرات الأجنبية في المجال الغذائي.

٥٣ إذا تعرضت دولة ما لقيود على معاملاتها التجارية الخارجية واستطاعت الصمود فإن ذلك يعنى تمتعها بالقوتين .....

- Ⓐ الاقتصادية والديموجرافية.  
Ⓑ العسكرية والثقافية.  
Ⓒ التنظيمية والعسكرية.  
Ⓓ التنظيمية والثقافية.

٥٤ اجتمع وزراء النفط العربي أثناء حرب أكتوبر لاتخاذ قرار بمنع تصدير البترول للولايات المتحدة الأمريكية لمساندتها للعدو الصهيوني ويعد ذلك استخدام جيد للقوة .....

- Ⓐ التنظيمية.  
Ⓑ المورفولوجية.  
Ⓒ الاقتصادية.  
Ⓓ البشرية.

٥٥ «بلغت نسبة إنتاج الوطن العربي من الإنتاج العالمي للبترول نحو ٢٩,١% عام ٢٠١٤م كما بلغ احتياطي الغاز الطبيعي نحو ٢٨,٦% من إجمالي الاحتياطي العالمي في نفس العام».

- تشير العبارة إلى قدرة الدول العربية على .....
- Ⓐ التأثير في القرارات السياسية العالمية.  
Ⓑ التفوق في الصناعات البسيطة.  
Ⓒ تحقيق القوة التنظيمية.  
Ⓓ زيادة مركزية قراراتها محلياً.

٥٦ أنشأ محمد علي باشا ترسانة القلعة لصناعة الأسلحة كالمدافع وتصنيع البارود، وفي منطقة الحوض المرصود معملاً لصنع البنادق، تلك المصانع يمكن اعتبارها نواة للصناعات .....

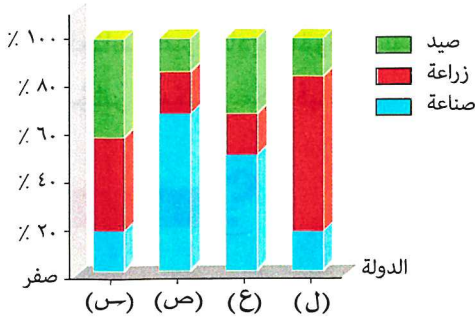
- Ⓐ الاستراتيجية.  
Ⓑ الهندسية.  
Ⓒ الإنشائية.  
Ⓓ الاستخراجية.

٥٧ «رغم التداخيات العالمية لأزمة كورونا يليها الحرب الروسية الأوكرانية إلا أن مصر تعد من أهم الدول التي استطاعت الثبات باستمرار عجلة الإنتاج بها». تشير العبارة إلى تمتع مصر بالقوة .....

- Ⓐ المورفولوجية.  
Ⓑ السكانية.  
Ⓒ العسكرية.  
Ⓓ الاقتصادية.



حجم النشاط الاقتصادي



٥٨ في ضوء دراستك للشكل البياني المقابل :

يمكن استنتاج أن أكثر الدول الآتية قدرة

على التفوق الحربي هي التي تحمل رمز .....

- أ (س)  
ب (ح)  
ج (ع)  
د (ل)

٥٩ تشتمل القوة العسكرية على أبعاد غير مادية تساعدها على النجاح ومنها .....

أ الإنفاق العسكري. ب حجم الجيش. ج العقيدة العسكرية. د المعدات العسكرية.

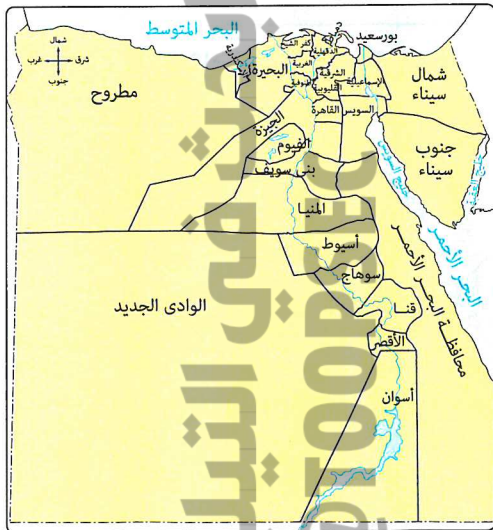
٦٠ أى مما يلي يوجد بينهما علاقة عكسية ؟ .....

- أ التقنيات الحديثة وقوة الدولة الاقتصادية.  
ب المركزية المطلقة للحكومة والاستقلال الذاتي.  
ج وسائل النقل والتماسك الداخلى للدولة.  
د الاكتفاء الغذائى الذاتى واستقلالية القرارات.

(تجريبى ٢٣)

٦١ يرجع نجاح دولة الإمارات العربية المتحدة فى إقامة مؤتمرات عالمية إلى .....

- أ القوة التنظيمية. ب القوة المورفولوجية. ج القوة العسكرية. د القوة الديموجرافية.



٦٢ يعبر محتوى الخريطة المقابلة عن أحد عناصر

قوة الدولة وهي القوة .....

- أ الديموجرافية.  
ب المورفولوجية.  
ج العسكرية.  
د التنظيمية.

٦٣ باستخدام البيانات التي يوضحها الشكل البياني المقابل نستنتج .....

أ محدودية تأثير منطقة الشرق الأوسط في القرارات السياسية العالمية.

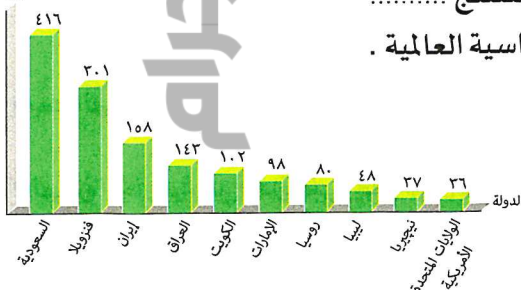
ب اقتصار وجود الاحتياطي في الدول النامية.

ج تركز الاحتياطي بالدول التي تقع في

نصف الكرة الأرضية الجنوبي.

د زيادة الوزن الاقتصادي لبعض الدول النامية.

مليون طن



أكبر دول العالم امتلاكاً لاحتياطي نفط مؤكد بعد نجاح خطط أرامكو

٦٤ «أعتز وأفتخر أن الجندي المصري خير أجناد الأرض». العبارة السابقة تعبر عن .....

- ① العناصر غير المادية للقوة العسكرية.  
 ② حجم القوة البشرية العسكرية لمصر.  
 ③ مؤشر عسكري يمكن قياسه.  
 ④ الوزن السياسي للدولة المصرية.

### أسئلة مقالية

١ ما رأيك في : الاعتماد على البيانات الخاصة بمتوسط دخل الأفراد لتحديد مدى قوة الدولة الاقتصادية ؟

٢ دتل : تعد الصناعة أحد متطلبات الأمن القومي للدول .

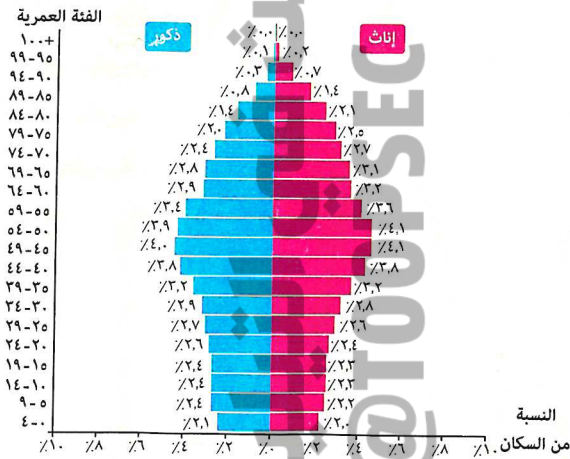
٣ اقترح حلول مناسبة لـ : مواجهة سلبيات الحجم السكاني الكبير بإحدى الدول .

٤ «يمكن للدول قليلة السكان إيجاد مكان لها في الصفوف الأولى للدول الكبرى» .  
 وضح مدى صدق تلك العبارة في ضوء دراستك لـ : المقومات البشرية لقوة الدولة .

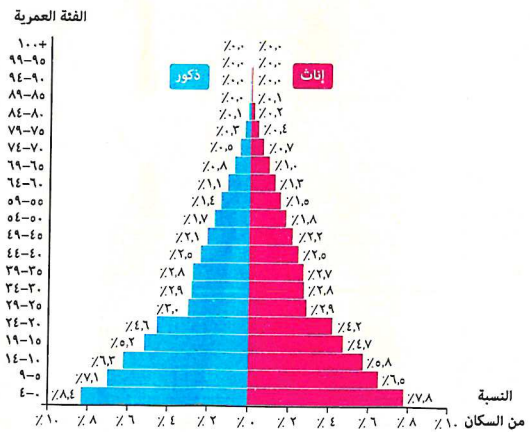
٥ «يبلغ عدد سكان إندونيسيا طبقًا لتعداد عام ٢٠١٨ م ما يزيد عن ٢٦٠ مليون نسمة» .

في ضوء العبارة السابقة، حلل : القوة الديموجرافية لهذه الدولة .

٦ في ضوء دراستك للهرمين السكانيين الآتين، استنتج أوجه الشبه بينهما .



الهرم السكاني للدولة (ص)



الهرم السكاني للدولة (س)

٧ «يعد الهرم السكاني لدولة ما مؤشرًا لمدى قوتها أو ضعفها». حلل العبارة السابقة.

٨ «الهجرة الخارجية غير قادرة على إيجاد حلول لكل مشكلات الدول المرسله للمهاجرين» .

حلل العبارة السابقة جغرافيًا .

«يظهر أثر وجود علماء وأكاديمى مصر المقيمين فى الخارج بشكل واضح فى التخصصات المختلفة فمنهم رؤساء جامعات ووزراء بحث علمى».

٩ فى ضوء دراستك للعبارة المقابلة، حدد مقترحاتك ل: عودة تلك العقول المهاجرة والحد من هذه الظاهرة.



١٠ أمامك صورة لأحد الأنفاق الجديدة أسفل قناة السويس كأحد أضخم الإنجازات المصرية المعاصرة للربط بين شبه جزيرة سيناء وباقي الأراضى المصرية، وضح أهمية تلك الأنفاق فى ضوء دراستك.

«كانت مصر الفرعونية مقسمة إلى ٤٢ إقليمًا ، وعلى رأس كل إقليم حاكم يعينه الملك، ويشرف عليه الوزير، وينقسم الإقليم إلى عدة مراكز، والمراكز تنقسم إلى مدن وقرى».

١١ فى ضوء دراستك، حلل : عناصر قوة الدولة التى تشير إليها العبارة المقابلة.

١٢ حدد : أهم المشكلات التى قد تواجه دولة روسيا الاتحادية نتيجة لحجم سكانها.

هاتف  
لحل أسئلة إلكترونيًا ومعرفة كيفية الوصول للإجابة الصحيحة



عن طريق  
تطبيق

أو



استخدم  
QR Code

## النظام السياسي والانتخابى بالدولة

● فهم ● تطبيق ● تحليل ● تقويم ● ابتكار

اختر الإجابة الصحيحة من بين (أ)، (ب)، (ج)، (د) فيما يلى :

١ يتضح من خلال تحليل مفهوم النظام السياسى فى صورته الاجتماعىة إن السلطة الأكثر أهمية لتحقيق ذلك المفهوم هى السلطة .....

- (أ) المركزية. (ب) المحلية. (ج) القضائية. (د) التشريعية.

٢ تختلف الدولة التى تشرف على السواحل الشمالية لبحر المانش عن تلك الدولة التى تشرف على سواحلها الجنوبية فى دور الانتخابات المباشر فى اختيار .....

- (أ) رئيس السلطة التنفيذية. (ب) أعضاء السلطة التشريعية.  
(ج) الهيئة القضائية. (د) رئيس الدولة.

٣ للحد من سلطات رئيس الدولة اتجهت بعض الدول لتطبيق النظام .....

- (أ) الرئاسى. (ب) البرلمانى. (ج) شبه البرلمانى. (د) الديكتاتورى.

٤ يظهر المناخ الديمقراطى بأوضح صورته فى أحد مراحل العملية الانتخابية وهى مرحلة .....

- (أ) تقسيم الدوائر الانتخابية. (ب) الترشح للانتخابات.  
(ج) فرز الأصوات. (د) تحديد الفائزين.

٥ «حق التصويت مكفول لجميع المصريين المقيمين بالخارج دون تفرقة بين الموجودين داخل البلاد وخارجها»

يجب مراعاة تحقيق مضمون العبارة السابقة فى إحدى مراحل العملية الانتخابية وهما مرحلتى .....

- (أ) تقسيم الدوائر والترشح للانتخابات. (ب) الترشح للانتخابات وفرز الأصوات.  
(ج) إجراء الانتخابات وفرز الأصوات. (د) تقسيم الدوائر وتحديد الفائزين.

٦ للديمقراطية أهمية فى حياة الأمم والشعوب فعن طريقها يتم .....

- (أ) تحديد مسئوليات كل سلطة بالدولة. (ب) تحقيق أكبر قدر من المصالح الخاصة.  
(ج) استخدام القوة لضبط وتوجيه الأفراد. (د) تمركز السلطات فى هيئة واحدة.

٧ العلاقة بين النظام السياسى فى صورته المؤسسية والنظام السياسى فى صورته الاجتماعىة هى أقرب للعلاقة

بين .....

- (أ) السلطة القضائية والسلطة التشريعية. (ب) السلطة التشريعية والسلطة التنفيذية.  
(ج) السلطة التنفيذية والسلطة القضائية. (د) الجغرافيا السياسية والنظام الانتخابى.

٨ «تضمنت المادة (١٠٢) من الدستور المصرى على أن كل من بلغ ثمانى عشرة سنة ميلادية يحق له التصويت

فى الانتخابات». مضمون المادة السابقة يظهر فى إحدى مراحل العملية الانتخابية وهى .....

- (أ) إجراء الانتخابات. (ب) الترشح للانتخابات. (ج) فرز الأصوات. (د) تحديد الفائزين.

٩ أهم ما يمتلكه النظام السياسى فى صورته الاجتماعية .....

- ١ إدارة الاستثمارات الخاصة. (أ)  
 ٢ متابعة أعمال السلطة القضائية. (ب)  
 ٣ عقد المعاهدات الدولية. (ج)  
 ٤ استثمار الثروات العامة. (د)

١٠ أى مما يلى يعبر عن إجراء عملية انتخابية ؟ .....

- ١ اجتماع الجمعية العمومية لاختيار مجلس اتحاد كرة القدم المصرى. (أ)  
 ٢ تشكيل مجلس الوزراء المصرى. (ب)  
 ٣ تشكيل الإدارات المحلية بالمحافظات المصرية. (ج)  
 ٤ تكوين هيئة التمثيل الدبلوماسى للخارجية المصرية. (د)

(دور ثان ٢٢)

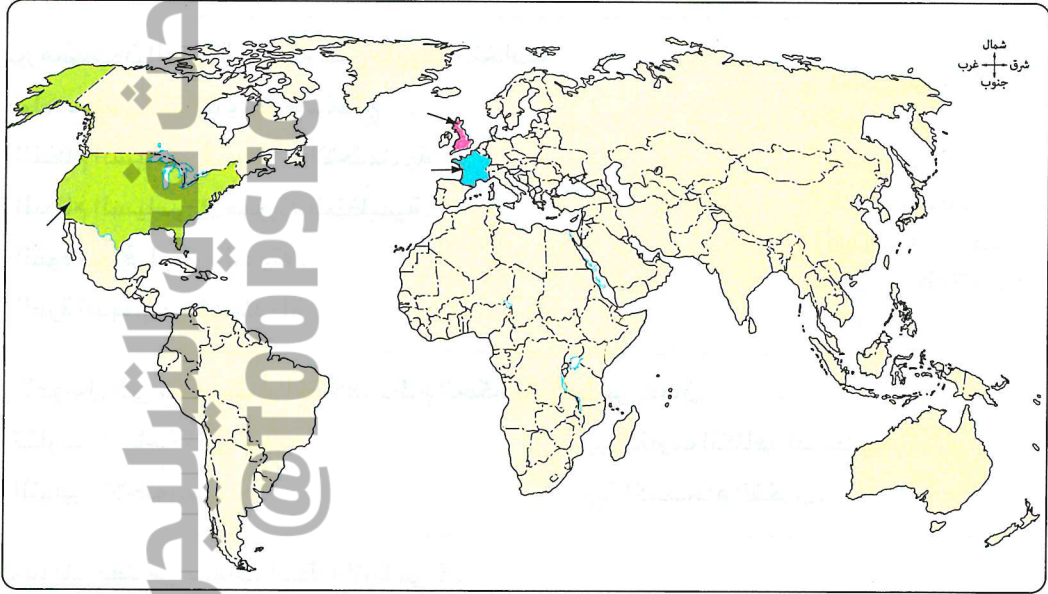
١١ شكل من أشكال النظام السياسى فى صورته المؤسسية يتمثل فى .....

- ١ إنشاء المدارس التكنولوجية. (أ)  
 ٢ إنشاء المستشفيات الحديثة. (ب)  
 ٣ إنشاء الطرق البرية الحديثة. (ج)  
 ٤ إقرار القوانين وتنفيذها. (د)

١٢ يدل احتياج دولة ما لمن يساعدها فى تحقيق المنفعة العامة لشعبها على وجود خلل فى النظام .....

- ١ الانتخابى. (أ)  
 ٢ البرلمانى. (ب)  
 ٣ السياسى فى صورته المختلفة. (ج)  
 ٤ الاقتصادى بعناصره المختلفة. (د)

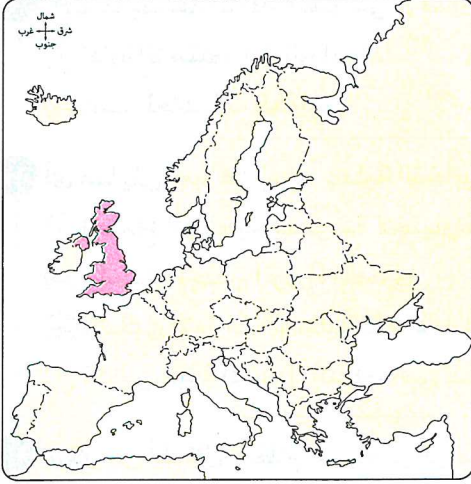
١٣ تشترك أنظمة الحكم فى الدول الثلاث المشار إليها بالخريطة التالية فى .....



- ١ وجود تداول سلمى للسلطة. (أ)  
 ٢ سيطرة البرلمان على الحكم. (ب)  
 ٣ زيادة صلاحيات رئيس الدولة. (ج)  
 ٤ طريقة اختيار السلطة التنفيذية. (د)

١٤ تقع مسئولية عدم الخلط بين مؤسسات صنع القرار السياسى فى الدولة على عاتق .....

- ١ السلطة التشريعية. (أ)  
 ٢ الهيئات القضائية. (ب)  
 ٣ السلطة التنفيذية. (ج)  
 ٤ الدستور والقانون. (د)



١٥ يتشابه نظام الحكم في دولة المغرب مع الدولة الموضحة

باللون      بالخريطة المقابلة في كونهما دول .....

- Ⓐ رئاسية .
- Ⓑ شبه رئاسية .
- Ⓒ جمهورية .
- Ⓓ ملكية .

١٦ أي مما يلي يخرج عن كونه أحد وظائف النظام السياسي في صورته الاجتماعية ؟ .....

- Ⓐ الوظيفة الاقتصادية .
- Ⓑ الوظيفة البرلمانية .
- Ⓒ الوظيفة الإدارية .
- Ⓓ الوظيفة العسكرية .

١٧ أي مما يلي يعبر عن مفهوم النظام السياسي في صورته المؤسسية ؟ .....

- Ⓐ وضع الموازنة العامة .
- Ⓑ استثمار المناطق الصحراوية .
- Ⓒ إقامة مشروعات اقتصادية .
- Ⓓ التنمية البشرية الشاملة .

(تجريبى ٢ / ٢١)

١٨ يعبر مضمون العبارة المقابلة عن طريقة انتخاب

أعضاء مجلس النواب ومنها نستنتج .....

- Ⓐ النظام السياسي في صورته الاجتماعية .
- Ⓑ النظام السياسي في صورته التنظيمية .
- Ⓒ القوة المورفولوجية للدولة .
- Ⓓ القوة الديموجرافية للدولة .

«يتألف مجلس النواب المصرى من أعضاء ينتخبون عن طريق الاقتراع العام السرى المباشر على أن يتم الاقتراع تحت إشراف أعضاء من هيئة قضائية، ويمارس هذا المجلس الرقابة على أعمال السلطة التنفيذية».

١٩ من العوامل التى ساهمت في اختلاف نظام الحكم بفرنسا عن عُمان .....

- Ⓐ تقارب المساحة الأرضية .
- Ⓑ تقارب الكثافة السكانية .
- Ⓒ التباين الاجتماعى .
- Ⓓ الانسجام الفكرى .

٢٠ أي مما يلي يعد من سمات النظام الرئاسى ؟ .....

- Ⓐ مسئولية رئيس الوزراء عن التشريع .
- Ⓑ رئيس الوزراء مسئول أمام الرئيس .
- Ⓒ تقسيم السلطة بين الرئيس والحكومة .
- Ⓓ سيطرة الحكومة على البرلمان .

٢١ تقل المسئوليات الملقاة على عاتق حاكم الدولة بصورة واضحة في .....

- Ⓐ السعودية .
- Ⓑ الولايات المتحدة الأمريكية .
- Ⓒ فرنسا .
- Ⓓ المملكة المتحدة .

٢٢ أي من أنظمة الحكم الآتية يكون بها منصب حاكم الدولة هو منصب صوري ؟ .....  
 (أ) الرئاسي . (ب) شبه الرئاسي . (ج) البرلماني . (د) الجمهوري .

٢٣ « اتجهت بعض الدول المعاصرة إلى تقوية سلطات رئيس الوزراء إلى جانب رئيس الدولة » .  
 من خلال العبارة، نستنتج أن نظام الحكم في تلك الدول هو .....  
 (أ) برلماني . (ب) رئاسي . (ج) شبه رئاسي . (د) ملكي .

٢٤ تشترك أنظمة الحكم الديمقراطية بدول العالم في .....  
 (أ) وجود دستور متشابه بين الدول . (ب) التوازن بين السلطتين المركزية والمحلية .  
 (ج) الدور الاجتماعي للنظام السياسي . (د) زيادة دور السلطة التنفيذية بشكل ملحوظ .



(تجريبى ٢ / ٢١)

٢٥ الصورة التي أمامك تمثل إحدى السلطات التي تميز نظام الحكم الديمقراطي وهي .....  
 (أ) السلطة التشريعية .  
 (ب) السلطة المحلية .  
 (ج) السلطة القضائية .  
 (د) السلطة التنفيذية .

٢٦ أي من العبارات التالية يمكن اعتبارها الأفضل لتمثيل الحكم الديمقراطي ؟ .....  
 (أ) انفراد كل سلطة بمهامها واحترام الدستور .  
 (ب) انفراد السلطة التشريعية بسن القوانين وتنفيذها .  
 (ج) تركيز السلطة في يد رئيس الوزراء .  
 (د) تقاسم السلطات بين رئيس الدولة والحكومة .

٢٧ تتباين طبيعة العلاقة بين سلطات الدولة الثلاث نتيجة .....  
 (أ) الالتزام بالقوانين البرلمانية . (ب) اختلاف المجتمعات حضارياً .  
 (ج) التأثير بالدول الكبرى . (د) تبعية الدول النامية للمتقدمة .

٢٨ « يُعد المجتمع عاملاً مشتركاً بين صنع القرار وتنفيذه » . يتوافق مضمون العبارة السابقة مع .....  
 (أ) الحكم الديمقراطي . (ب) الحكم الديكتاتوري .  
 (ج) النظام العالمي الجديد . (د) العولمة الاقتصادية .

٢٩ « من خصائص أنظمة الحكم الديمقراطي مبدأ الفصل بين السلطات » . في ضوء العبارة وضع :

(دور أول ٢١)

يُعد قيام الحكومة باعتماد موازنة الدولة دون موافقة البرلمان .....  
 (أ) تدخل السلطة التشريعية في شؤون السلطة القضائية .  
 (ب) تدخل السلطة القضائية في شؤون السلطة التنفيذية .  
 (ج) تدخل السلطة التنفيذية في شؤون السلطة التشريعية .  
 (د) تدخل السلطة القضائية في شؤون السلطة التشريعية .

٣٠ يتشابه النظام الرئاسي والنظام البرلماني في .....

- ① سلطة رئيس الدولة.  
 ② مصدر التشريع.  
 ③ سلطات رئيس الوزراء.  
 ④ عدم الفصل بين السلطات.

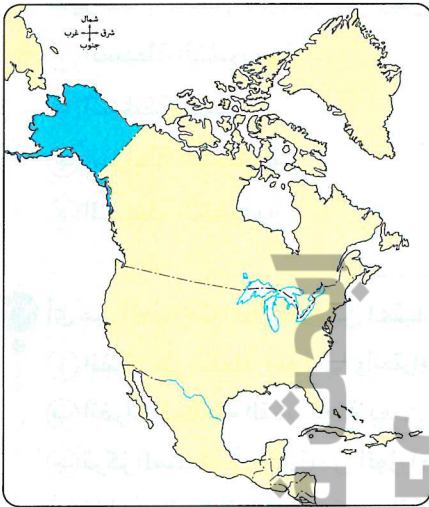
٣١ إذا وقع رئيس دولة ما معاهدة سياسية طرفها الآخر رئيس وزراء دولة أخرى فإن الدولتين على الترتيب .....

- ① رئاسية وبرلمانية.  
 ② برلمانية وشبه رئاسية.  
 ③ رئاسيتان.  
 ④ برلمانيتان.

٣٢ يتم من خلال الانتخاب المباشر في مصر اختيار .....

- ① الرئيس والهيئة القضائية.  
 ② البرلمان والهيئة القضائية.  
 ③ الرئيس وغالبية أعضاء البرلمان.  
 ④ الحكومة وغالبية أعضاء البرلمان.

٣٣ في الخريطة المقابلة يمثل اللون الأزرق جزء من دولة



ذات نظام حكم .....

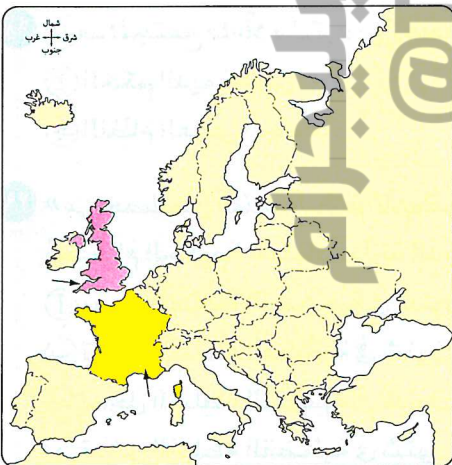
- ① رئاسي.  
 ② برلماني.  
 ③ شبه رئاسي.  
 ④ ملكي.

٣٤ «الوزارة تتبنى مبدأ المسؤولية الجماعية لها أمام مجلس النواب وذلك المجلس مسئول أمام الشعب».

العبارة السابقة تصف أحد مزايا نظام الحكم وهو .....

- ① الرئاسي.  
 ② شبه الرئاسي.  
 ③ البرلماني.  
 ④ الملكي.

٣٥ تتشابه أنظمة الحكم بين الدولتين المشار إليهما



بالخريطة المقابلة في .....

- ① طريقة اختيار أعضاء البرلمان.  
 ② سلطات البرلمان.  
 ③ طريقة تعيين رئيس الدولة.  
 ④ سلطات رئيس الدولة.



٣٦ فرنسا من الدول التي يوجد بها .....

- ١) فصل تام بين السلطات الثلاثة.  
٢) رئيس الحكومة هو رأس الدولة.  
٣) البرلمان هو مصدر السلطة.  
٤) ازدواجية في السلطة التنفيذية.

٣٧ يمكن النظام السياسي بالدولة من القيام بوظائفه بسبب .....

- ١) كثرة موارد الدولة.  
٢) كبر المساحة الأرضية.  
٣) كبر حجم السكان.  
٤) امتلاك السلطة والقوة.

٣٨ «الانتخابات أداة للاختيار، وبمقتضاها تتحقق المساواة بين المواطنين».

- ١) تحقيق التداول السلمي للسلطة.  
٢) زيادة مركزية الحكومة بالدولة.  
٣) زيادة القوة الديموجرافية للدولة.  
٤) تحقيق القدرة على الصمود الاقتصادي.

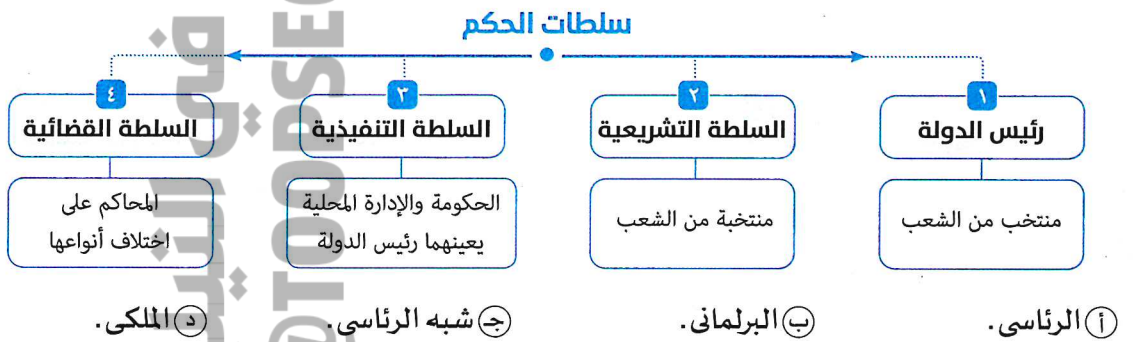
٣٩ يُعد العامل الأكثر تأثيراً على كفاءة النظام الانتخابي داخل الدولة امتلاكها للقوة .....

- ١) المورفولوجية.  
٢) الاقتصادية.  
٣) الديموجرافية.  
٤) التنظيمية.

٤٠ يتمثل الهدف الرئيسي من استخدام النظام السياسي للسلطة اجتماعياً في .....

- ١) تحقيق الفصل بين السلطات.  
٢) تنفيذ نصوص الدستور.  
٣) قدرة الدولة على حماية مواردها.  
٤) إخضاع الشعوب لإرادته.

٤١ يوضح الشكل التالي نظام الحكم .....



٤٢ «أجريت انتخابات في مصر عام ١٩٢٣م فاز فيها حزب الوفد برئاسة سعد زغلول والذي شكل الحكومة».

- ١) برلماني.  
٢) رئاسي.  
٣) جمهوري.  
٤) شبه رئاسي.

٤٣ العملية الانتخابية لها جوانب جغرافية كثيرة تتناولها الجغرافيا السياسية يخرج عنها .....

- ١) الميزان التجاري.  
٢) التركيب السكاني.  
٣) الأنشطة الاقتصادية.  
٤) التعداد السكاني.

- ٤٤ تتمثل الآلية التي يتم بها تحديد عدد أقل لتمثيل عدد أكبر في مواقع اتخاذ القرارات في .....  
 (أ) السلطة التشريعية.  
 (ب) السلطة التنفيذية.  
 (ج) النظام الرئاسي.  
 (د) النظام الانتخابي.

المحافظة	عدد الناخبين المسجلين ٢٠١١ م	عدد الناخبين المسجلين ٢٠١٤ م	نسبة الزيادة %
القاهرة	٦٥٦٣٣٥٠	٦٧٧١٤٣٧	٣,٢
الدقهلية	٣٦٩١٧٢٣	٣٨٦٠٨٨٥	٤,٦
بورسعيد	٤٣٧١٣٦	٤٥٨٤٨١	٤,٩
الإسكندرية	٣٣٠٣٩٥٧	٣٤٦٧١٣٩	٤,٩
الغربية	٢٩١٨٦٤٧	٣٠٦٣١٢٩	٤,٩

- ٤٥ أي من خطوات العملية الانتخابية الآتية هي الأكثر اهتمامًا بتحليل بيانات الجدول المقابل ؟ .....  
 (أ) تقسيم الدوائر.  
 (ب) الترشح للانتخابات.  
 (ج) إجراء الانتخابات.  
 (د) تحديد الفائز.

تطور أعداد الناخبين المسجلين بقاعدة بيانات الناخبين في عامي ٢٠١١ م و ٢٠١٤ م

- ٤٦ الحرية السياسية والحرية الفكرية جناحان يقودان المجتمع للتقدم، يتمثل ذلك في أي من المراحل الانتخابية ؟ .....  
 (أ) الترشح للانتخابات.  
 (ب) فرز الأصوات.  
 (ج) تقسيم الدوائر.  
 (د) تحديد الفائزين.

(دورتان ٢٢)

٤٧ «صوتك أمانة فاحرص دائمًا على المشاركة في الانتخابات على كافة المستويات».

- في ضوء العبارة السابقة فإن التطبيق العملي لتلك العبارة يظهر في مرحلة .....  
 (أ) إعلان الفائزين.  
 (ب) الترشح للانتخابات.  
 (ج) تقسيم الدوائر.  
 (د) إجراء الانتخابات.

(تجريبى ٢٣)

٤٨ حدد أي من العمليات الآتية تتم قبل العملية الموضحة في الصورة المقابلة .....



- (أ) إجراء الانتخابات وفرز الأصوات.  
 (ب) فرز الأصوات وتحديد الفائز.  
 (ج) تقسيم الدوائر والترشح للانتخابات.  
 (د) الترشح للانتخابات وتحديد الفائز.

(دور أول ٢٤)

٤٩ أحد اهتمامات جغرافية الانتخابات يتم دراستها قبل العملية الانتخابية، وهي .....

- (أ) دراسة السلوك الانتخابي للسكان.  
 (ب) توزيع الدوائر الانتخابية للدولة.  
 (ج) دراسة أثر الانتخابات على الظروف البشرية.  
 (د) دراسة أثر الظروف الاقتصادية على سلوك الناخبين.

٥٠ أي مما يلي يُعد أحد مجالات الدراسة التي تهتم بها جغرافية الانتخابات ؟ .....

- (أ) معرفة تأثير فوز مرشح على دائرته الانتخابية.  
 (ب) تعديل سلوك الناخبين.  
 (ج) تحسين الظروف المعيشية للناخبين.  
 (د) توفير الخدمات في الدوائر الانتخابية.